

ВЕСЁЛЫЙ СЧЕТ МАЛЫШАМ.



- Презентацию подготовила педагог дополнительного образования Сергеева Н. А.

ЦИФРА 0.



Цифра вроде буквы О –
Это ноль иль ничего.
Круглый ноль такой
хорошенький,
Но не значит
ничегошеньки!
Не похож он на пятак,
Не похож на бублик,
Круглый он, да не дурак,
С дыркой, да не бублик!

ЦИФРА 1.



Вот один или единица,
очень тонкая как
спица.




Что легче: один
килограмм ваты или
килограмм железа?

- Шла бабка в Москву, а
навстречу ей три
старика. Сколько
человек шло в
Москву?



ЦИФРА 2.

 А вот это – цифра два.

Полубуйся, какова:

Выгибает двойка шею,


Волочится хвост за нею.

- Два похожа на гусенка
с длинной шеей, шеей тонкой.




Реши задачки

Найди на рисунке все цифры 2 и все предметы, которых по два.



Покажи предметы, которых всегда по два.



5

ЦИФРА 3

А вот это —
посмотри,
Выступает цифра
три.

Тройка — третий из
значков

Состоит из двух
крючков.



Волшебный квадрат

1	2	3
3		2
2	3	1

ЦИФРА 4.

- Гляди, четыре – это стул, Который я перевернул.



Думай, считай, отгадывай.

- Ну-ка, сколько здесь ребят на горе катается?

Трое в саночках сидят, один дожидается.

- Четыре сороки пришли на уроки. Одна из сорок не знала урок.

Сколько прилежно трудилось сорок?

- Летели утки: одна впереди, одна позади и две посередине. Сколько всего уток летело?

ЦИФРА 5.

А потом пошла плясать
По бумаге цифра пять.
Руку вправо протянула,
Ножку круто изогнула.



Играем с цифрой 5



ПЯТЬ ПАЛЬЦЕВ



ПЯТЬ РЫБОК

5

ПЯТЬ

Раскрась ПЯТЬ лепестков.



Сосчитай шары.



Обведи цифру 5.



Отгадай загадку. Найди отгадку среди картинок.

Пять комнат, одна дверь.



ЦИФРА 6.



- Цифра 6 – дверной замочек: сверху крюк, внизу кружочек.

Задачи в стихах.

- Три больших, три маленьких,
Маленьких, удаленьких –
Целая семья опят. Сколько их на пне сидят?
- Шесть веселых медвежат за малиной в лес спешат.
Но один малыш устал, от товарищей отстал.
А теперь ответ найди: сколько мишек впереди?
- В семье пять сыновей. У каждого из них одна сестра. Сколько всего детей в семье?

ЦИФРА 7.

- Вот семерка кочерга.
У нее одна нога.
- *Дни недели.*
В понедельник-
мандарин, а во
вторник-апельсин. В
среду-шоколад, в
четверг-мармелад. В
пятницу-виноград, в
субботу-печенье, а в
воскресенье –
варенье.



ЦИФРА 8.



- У восьмерки два
кольца
Без начала и конца.
- Цифра восемь так
вкусна
Из двух бубликов она.

Думай, считай, отгадывай.

- Семь малюсеньких котят, что дают им – все едят. А один сметаны просит. Сколько же котятков? (8)
- У этого цветка четыре лепестка. А сколько лепестков у двух таких цветков? (*Восемь*)
- У семи братьев по одной сестре. Сколько всего детей? (*Восемь*)
- Когда козе исполнится семь лет, что будет дальше? (*Пойдет восьмой*)

ЦИФРА 9.

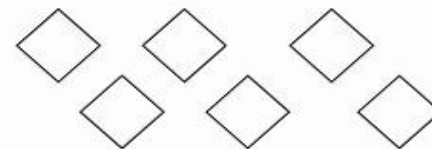
- - Девять, как и шесть,
Вглядись.
Только хвост не
в верх, а вниз.
- Цифра девять, иль девятка
Цирковая акробатка:
Если на голову встанет,
Цифрой 6 девятка
станет.



Всё
ли
верно
?

Соответствует ли цифра количеству фигур на каждой карточке?

7



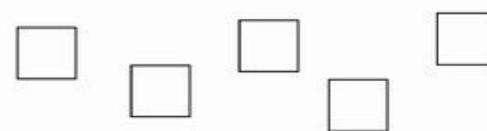
5



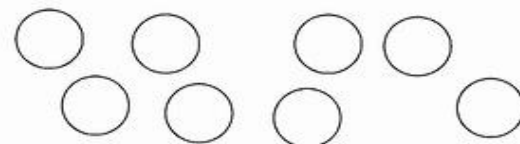
8



4



9



ЦИФРА 10

- Ноль встает за единицей
Цифра 10 на странице.
- За девятью идет
десятка.
Ты это знаешь?
Молодец!
Сочти все пальцы по
порядку –
И счету нашему конец.



Стихотворение про цифры.

- Пробегает дикобраз, это – раз.

Чистит перышки сова, это – два.

Третьей стала росомаха, а четвертой – черепаха.

Серый волк улегся спать, это – пять.

Попугай в листве густой, он – шестой.

Вот лосенок рядом с лосем, это будет семь и восемь.

Девять – это бегемот. Рот, как бабушкин комод.

В клетке ходит лев косматый, он последний, он десятый.

Дальше мне не сосчитать – надо снова начинать!