








В одной шеренге стояло **8** мальчиков.  
Сколько мальчиков в двух таких шеренгах?

**В вазе стояло по 3 цветка.  
Сколько цветов в 7 таких вазах?**






# Тетрадь стоит 4 рубля. Сколько стоят 6 таких тетрадей?



$$4 \times 6 = 24$$


На тарелке ...  
Сколько ... ?



□  $3 + 3 + 3 = 9$


□  $3 \times 3 = 9$

Тетрадь стоит 5 рублей. Сколько стоят 4 таких тетради?



- $5+5+5+5=20$ (руб.)
- $5 \times 4=20$ (руб.)

В одной ложке 6 граммов соли.  
Сколько ...?



$$6 + 6 + 6 + 6 = 24$$

$$6 \times 4 = 24$$

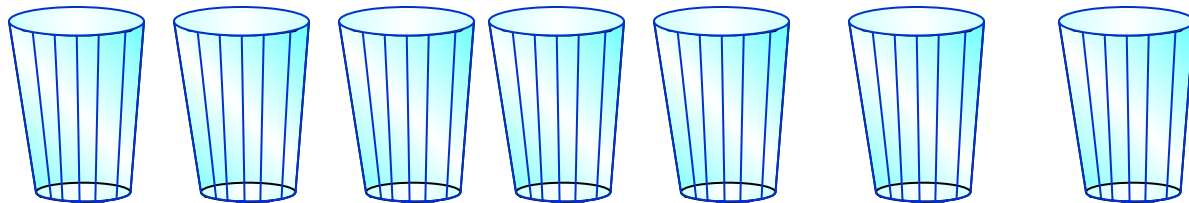
В пакете ...  
Сколько .....?



▣  $4 + 4 + 4 + 4 + 4 = 20$

▣  $4 \times 5 = 20$

# На столе стояли ....



□ Сколько стаканов на **3** таких столах?

$$7 + 7 + 7 = 21 \text{ (с.)}$$

$$7 \times 3 = 21 \text{ (с.)}$$



# Кочан капусты весит 3 кг.



- Какова масса 4 таких кочанов?
- $3 + 3 + 3 + 3 = 12$  (кг)
- $3 \times 4 = 12$  (кг)

**Найди вместимость 5 трёхлитровых банок?**




- $3 + 3 + 3 + 3 + 3 = 15$  (л)
- $3 \times 5 = 15$  (л)

# Реши задачи

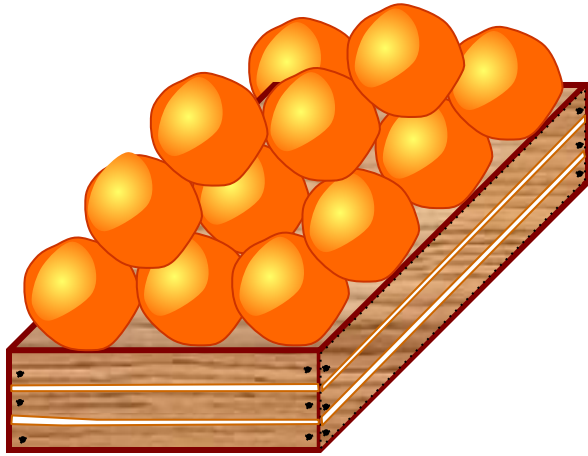
- Карандаш стоит 4 рубля. Сколько уплатят за 3 таких карандаша?
- $4 \times 3 = 12$  (руб.)
- На скворечник требуется 8 планок. Сколько нужно планок для 2 таких же скворечников?
- $8 \times 2 = 16$  (п.)
- На одной полке 10 ниг. Сколько книг на 4 таких полках?
- $10 \times 4 = 40$  (к.)

# Сколько роз в 3 таких вазах?



$$7 \times 3 = 21 \text{ (р.)}$$

Сколько апельсинов в 2 таких ящиках?



□ 12

$$12 \times 2 = 24 \text{ (а.)}$$


# Запиши решение задач

- **$8 \times 4 = 32$  (руб.)** Одна булочка стоит 8 рублей. Столько нужно заплатить за 4 таких булочки?
- **$9 \times 3 = 27$  (с.)** В ряду 9 стульев. Сколько стульев в 3 таких рядах?
- **$5 \times 8 = 40$  (руб.)** У Лены 8 монет по 5 рублей. Сколько денег у Лены?
- **$6 \times 5 = 30$  (к.)** В коробке 6 карандашей. Сколько карандашей в 5 таких коробках?

**Сколько рыб в 6 таких связках?**




**Масса одного карася 3 кг.**

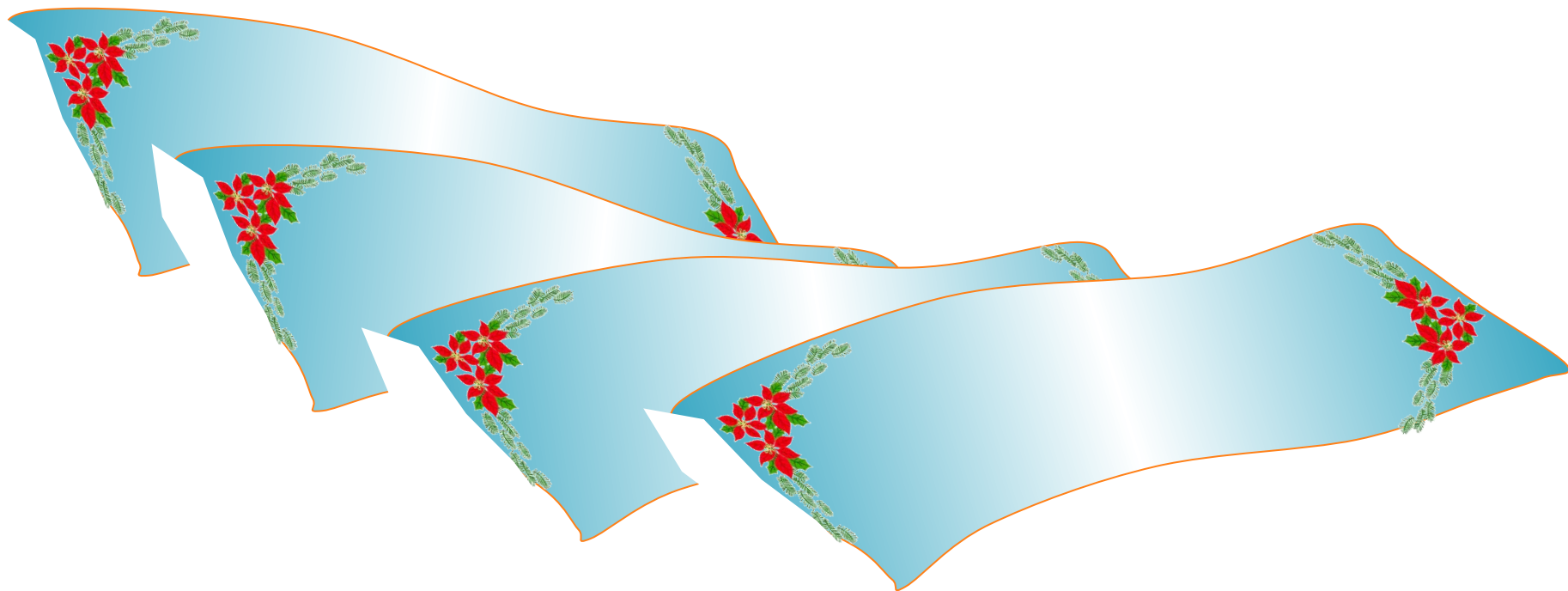




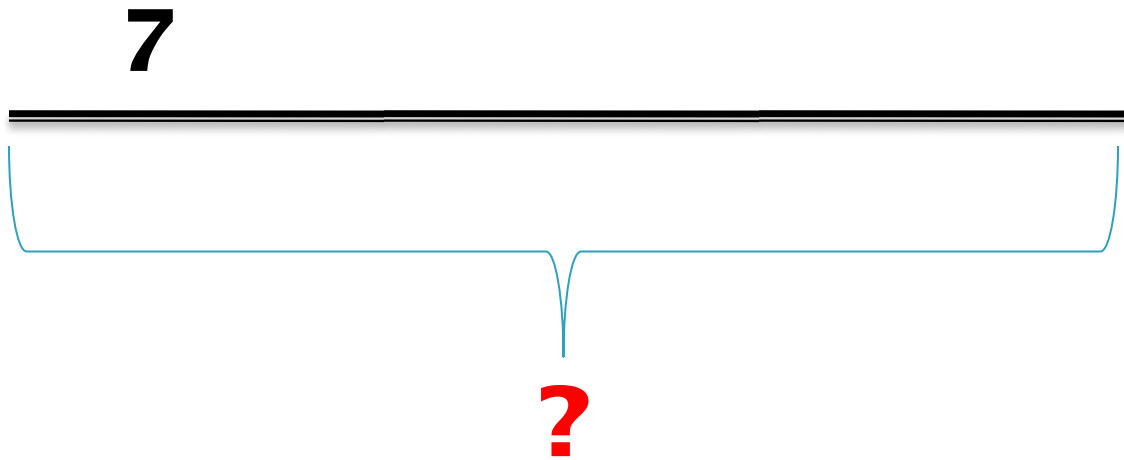
**В одно ведро вмещается 7  
ЛИТРОВ ВОДЫ.**



**Одно полотенце стоит 20 рублей.**

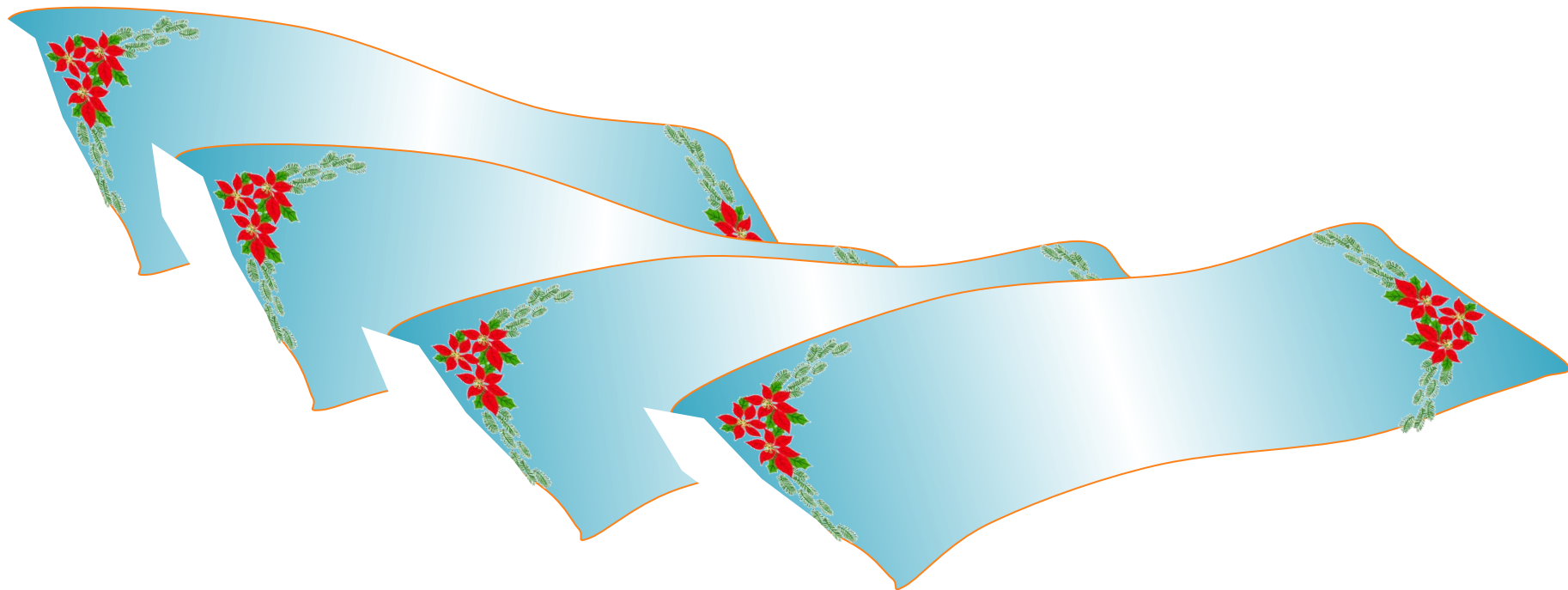


**Составь и реши задачу.**




□  **$7 \times 3 = 21$**

**Одно полотенце стоит 20 рублей.  
Сколько стоят 4 таких полотенца?**



$$20 \times 4 = 80 \text{ (руб.)}$$

**В одно ведро вмещается 7  
литров воды. Сколько литров  
воды в 6 таких вёдрах?**



$$7 \times 6 = 42 (\text{л})$$

**Масса одного карася 3 кг. Какова  
масса 7 таких карасей?**

$$3 \times 7 = 21 \text{ (кг)}$$