

# Составить задачу.

- Было – 8  
Прилетели – 3  
Стало – ?



# Реши задачу.

Краткая запись, решение и ответ.

В одной коробке 7 шаров, а во второй на 3 шара меньше.  
Сколько шаров в двух коробках?



# РЕШИ ЗАДАЧИ.

На уроке красками  
рисуют 8 детей, а  
карандашами  
на 3 ребёнка  
меньше. Сколько  
человек присутствуют  
на уроке?

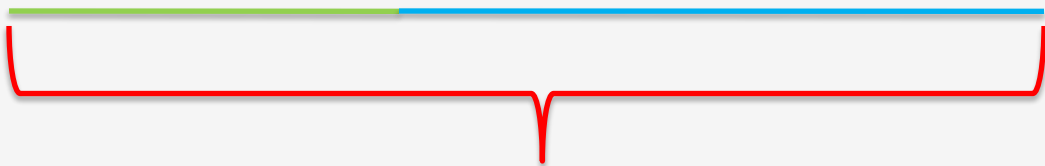


В одной коробке 6 цветных карандашей, а в другой на 3 карандаша больше. Сколько

# Составь задачу по чертежу.

8

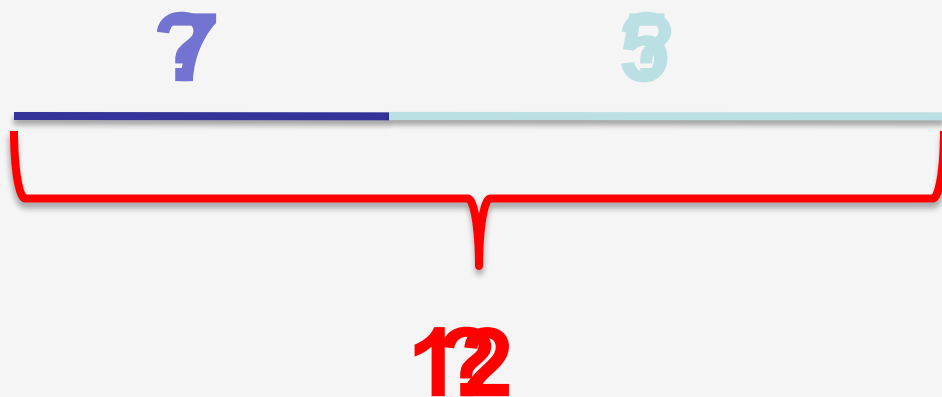
10



13

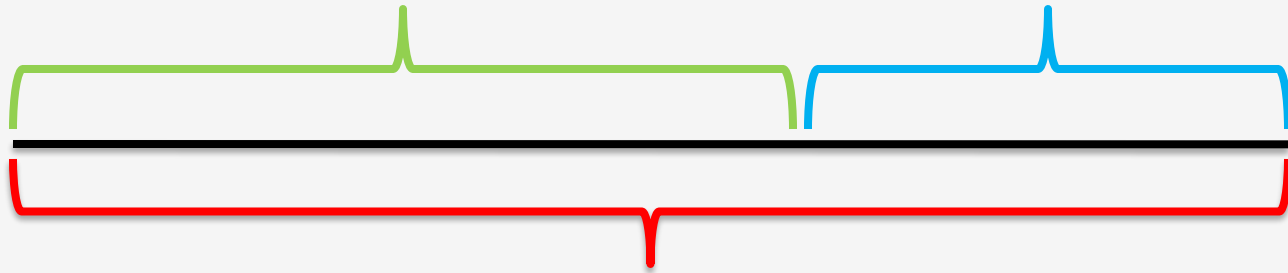


Купили 7 билетов в кино и 5 билетов в театр.  
Сколько **всего** билетов купили?



60

40



100



# Запиши решение задачи

$$8 + 6 = 14 \text{ (шт.)}$$

Съели – 6 шт.

Осталось – 8 шт.

Было – 18 кг

$$18 - 8 = 10 \text{ (кг)}$$

Осталось – 8 кг

Было – 11 кг

$$11 - 8 = 3 \text{ (кг)}$$

Осталось – 8 кг

Было – 9 кг

$$9 + 7 = 16 \text{ (кг)}$$

продали – 7 кг

Осталось – 9 кг



*Составь к задаче краткую запись и реши её.*

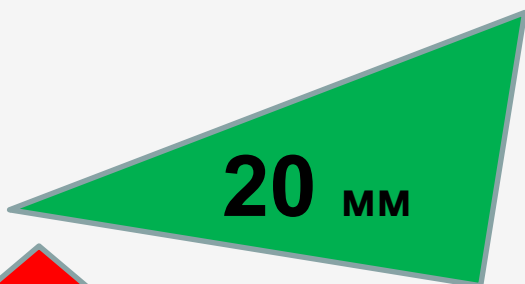
**В кинотеатре на первом ряду занято 9 мест, а на втором на 3 места меньше. Сколько мест занято ?**

**На одной полке стояло 6 книг, а на другой на 3 больше. Сколько книг стоит на двух полках?**


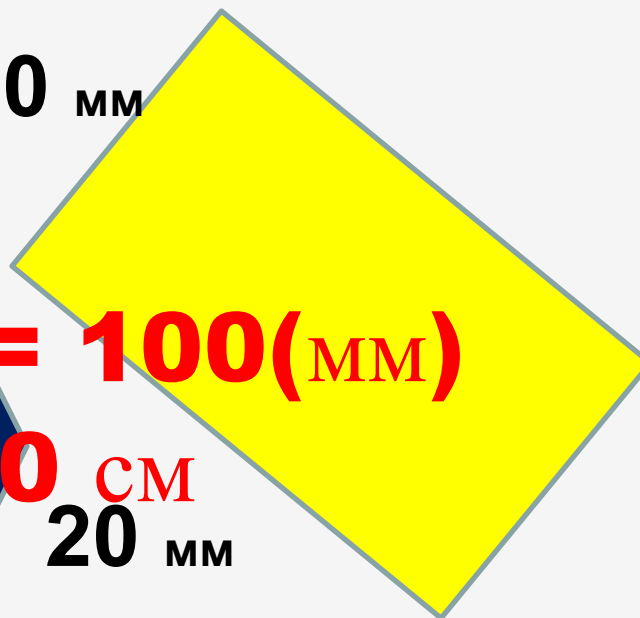




Выбери из фигур четырёхугольник



30 мм



$$20 + 20 + 30 = 100(\text{мм})$$

$$100 \text{ мм} = 10 \text{ см}$$

30 мм

20 мм



*Составь краткую запись к задаче и реши её.*

**Папа принёс 9 литров воды, а сын на 2 литра меньше. Сколько воды принесли они вместе?**

**Дочь вымыла 5 тарелок, а мама на 3 тарелки больше. Сколько тарелок они вымыли вместе?**



**В корзине было 25 мандаринов. Несколько мандаринов переложили в пакет, и в корзине осталось 5 мандаринов. Сколько мандаринов переложили в пакет?**

• Было - ?

Переложили – 20

Осталось – 5



# Реши задачу \*

В карточке 20 примеров, записанных в столбик, и 19 примеров, записанных в строчку. Ваня уже решил 10 примеров. Сколько примеров осталось решить Ване?

В ларьке продали до обеда 20 кг сахара, а после обеда на 7 кг меньше. Сколько килограммов сахара продали за день?



# Проверь

Было- 20 и 19  
от.- 10  
ост.- ?

Б. – от. = ост.  
\_\_\_ 10 ?

- 1)  $20 + 19 = 39$  (п.) – было.
- 2)  $39 - 10 = 29$  (п.) – осталось.

$$(20 + 19) - 10 = 29 \text{ (п.)}$$

До - 20 кг

После - ?, на 7 кг меньше

}

?

**До + после = всего**

20 \_\_\_\_\_ ?

- 1)  $20 - 7 = 13$  (кг) – после.
- 2)  $20 + 13 = 33$  (кг) – всего.

$$20 + (20 - 7) = 33 \text{ (кг)}$$



- На полке было 37 книг. С полки взяли сначала 6 книг, а потом ещё 4 книги. Сколько книг осталось на полке?
- В первой клетке было 8 кроликов, а во второй на 3 кролика больше. Сколько кроликов в двух клетках?



# Записать решение.

- Когда из коробки взяли 16 кубиков, там осталось 4 кубика. Сколько кубиков было в коробке?
- В бочке было 40 литров воды. Когда на поливку взяли несколько литров, в ней осталось 15 литров. Сколько литров воды взяли?



- Книга стоит 40 рублей, а альбом на 20 рублей дешевле. Сколько стоят книга и альбом вместе?
- В книжном шкафу на первой полке 20 книг, а на второй 16 книг. Взяли 11 книг. Сколько книг осталось в книжном шкафу?





## Реши задачи \*

- У Тани было 17 кассет с фильмами о животных и 4 с мультфильмами, на Новый год ей подарили ещё 4 кассеты. Сколько кассет стало у Тани?
- Мальчик поймал 11 карасей, а лещей на 2 меньше. Сколько всего рыбы поймал мальчик?



## Дополни.

- У мамы было 50 рублей. Она истратила **28** рублей.

Сколько денег осталось у мамы?

- Папа поймал 14 рыбок, а потом ещё **7** рыб.

Сколько рыб поймал папа?



# Поставь вопрос

- У Тони 14 пятёрок, а Вали 9.

Сколько пятёрок купят девочки вместе? у Вали?

- Бабушка испекла 22 пирожка. После обеда осталось 9 пирожков.



Сколько пирожков съели?



# Составь задачу.

24



6



На сколько ... ?



# Составь задачу.



на 10 меньше

?



**У Кати было 10 рублей, мама дала ей  
две монеты по 5 рублей.  
Сколько денег стало у Кати?**

$$10 + (5+5) = 20 \text{ (руб.)}$$



- В одной коробке было 12 карандашей, а в другой 8 карандашей. Вова 4 карандаша потерял. Сколько карандашей осталось у Вовы?

$$(12 + 8) - 4 = 16 \text{ (к.)}$$



- Когда из коробки взяли 5 пуговиц , а потом 12, там осталось ещё 4 пуговицы. Сколько пуговиц было в коробке?

$$(5 + 12) + 4 = 21 \text{ ( п.)}$$





- На одной странице наклеили 14 марок, а на другой на 3 марки меньше. Сколько марок на двух страницах?

$$14 + (14 - 3) = 25 \text{ (м.)}$$



# Составь обратные задачи

Было	12	?	12
Привезли	8	8	?
Стало	?	20	20



# Реши задачу \*

- В киоске было 40 кг риса, а пшена на 15 кг меньше. Сколько килограммов крупы было в киоске?

- Расстояние от школы до аптеки 50 метров, а от аптеки до дома на 12 метров меньше. Каково расстояние от школы до дома?



# Выбери правильное решение

- Когда из коробки достали 14 карандашей, там осталось 2 красных и 4 синих карандаша. Сколько карандашей было в коробке первоначально?

$$14 + (2 + 4) = 20$$

$$14 - (2 + 4) = 8$$

$$14 - 2 + 4 = 16$$



- У Коли было 7 больших и 12 маленьких машинок. Когда он подарил несколько машинок другу, у него осталось 10 машинок. Сколько машинок подарил Коля?

$$(7 + 12) + 10 = 29$$

$$(7 + 12) - 10 = 9$$

$$12 - 7 + 10 = 15$$



Ваня вырезал 16 маленьких и 4 больших кружка. На поделку он потратил 15 кружков. Сколько кружков у Вани осталось?

$$(16 + 4) + 15 = 31$$

$$(16 + 4) - 15 = 5$$

$$(16 - 4) + 15 = 27$$



- На автостоянке стояло 13 автомобилей. Приехало ещё 3 грузовика и 5 легковых машин. Сколько машин стало на автостоянке?

$$13 - (3 + 5) = 5$$

$$13 + (3 + 5) = 21$$

$$13 + 3 - 5 = 11$$

$$13 - 3 + 5 = 15$$

