



Занимательная математика



5 класс

учитель Семёнова Т.А.



Профессор.



**Профессор ложится
спать в 8 часов
вечера и заводит
будильник на 9 часов
утра. Сколько часов
будет спать**





**К
О
Р
А
Б
Л
Ь**



Рядом с берегом со спущенной на воду верёвочной лестницей стоит корабль. У лестницы 10 ступенек. Расстояние между ступеньками 30 см. Океан спокоен, но начинается прилив, который поднимает воду за час на 15 см. Через сколько времени покроется водой третья ступенька верёвочной лестницы?

Марья Ивановна

**заплатила торговцу
персиками за его товар
12 рублей, но, поскольку
фрукты были мелкими,
она заставила продавца
добавить сверх того
еще 2 персика. После
этого стоимость
каждой дюжины
персиков уменьшилась
на один рубль. Сколько**

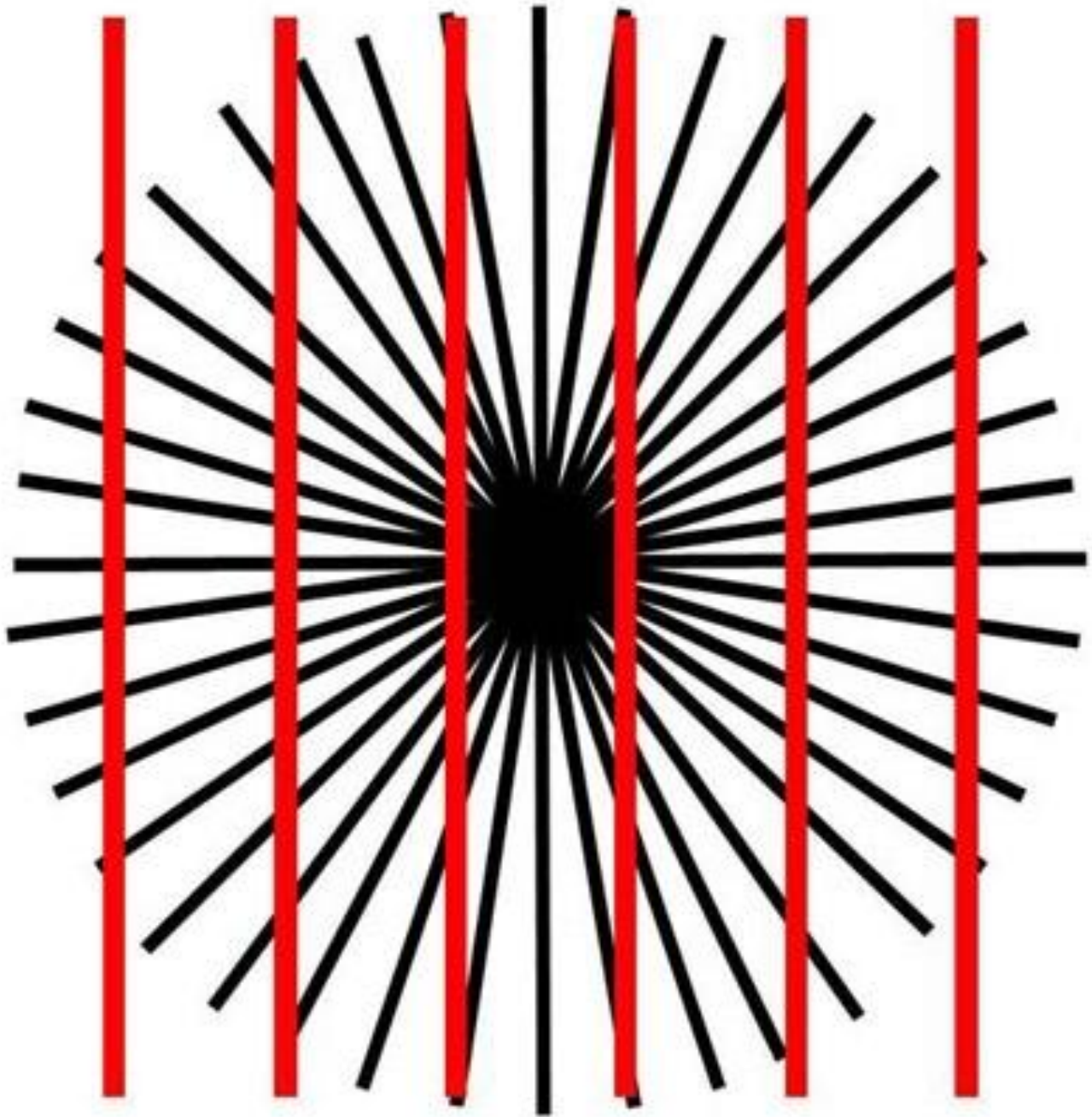
Персики.




Конфеты.

Мальчик купил в магазине конфеты. Четверть из них он съел по дороге, 3 конфеты дал встретившейся однокласснице, а половину принес домой. Сколько всего конфет он купил? Постарайтесь решить эту задачу устно.







*Какой круг больше, который
в центре правого или левого
цветочка?*

