




Занимательная математика



5 класс

учитель Семёнова Т.А.



Профессор.



**Профессор ложится
спать в 8 часов
вечера и заводит
будильник на 9 часов
утра. Сколько часов
будет спать**





**К
О
Р
А
Б
Л
Ь**



*Рядом с берегом со
спущенной на воду
верёвочной лестницей
стоит корабль. У
лестницы 10 ступенек.
Расстояние между
ступеньками 30 см. Океан
спокоен, но начинается
прилив, который
поднимает воду за час на
15 см. Через сколько
времени покроется водой
третья ступенька
верёвочной лестницы?*

Марья Ивановна

**заплатила торговцу
персиками за его товар
12 рублей, но, поскольку
фрукты были мелкими,
она заставила продавца
добавить сверх того
еще 2 персика. После
этого стоимость
каждой дюжины
персиков уменьшилась
на один рубль. Сколько**

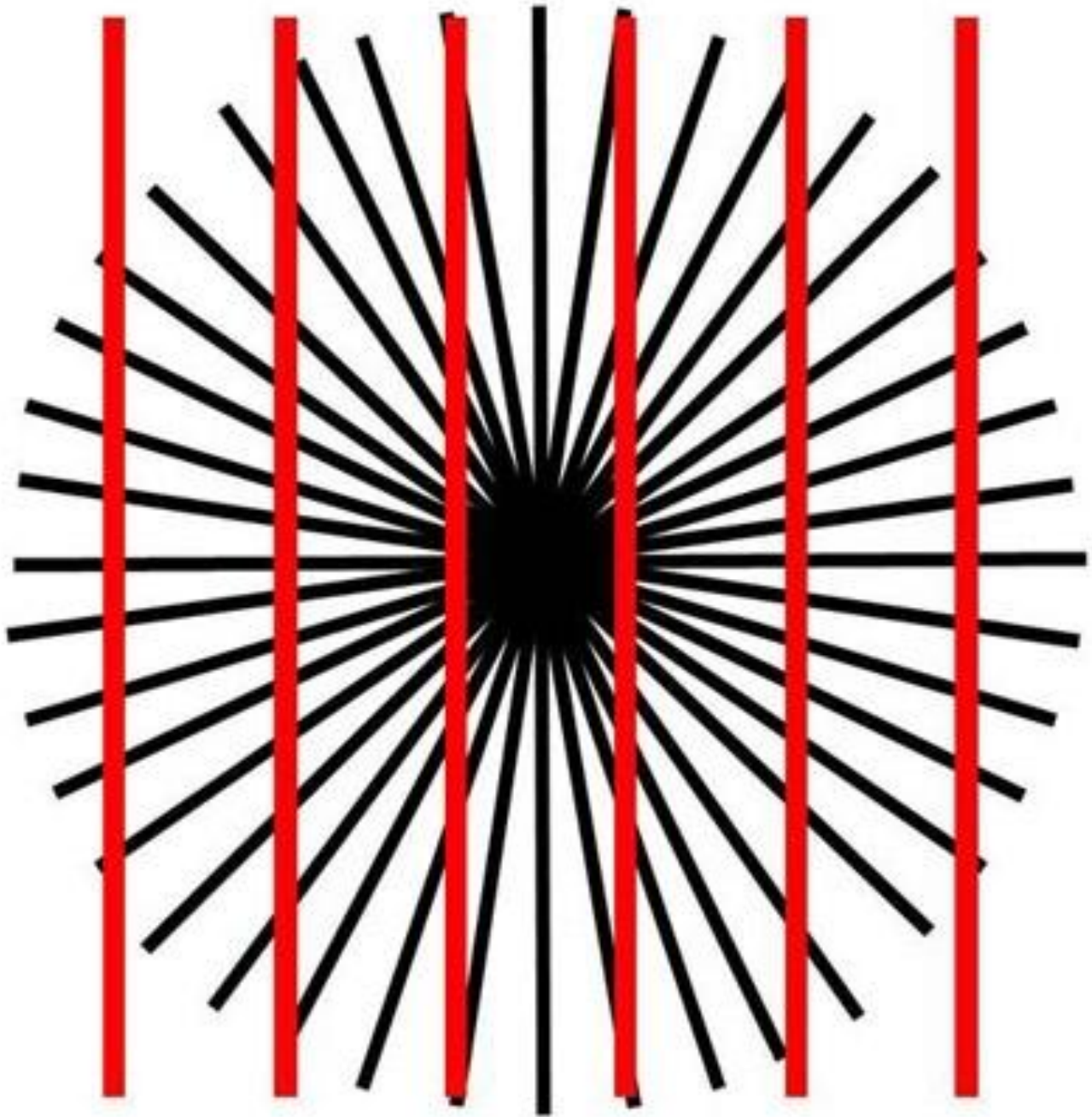
Персики.




Конфеты.

Мальчик купил в магазине конфеты. Четверть из них он съел по дороге, 3 конфеты дал встретившейся однокласснице, а половину принес домой. Сколько всего конфет он купил? Постарайтесь решить эту задачу устно.







*Какой круг больше, который
в центре правого или левого
цветочка?*

