

Урок математики

2 «а» класс

Учитель начальных классов
Тарыкина Татьяна Семеновна

Вычисли:

$28-6$

$23+20$

$79-40$

$30+4$

$95-5$

$83+10$

$16-2$

$46+4$

$58-2$

Сегодня на уроке

Я научусь...

Я узнаю...

Я смогу...

страна Геометрия




Город

Многоугольников

Отгадайте загадки



Город Многоугольников





Тема урока: « Прямоугольник и квадрат»



Вывод:

Четырёхугольник, у
которого все углы прямые,
называют
прямоугольником

Вывод:

Прямоугольник, у которого
все стороны имеют
одинаковую длину,
называют квадратом.

Итог урока

**Я понял,
что ...**

**Было
интересно ...**

**Было трудно
...**

**У меня получилось
...**



Домашнее задание:
Рабочая тетрадь,
с.34, № 3,4

Спасибо за
хорошую работу на
уроке!