

# Урок математики

## 2 «б» класс

Учитель начальных классов  
Косарева Алла Анатольевна

**Вычисли:**

$28-6$

$23+20$

$79-40$

$30+4$

$95-5$

$83+10$

$16-2$

$46+4$

$58-2$

**Сегодня на уроке**

**Я научусь...**

**Я узнаю...**

**Я смогу...**

страна Геометрия




# Город

Многоугольников

Отгадайте загадки



# Город Многоугольников





# Тема урока: « Прямоугольник и квадрат»



**Вывод:**

Четырёхугольник, у  
которого все углы прямые,  
называют  
**прямоугольником**



**Вывод:**

Прямоугольник, у которого  
все стороны имеют  
одинаковую длину,  
**называют квадратом.**

# Итог урока

**Я понял,  
что ...**


**Было  
интересно ...**

**Было трудно**

**...**

**У меня получилось**

**...**



Домашнее задание:  
Рабочая тетрадь,  
с.34, № 3,4

Спасибо за  
хорошую работу на  
уроке!