


Новикова Т.Н.
МАОУ «СОШ № 153 с углубленным изучением
иностранных языков» Г.Перми


ПУТЕШЕСТВИЕ







ДОБРО ПОЖАЛОВАТЬ!!!



Город «СОСЧИТАЙ – КА»



НАЙДИ ЗНАЧЕНИЕ ВЫРАЖЕНИЯ

$$50 - 10 =$$

$$93 - 3 =$$

$$59 + 1 =$$

$$85 - 5 =$$

$$70 + 10 =$$

$$67 - 7 + 1 =$$

ПРОВЕРЯЕМ

$$50 - 10 = 40$$

$$93 - 3 = 90$$

$$59 + 1 = 60$$

$$85 - 5 = 80$$

$$70 + 10 = 80$$

$$67 - 7 + 1 = 61$$



**МОЛОДЦЫ
!**



Верны ли утверждения?

- В числе 57 – 5 ед. и 7 дес.
- Сумма чисел 30 и 4 равна 34.
- 67 больше, чем 76.
- Если число 8 увеличить на 6, получится 15.
- Первое слагаемое – 9, второе – 7. Сумма 16.



- В числе 57 – 5 ед. и 7 дес.
- Сумма чисел 30 и 4 равна 34.
- 67 больше, чем 76.
- Если число 8 увеличить на 6, получится 15.
- Первое слагаемое – 9, второе – 7. Сумма 16.

-

+

-

-

+

Город «РЕШАЙ – КА»



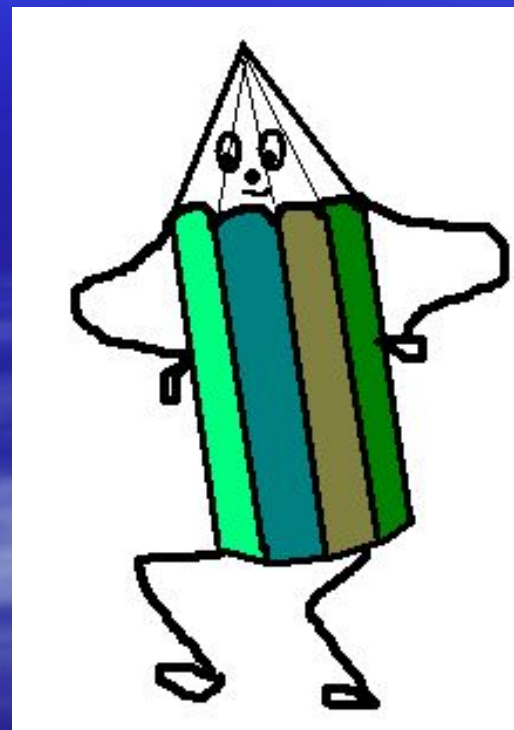
Откройте 47
страницу
учебника. Давайте
выполним № 1



ФИЗКУЛЬТМИНУТКА



**Теперь
можно переходить
к следующему
заданию!**





РЕШИМ ЗАДАЧУ 4



КРАТКАЯ ЗАПИСЬ

Девочек – 8

Мальчиков - ?, на 2 <, чем



Предлагаю устно
выполнить № 5



Начертайте минутка геометрии


прямоугольник со

сторонами 5 см и 3 см.

Найдите периметр

прямоугольника

$$P = 5 + 5 + 3 + 3 = 16 \text{ (см)}$$



Город « ЗАКРЕПЛЯЙ – КА»

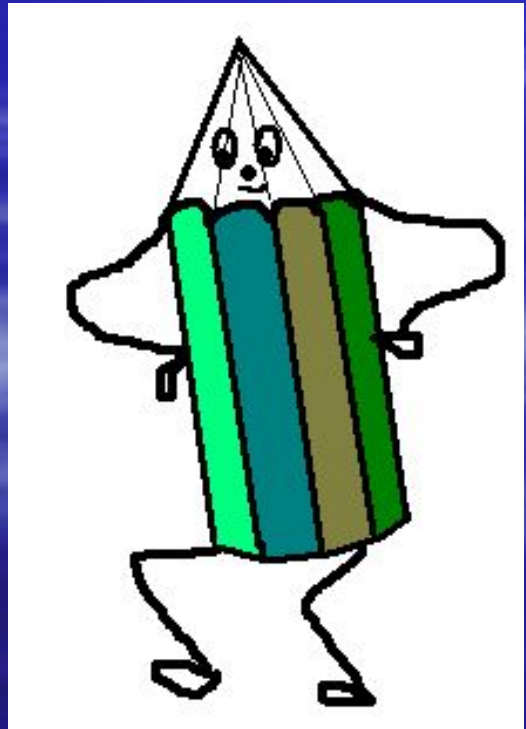




? 5

? 3

? 4



Нам пора возвращаться. Обратный путь будет очень короткий, надо записать домашнее задание.

Стр. 47 № 2, № 5

Молодцы!

