

# Віршовані задачі для 1 класу



Каже мати – квочка:  
В мене два синочки  
І чотири дочки.  
Скільки ж діток в  
квочки?



$$2 + 4 = 6$$

Три веселі киці  
Гralись на травиці.  
Рижик теж до них  
прибіг.  
Скільки кошенят усіх?




$$3 + 1 = 4$$

Шість метеликів літають  
І на квіточки сідають.  
Прилетів іще один,  
Сів на квіточку і він.  
Полічімо швидше всіх –  
Цих метеликів прудких.



$$6 + 1 = 7$$

A festive winter scene featuring several birds and baskets of red berries. In the center, a woven basket is overflowing with red berries. To its right, a yellow bucket is also filled with red berries. Three small black and white birds are perched on holly leaves with red berries. A larger yellow and brown bird is flying in the upper left, and another is in the lower right. The background is a light, textured surface with bare branches and more red berries. The entire scene is framed by an ornate, white, lace-like border.

У садок до годівниці  
Прилетіли три синиці.  
Потім ще 4 птиці.  
Скільки птиць на  
годовниці?


$$3 + 4 = 7$$

Були у нашому дворі  
Два горобці, три снігурі.  
Хто може скласти лік  
птахам –  
Всім горобцям і снігурам?



$$2 + 3 = 5$$





Три ворони посварились,  
Бо зернят не поділили.  
На їх шум ще три  
примчало.  
Скільки разом птахів  
стало?

$$3 + 3 = 6$$

Було у Марини  
Сім ягід малини.  
Шість ягідок з'їла,  
А скільки лишила?



$$7 - 6 = 1$$



Кролик вуха нашорошив -  
В нього дуже добрий слух.  
Хто ж тепер нам скаже точно  
В двох кролів є скільки вух?



$$2 + 2 = 4$$

Якось бігли через ліс вісім кіз.  
П'ять були з них білі-білі,  
Ну, а інші – сірі-сірі.  
Скільки бігло через ліс сірих кіз?





$$8 - 5 = 3$$

Йшли три їжаки,  
Несли по три буряки.  
А ви їм допоможіть –  
Буряки ті полічіть.



$$3 + 3 + 3 = 9$$



У живім куточку в школі  
Є сім рибок у воді.  
Ще одну додасть Микола.  
Скільки буде риб тоді?

$$7 + 1 = 8$$

Кошенят двох хлопчик взяв,  
Молока їм в мисці дав.  
Вісім в кошику сидять –  
Їсти хочуть та навчати.  
Годувати треба всіх –  
Скільки разом буде їх?

A detailed painting of a winter scene. In the upper part, a wooden window with six panes shows three ginger and white kittens looking out. The window is surrounded by snow and decorated with holly leaves and red berries. In the lower part, four small birds are perched on a snow-covered ledge. One is a sparrow-like bird, and the other three are smaller, possibly finches or sparrows. The scene is set in a snowy, cold environment.
$$2 + 8 = 10$$

Є в зайчихи п'ять малят –  
Неслухняних зайченят.  
На обід їх мати зве.  
Три прийшли.  
А скільки йде?




$$5 - 3 = 2$$

На травиці біля хати  
Метушаться цуценята.  
Троє білих наче сніг,  
двоє чорних.  
Скільки всіх?



$$3 + 2 = 5$$



# Список використаних джерел:

## Інтернет-ресурси:

- <http://www.allforchildren.ru>
- <http://radikal.ru>
- <http://www.ccboe.net>
- <http://www.zerniatko.files.wordpress.com>

