

# Віршовані задачі для 1 класу



Каже мати – квочка:  
В мене два синочки  
І чотири дочки,  
Скільки ж діток в  
квочки?



$$2 + 4 = 6$$

Три веселі киці  
Гralись на травиці.  
Рижик теж до них  
прибіг.  
Скільки кошенят усіх?



$$3 + 1 =$$

4

Шість метеликів літають  
І на квіточки сідають.  
Прилетів іще один,  
Сів на квіточку і він.  
Полічімо швидше всіх –  
Цих метеликів прудких.

$$6 + 1 = 7$$




У садок до годівниці  
Прилетіли три синиці.  
Потім ще 4 птиці.  
Скільки птиць на  
годівниці?


$$3 + 4 = 7$$

Були у нашому дворі  
Два горобці, три снігурі.  
Хто може скласти лік  
птахам –  
Всім горобцям і снігурам?



$$2 + 3 = 5$$





Три ворони посварились,  
Бо зернят не поділили.  
На їх шум ще три  
примчало.  
Скільки разом птахів  
стало?

$$3 + 3 =$$

6

Було у Марини  
Сім ягід малини.  
Шість ягідок з'їла,  
А скільки лишила?



$$7 - 6 = 1$$



Кролик вуха нашорошив -  
В нього дуже добрий слух.  
Хто ж тепер нам скаже точно  
В двох кролів є скільки вух?



$$2 + 2 =$$

4

Якось бігли через ліс вісім кіз.  
П'ять були з них білі-білі,  
Ну, а інші – сірі-сірі.  
Скільки бігло через ліс сірих кіз?




$$8 - 5 =$$

3

Йшли три їжаки,  
Несли по три буряки.  
А ви їм допоможіть –  
Буряки ті полічіть.



$$3 + 3 + 3 = 9$$




У живім куточку в школі  
Є сім рибок у воді.  
Ще одну додасть Микола.  
Скільки буде риб тоді?

$$7 + 1 =$$

8

Кошенят двох хлопчик взяв,  
Молока їм в мисці дав.  
Вісім в кошику сидять –  
Їсти хочуть та навчати.  
Годувати треба всіх -  
Скільки разом буде їх?

A detailed illustration of a winter scene. In the foreground, several small birds are gathered on a snow-covered ledge, surrounded by holly leaves and red berries. In the background, a window with a wooden frame looks out onto a snowy landscape. Three kittens are peering out from the window panes. The overall atmosphere is cozy and festive.
$$2 + 8 = 10$$

Є в зайчихи п'ять малят –  
Неслухняних зайченят.  
На обід їх мати зве.  
Три прийшли.  
А скільки йде?




$$5 - 3 = 2$$

На травиці біля хати  
Метушаться цуценята.  
Троє білих наче сніг,  
двоє чорних.  
Скільки всіх?



$$3 + 2 = 5$$



# Список використаних джерел:

## Інтернет-ресурси:

- <http://www.allforchildren.ru>
- <http://radikal.ru>
- <http://www.ccboe.net>
- <http://www.zerniatko.files.wordpress.com>

