

# ПРИБАВИТЬ ЧИСЛО

**7**

**Учитель начальных классов  
МОУ «СОШ №2 г. Ершова  
Саратовской области»  
Шевцова Татьяна Николаевна  
СУ «Начальная школа XXI века»  
2011-2012 уч.г.**

---



$$\square 1 + 6 = 7$$



$$2 + 5 = 7$$



□  $3 + 4 = 7$




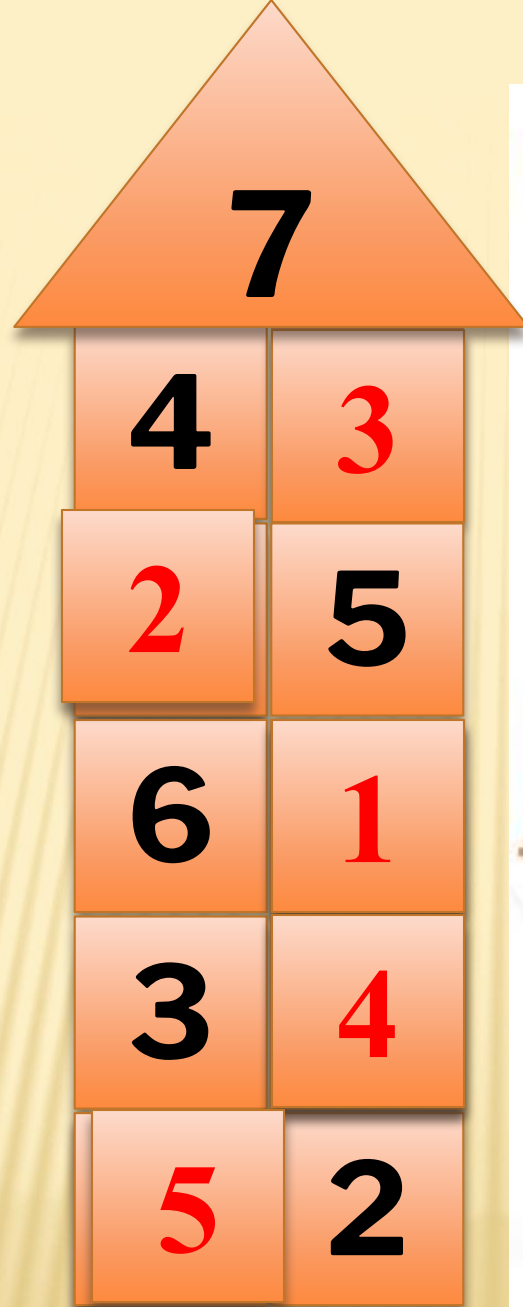
□  $4 + 3 = 7$



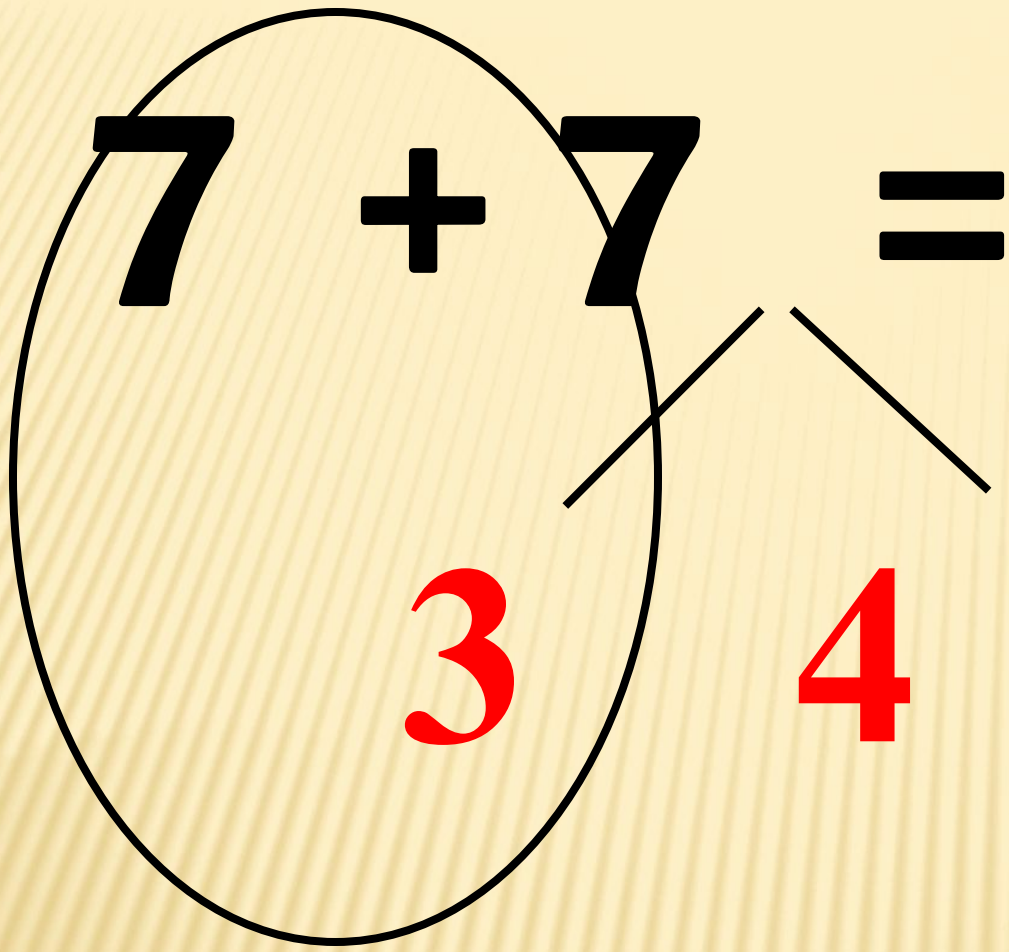
$$5 + 2 = 7$$



  $6 + 1 = 7$







$$14$$

The diagram shows the equation  $8 + 7 = 15$ . The number 8 is enclosed in a black oval. The number 7 is split into two parts: 2 and 5, with lines connecting them. The number 15 is enclosed in a black square box. The numbers 2, 5, and 15 are written in red, while 8, +, =, and 7 are in black.

$$8 + 7 = 15$$

2 5

$9 + 7 = 16$

1 6

16

# Прибавить число **7**

**Вычисли:**

$1+7$

$4+7$

$7+7$

$2+7$

$5+7$

$8+7$

$3+7$

$6+7$



МОЛОДЦЫ!