

МС(К)ОУ «Большеусинская специальная (коррекционная)  
общеобразовательная школа-интернат 8 вида»




Урок математики в 3 классе

Тема «Прибавление  
чисел 6, 5, 4, 3, 2

Учитель:  Соколова Л.Н.

2009г.



Вставить  
пропущенные  
числа

3, •, 5, •, 7, •, 9, 10

10, •, 8, •, 6, 5, •, 3, •, 1



# Назвать соседей чисел



• 13 •

• 9 •

• 6 •

• 10 •


• 8 •

• 4 •



Сравнить числа  $>$ ,  $<$ ,  $=$ .


$7 \cdot 9$	$15 \cdot 15$
$10 \cdot 1$	$10 \cdot 20$
$4 \cdot 4$	$13 \cdot 11$
$9 \cdot 5$	$14 \cdot 4$



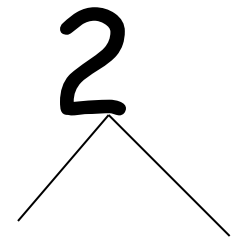


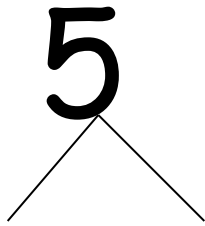
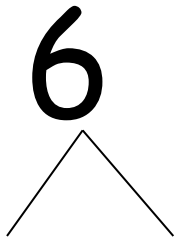
# Отгадать загадку

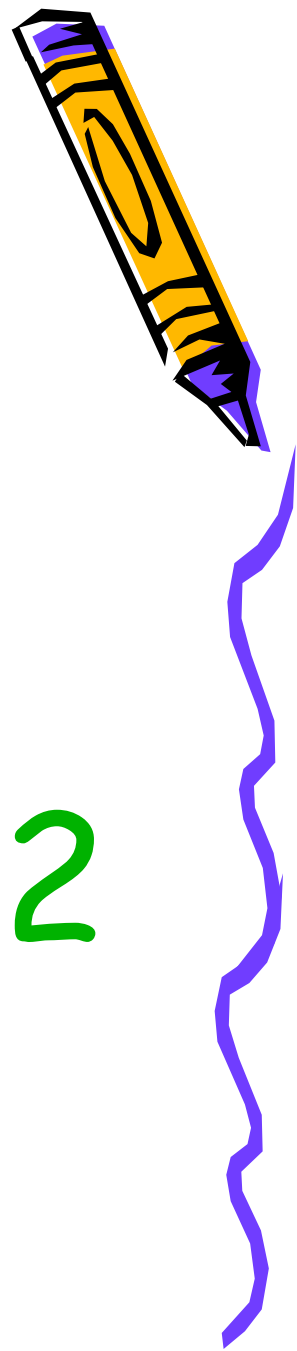
Комочек пуха,  
Длинное ухо,  
Прыгает ловко,  
Любит морковку.

(заяц)



# Разложить на два числа





Прибавление  
чисел 6, 5, 4, 3, 2



# Образец решения



$$9 + \underline{1} + \underline{5} = 15$$

$$7 + \underline{3} + \underline{2} = 12$$

$$9 + 6 = 15$$

$$7 + 5 = 12$$

$$8 + \underline{2} + \underline{2} = 12$$

$$8 + 4 = 12$$





Какой фигуры недостает  
на каждой карточке?

