

МС(К)ОУ «Большеусинская специальная (коррекционная)
общеобразовательная школа-интернат 8 вида»



Урок математики в 3 классе


Тема «Прибавление чисел 6, 5, 4, 3, 2

Учитель:
Соколова Л.Н.



2009г.

900igr.net




Вставить пропущенные числа

3, •, 5, •, 7, •, 9, 10

10, •, 8, •, 6, 5, •, 3, •, 1



Назвать соседей чисел



• 13 •

• 9 •

• 6 •

• 10 •

• 8 •

• 4 •



Сравнить числа $>$, $<$, $=$.


$7 \cdot 9$	$15 \cdot 15$
$10 \cdot 1$	$10 \cdot 20$
$4 \cdot 4$	$13 \cdot 11$
$9 \cdot 5$	$14 \cdot 4$



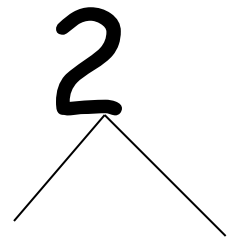
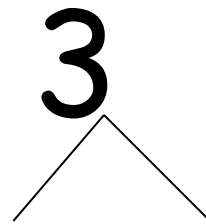
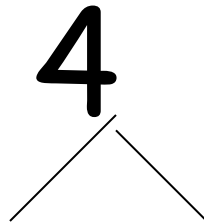
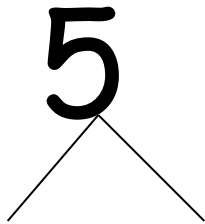
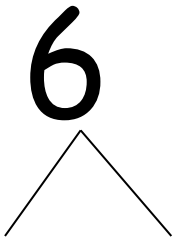
Отгадать загадку

Комочек пуха,
Длинное ухо,
Прыгает ловко,
Любит морковку.

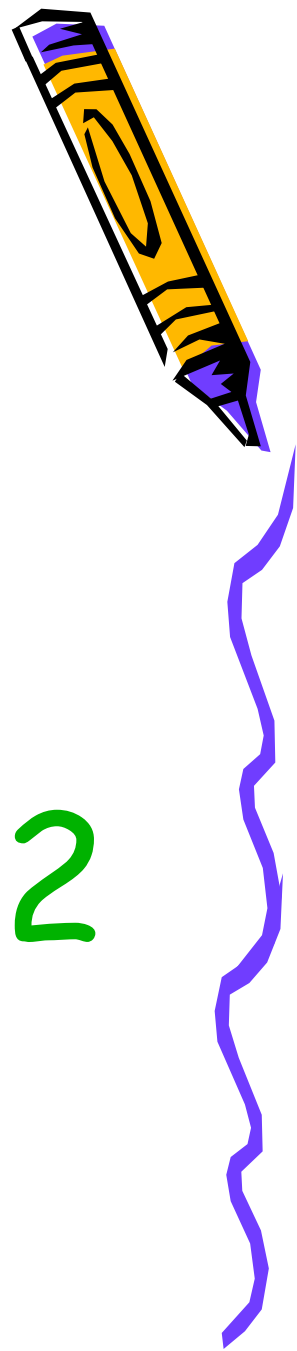
(заяц)



Разложить на два числа



Прибавление чисел 6, 5, 4, 3, 2



Образец решения



$$9 + \underline{1 + 5} = 15$$

$$7 + \underline{3 + 2} = 12$$

$$9 + 6 = 15$$

$$7 + 5 = 12$$

$$8 + \underline{2 + 2} = 12$$

$$8 + 4 = 12$$



Какой фигуры недостает на каждой карточке?

