



Тема: Вычитание вида $11 - \square$


Математика-1

Презентацию урока выполнила

Пищаскина М.М., 1 а класс

МОУ «ПССШ №1»





11

2

6

3


8

4

7

5

9



$10 - 3 = 7$


$10 - 5 = 5$

$10 - 1 = 9$

$10 - 4 = 6$

$10 - 2 = 8$

$10 - 6 = 4$





У фокусника в
левой руке 10
мячиков,, а в
правой руке 7.
На сколько
мячиков у
фокусника в
левой руке
больше, чем в
правой?




Фокусник достал из шляпы 7
черных кроликов, а белых
на 2 кролика меньше.


Сколько белых кроликов
достал фокусник из шляпы?



На плечах фокусника сидят 6 попугаев, и еще 5 попугаев летает над его головой, а в клетке сидят 3 кошки.
Сколько попугаев в задаче?



Фокусник с помощью волшебной палочки перекрасил 4 синих и 2 зеленых шарика в красный цвет. Сколько красных шариков получилось?






Фокусник сделал 5 желтых пирамидок выше, а 2 красных пирамидки ниже. У скольких пирамидок фокусник изменил высоту?



Фокусник подарил 5
воздушных шариков
мальчикам, а девочкам на 3
больше. Сколько воздушных
шариков подарил фокусник
девочкам?



Работа по учебнику





Физкультминутка



Прибежали, прибежали
Ежики, ежики.
Наточили, наточили
Ножики, ножики.
Прискакали, прискакали
Зайчики, зайчики.
Ну-ка вместе, ну-ка дружно:
Девочки! Мальчики!



Работа в тетради



Итог урока

