



Тема: Вычитание вида $15 - \square$

Математика-1

Презентацию урока выполнила
Пищаскина М.М., 1 а класс

МОУ «ТССШ №1»



Продолжи ряд чисел:

11, 19, 12, 18, 13, 17, 14, 16, 15



Какие карточки перевернуты?

$$15 = 6 + 6$$

$$15 = 7 + 8$$

$$15 = 8 + 7$$

$$14 = 5 + 6$$


$$14 = 7 + 7$$

$$14 = 6 + 8$$

$$13 = 4 + 6$$


$$13 = 7 + 6$$

$$13 = 5 + 8$$




На поляне паслось 3 лося, а благородных оленей на 6 больше. Сколько благородных оленей паслось на поляне?

$$3+6=9$$




В роще лисы вырыли 4 норы, а барсуки на 3 норы больше. Сколько барсучьих нор в роще?

$$4+3=7$$




Ежик поймал 9 гадюк, а
ужей на 5 меньше. Сколько
ужей поймал ежик?

$$9 - 5 = 4$$





Физминутка

Встали пчелки в хоровод,
В барабан ударил кот.
Стали мыши танцевать,
Пританцовывать.
Тра-ля-ля,
Тра-ля-ля,
Задрожала вся земля.



Работа по учебнику





ИТОГ



Спасибо за труд!