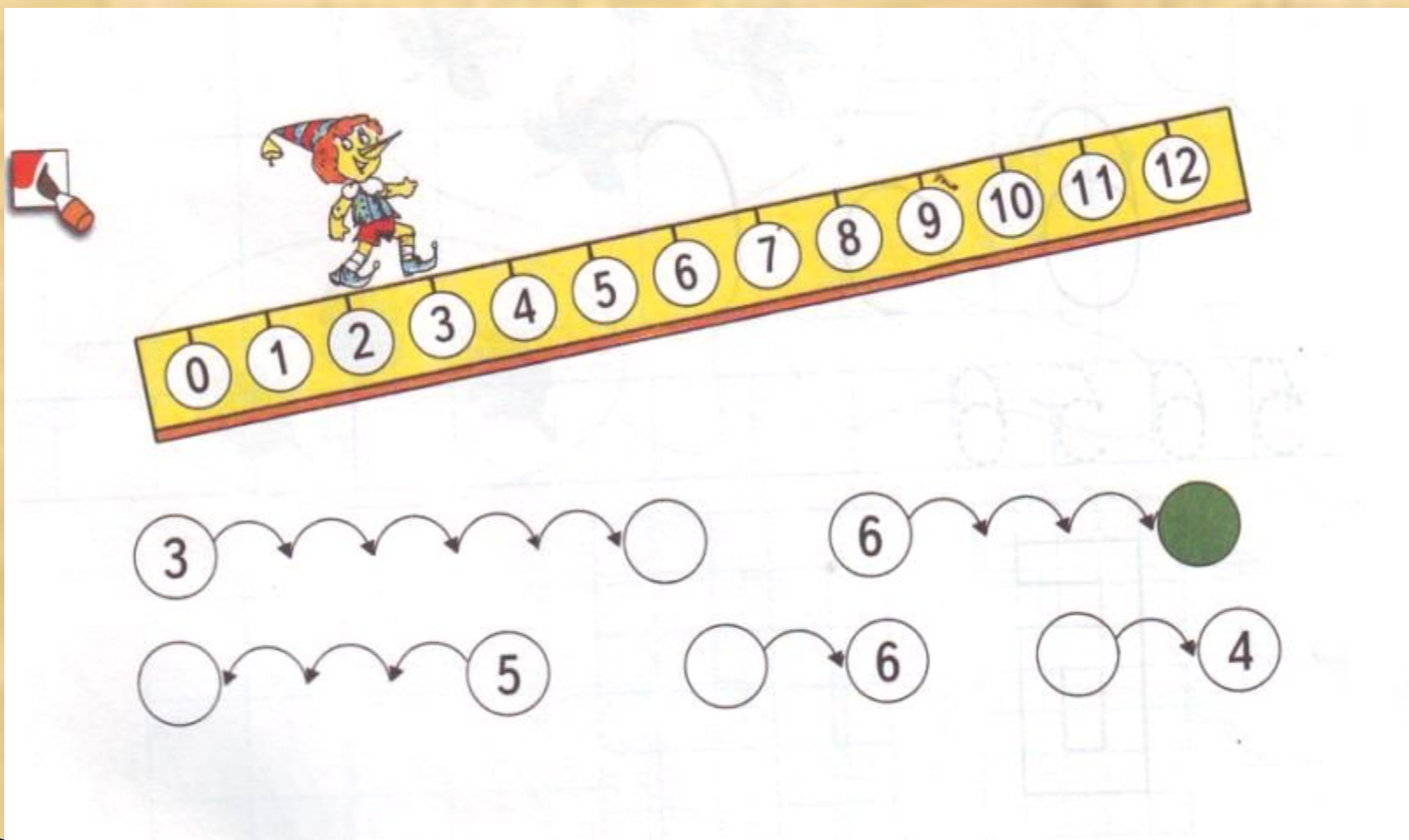


Приёмы познавательной деятельности при формировании вычислительных навыков


Учитель начальных классов
МБОУ ООШ №32
Ст.Старонижестеблиевской
Красноармейского района
Краснодарского края

Лебедь Жанна Викторовна

Куда шагает Буратино?




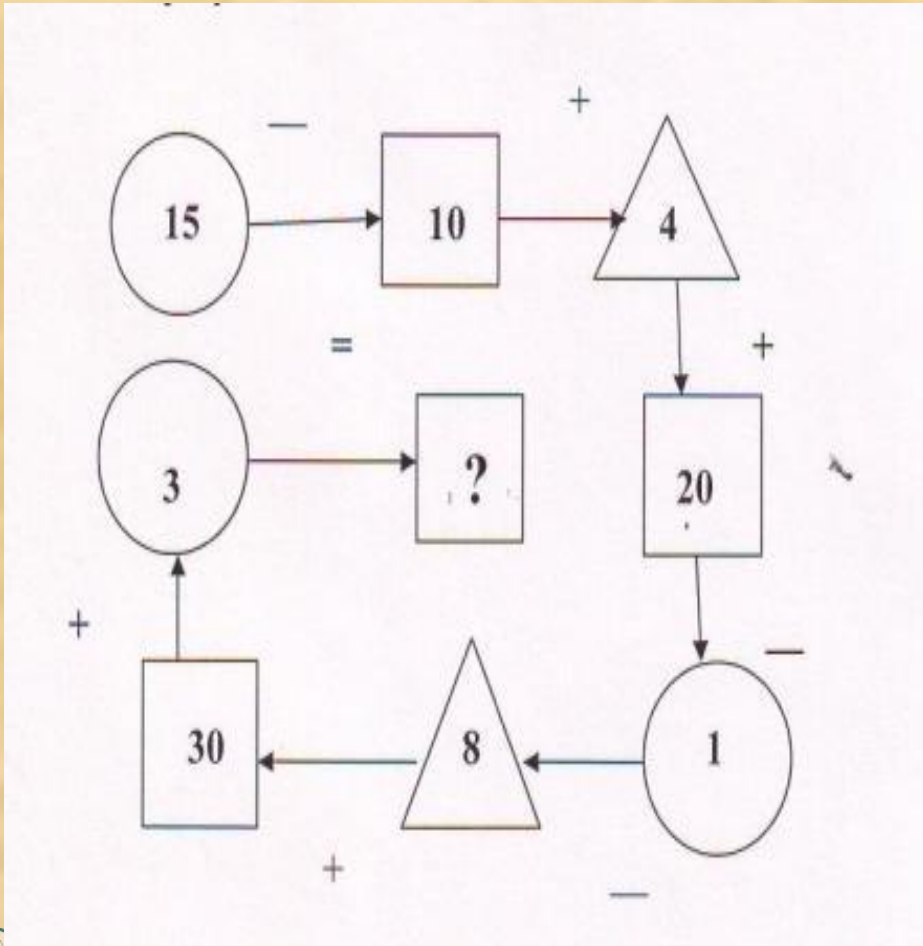
Отвечай сразу!



**Сколько цифр
использовано для записи
числа? Что означает
каждая из цифр в записи
числа ?**

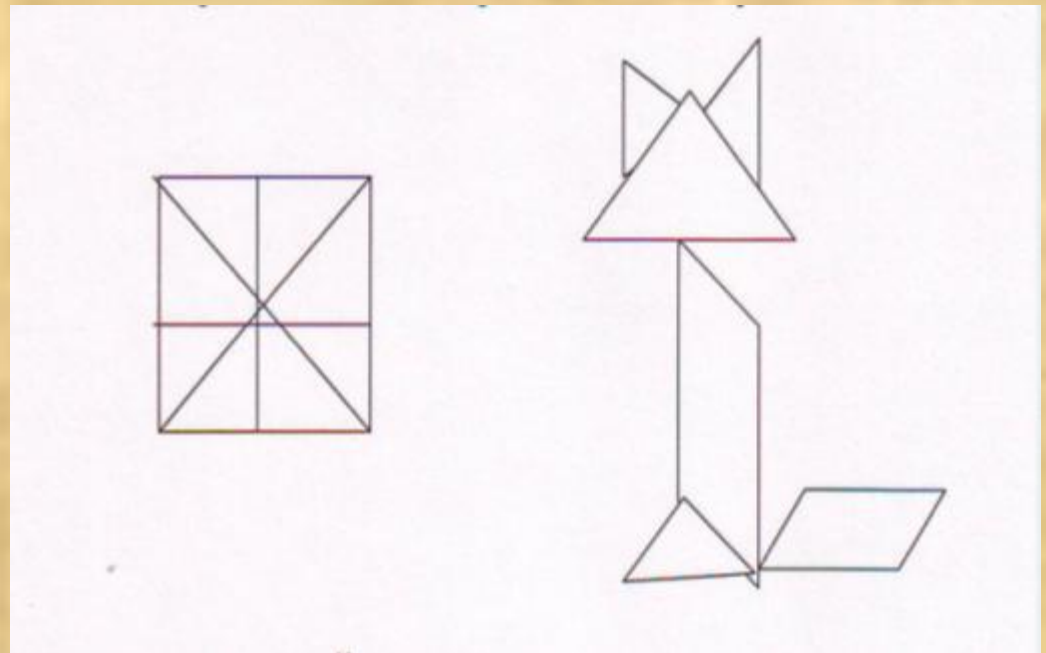
55

Помоги Самоделкину



Геометрические задачи

- Я несчастная лисичка.
- Ветер дунул посильней –
- Я на части развалилась ,
- Собери меня скорей!



Индивидуальный подход при решении задач

- Составить задачу по краткой записи и закончи её решение.

	цена	количество	стоимость
Тетрадь	одинаковая	20 шт.	3 р.
блокнот		8 шт.	?

1) $300 : 20 = 15$ (коп.) – цена одной тетради

- Составить задачу по краткой записи и реши её , составив по ней выражение.

	цена	количество	стоимость
Тетрадь	одинаковая	20 шт.	3 р.
блокнот		8 шт.	?

Задача:

- Брату 8 лет , а сестре 12 лет. На сколько лет брат младше сестры ? На сколько лет сестра старше брата?
- Через шесть лет , на сколько лет брат будет младше сестры?

Выполни действия , запиши ответ, соедини точки последовательно одну за другой.

$4 + 3 = 7$	$9 - 4 =$
$9 - 5 =$	$9 - 6 =$
$4 + 6 =$	$10 - 2 =$
$9 - 3 =$	$5 + 4 =$
$5 - 3 =$	$9 + 2 =$

6
5
3
8
9
10
11

$4 + 3 = 7$	$9 - 4 = 5$
$9 - 5 = 4$	$9 - 6 = 3$
$4 + 6 = 10$	$10 - 2 = 8$
$9 - 3 = 6$	$5 + 4 = 9$
$5 - 3 = 2$	$9 + 2 = 11$

6
5
3
8
9
10
11

Вычисли. Запиши слова.

$9 - 3 = 6 \rightarrow \text{ч}$

$7 - 0 = \quad \rightarrow \text{ц}$

$12 - 2 = \quad \rightarrow \text{ж}$

$2 + 7 = \quad \rightarrow \text{а}$

$9 - 4 = \quad \rightarrow \text{и}$

$6 - 3 = \quad \rightarrow \text{с}$

$6 - 2 = \quad \rightarrow \text{л}$

$8 - 6 = \quad \rightarrow \text{ф}$

$10 - 2 = \quad \rightarrow \text{н}$

3 5 8 5 7 9



--	--	--	--	--	--

6 5 10



--	--	--


2 5 4 5 8



--	--	--	--	--

Задания нестандартного характера

- Оля собирает очень маленькие игрушки. На сколько сантиметров клоун выше каждой из остальных игрушек? На сколько сантиметров цыплёнок ниже куклы?



Какие ошибки допустил художник?





Желаю удачи !