


*УРОК МАТЕМАТИКИ*  
*2 КЛАСС*

**Приемы вычислений для  
случаев вычитания вида  
60 – 24**

7 кг




2 кг



2 кг



3 кг



**КАКАЯ ГИРЯ СТОИТ НА ВЕСАХ?**



# ВСТАВИТЬ ПРОПУЩЕННЫЕ ЧИСЛА:

$$\square + 10 = 70$$

$$40 + \square = 50$$

$$50 + \square = 60$$

$$\square + 10 = 40$$

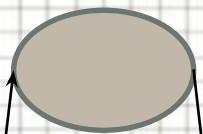

$$90 + \square = 100$$

$$30 + \square = 40$$


5

-  
7


+  
4



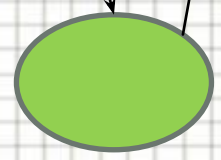
+  
8



+  
6




+  
4



+  
7



+  
3



НАЙДИТЕ ЛИШНЕЕ ВЫРАЖЕНИЕ:

$$50 - 2 =$$

$$60 - 24 =$$

$$70 - 4 =$$

$$20 - 3 =$$

$$30 - 6 =$$

$$70 - 4 =$$



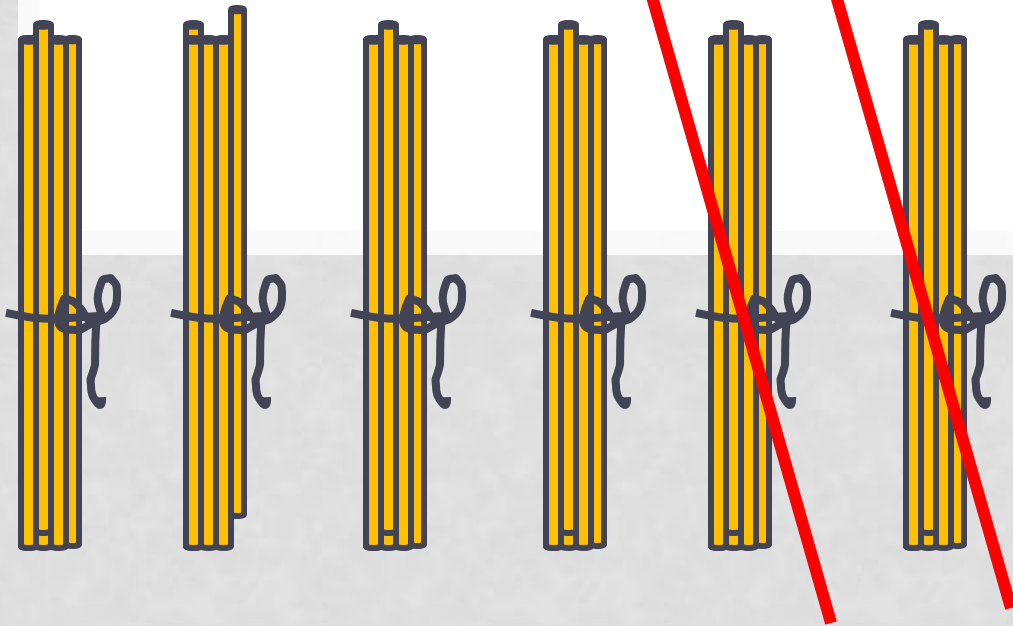
ПОДУМАЙ!

$$60 - 24$$

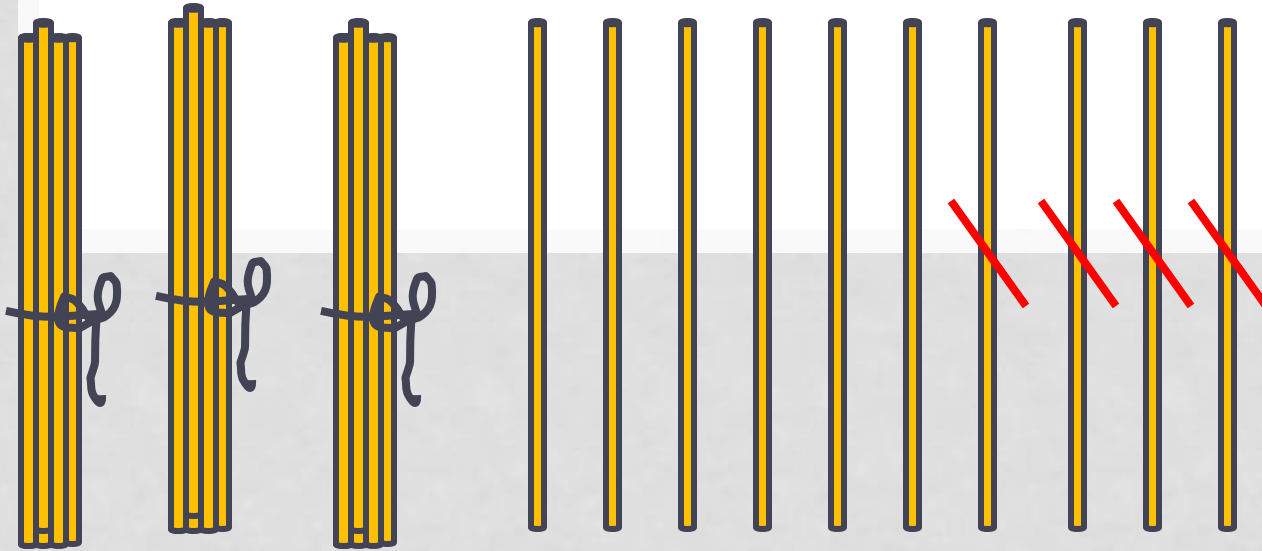


Вычтем сначала 20, а потом  
4





$$60 - 20 = 40$$



$$40 - 4 = 36$$



$$60 - 24 = (60 - 20) - 4 = 36$$

20 4



# ЗАКРЕПЛЯЕМ

$$70 - 38 =$$

$$40 - 21 = 19$$

20

1

$$90 - 24 =$$

$$60 - 32 = 28$$

30

2




# МАГАЗИН



23 руб.



8 руб.



6 руб.



12 руб.



52 руб.

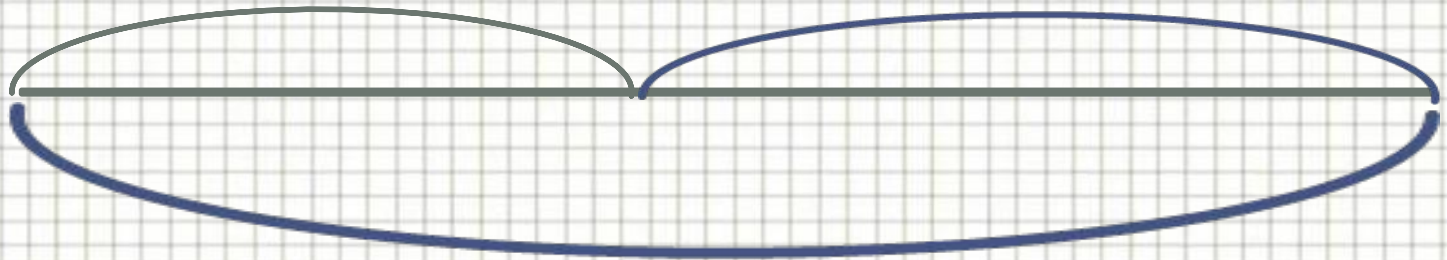


29 руб.



?

48руб.



100 руб.

$$100 - 48 = 52 \text{ (руб.)}$$

