


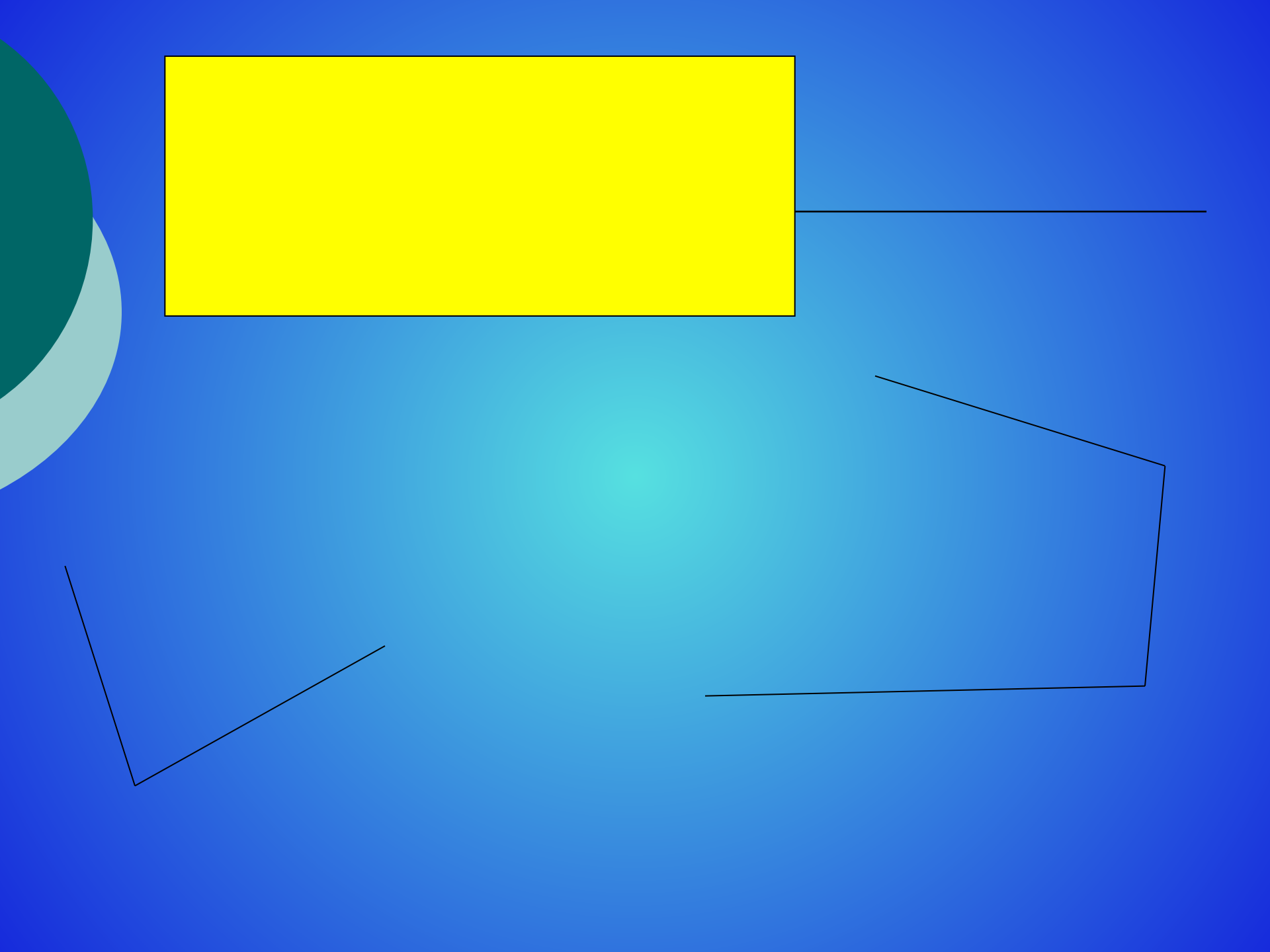


Устные приемы сложения и вычитания

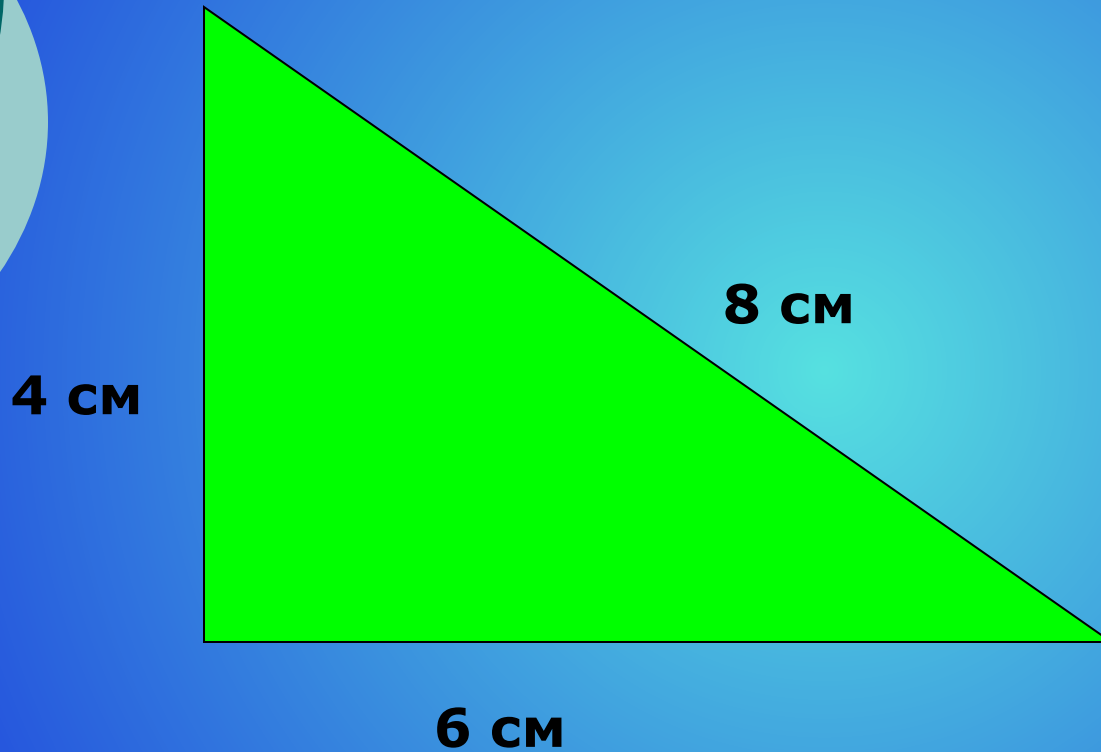
Игра "Молчанка"



68, 98, 38, 58, 28, 78



Вычислите периметр треугольника




Вычисли удобным способом

$$20 + 2 + 8 + 40 = 70$$

$$30 + 3 + 50 + 7 = 90$$

Сложение и вычитание

28



$$20 + 8 = 28$$

$$28 - 20 = 8$$

$$28 - 8 = 20$$

$$36 + 2 = 30 + (6 + 2) = 30 + 8 = 38$$

$$36 + 20 = (30 + 20) + 6 = 50 + 6 = 56$$

Физминутка



Музыка

Реши примеры

$13 + 6 =$

$42 + 6 =$

$81 + 5 =$

$30 + 24 =$

$53 + 10 =$

$65 + 30 =$



Задача № 4

Дедушке 54 года, а бабушке 50 лет. На сколько лет дедушка старше бабушки?

Домашнее задание

Страница 58 правило

№ 6 - всем

№ 7 - Группе «А»

