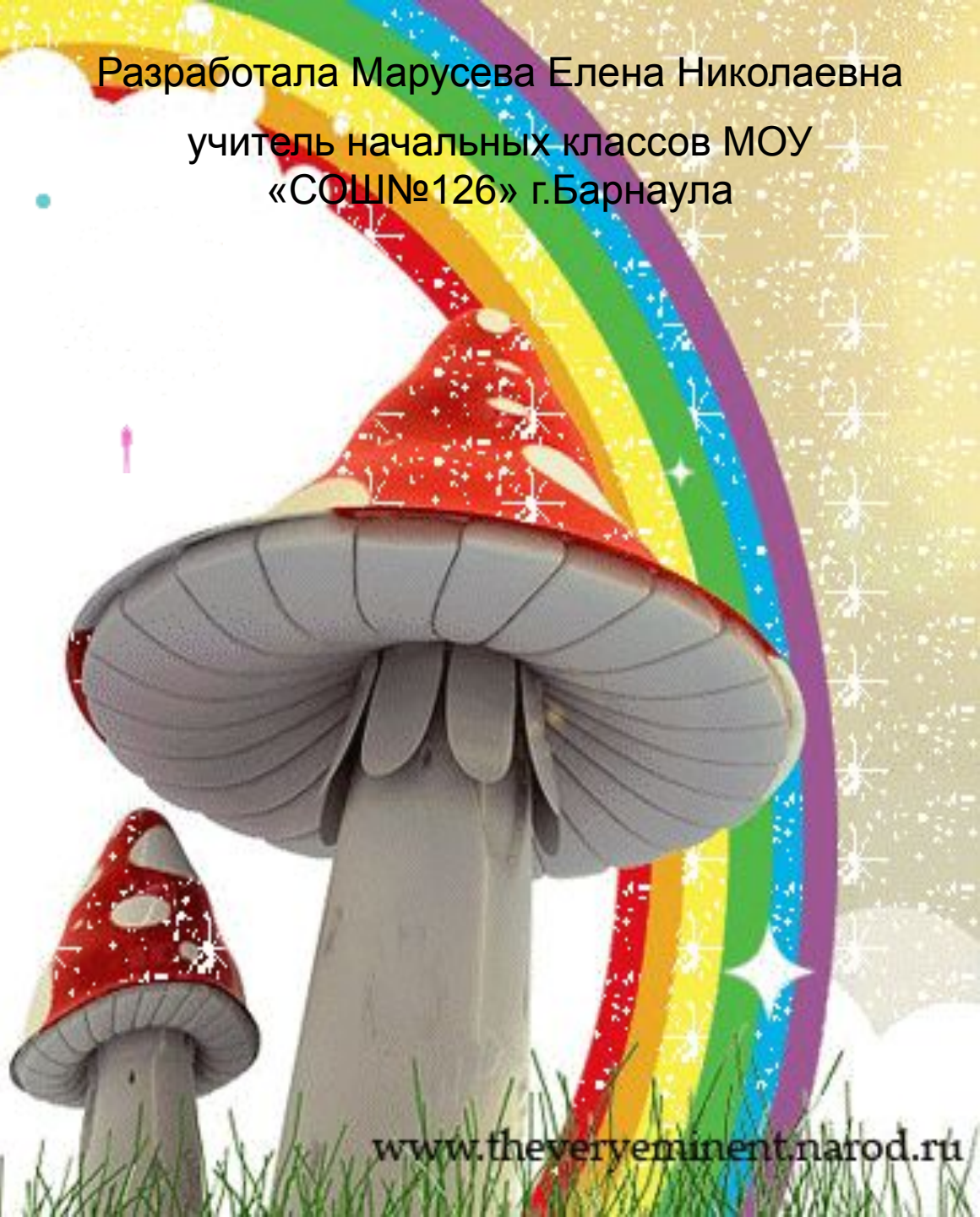


Разработала Марусева Елена Николаевна  
учитель начальных классов МОУ  
«СОШ№126» г.Барнаула

Пожелай  
стать  
вырастающим!



# Устный счёт.

$$308 \text{ см} = 3 \text{ м } 8 \text{ см}$$

$$45 \text{ мм} = 4 \text{ см } 5 \text{ мм}$$

$$3 \text{ м } 70 \text{ см} = 370 \text{ см}$$

$$15 \text{ дм } 8 \text{ см} = 158 \text{ см}$$





# Сколько в числе

**десятков**

**сотен**

**170** - 17 дес.

**700** - 7 сот.

**540** - 54 дес.

**200** - 2 сот.

**810** - 81 дес.

**300** - 3 сот.

**600** - 60 дес.

**900** - 9 сот.





Сколькими единицами

**Молодцы!**

23 десятка - 230 единиц

1 сотня - 100 единиц




$$300+200=500$$

$$800-600=200$$

$$120-50=70$$

$$300-60=240$$

$$70+80=150$$




Прочитайте  
об этом в  
учебнике на  
стр.54.

$$900-400=500, \text{ т.е.}$$
$$9\text{сот.}-4\text{сот.}=5\text{сот.}$$



5сот.  
пись  
ся  
о  
ями  
ми!

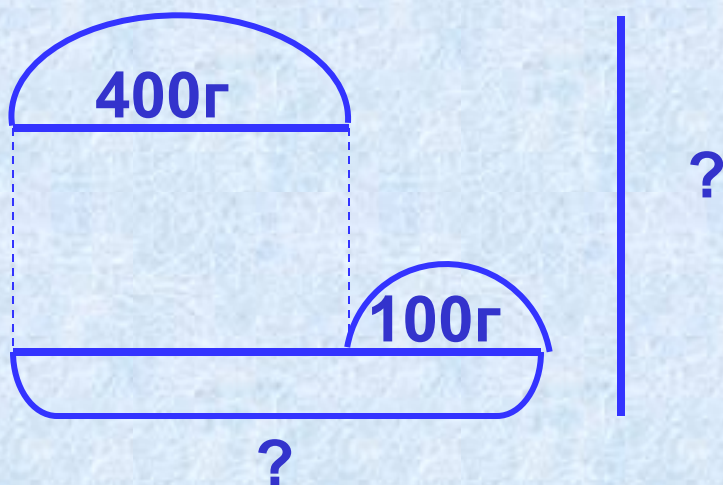


**Похвально!**

**А теперь –  
отдохнём!!!**

**те  
№1  
на стр. 54.**

# Помогите Незнайке решить задачу №2 на стр.54!



1.  $400 + 100 = 500(\text{г})$  – масса масла.
2.  $500 + 400 = 900(\text{г})$  – масса покупки.

Ответ: масса покупки 900г.







**Руки вверх, в  
стороны, вниз!**





**Лёгкие прыжки на месте!**



**И последнее  
упражнение:  
ходьба на месте!**




Дана фигура.

Найдите её  
площадь!

Молодцы!

Спасибо за  
помощь!!!

6м




$$S = a * b$$

$$S = 12 * 6 = 72(\text{м}^2)$$


$$S = 4 * 4 = 16(\text{м}^2)$$

$$72 - 16 = 54(\text{м}^2)$$



**Выполним № 6 на  
стр.54.**

**Спасибо за  
урок!  
До скорой  
встречи!!!**





**Домашнее задание:  
стр.54 №5.**

