

# ПРИЗНАКИ РАВЕНСТВА ПРЯМОУГОЛЬНЫХ ТРЕУГОЛЬНИКОВ

Геометрия - 7


# 1. Выберите верное продолжение утверждения



Прямоугольные треугольники равны

1. По гипотенузе и катету
2. По гипотенузе и острому углу
3. По двум катетам
4. По двум гипотенузам


## 2. Укажите НЕВЕРНОЕ продолжение утверждения



Прямоугольные треугольники равны


1. По катету и противолежащему острому углу
2. По катету и прямому углу
3. По катету и гипотенузе
4. По трем катетам

3. Треугольники  $ABC$  и  $DEF$  – прямоугольные (углы  $A$  и  $D$  – прямые). Укажите верную запись 2 признака равенства прямоугольных треугольников



1.  $AB=DE$ , углы  $B$  и  $E$ -равны
2.  $AC=DF$ , углы  $B$  и  $E$ -равны
3.  $BC=EF$ , углы  $C$  и  $F$ -равны
4.  $AB=DE$ , углы  $C$  и  $F$ -равны


4. Треугольники  $ABC$  и  $DEF$  – прямоугольные (углы  $A$  и  $D$  – прямые). Укажите верную запись 5 признака равенства прямоугольных треугольников




1.  $AC=DF, AB=DE$
2.  $BC=EF, AC=DF$
3.  $BC=EF, \text{ углы } C \text{ и } F\text{-равны}$
4.  $AC=DF, \text{ углы } B \text{ и } E\text{-равны}$



МОЛОДЕЦ !



МОЛОДЕЦ !



МОЛОДЕЦ !






МОЛОДЕЦ !



МОЛОДЕЦ !




МОЛОДЕЦ !



МОЛОДЕЦ !

ВСПОМНИ ПРИЗНАКИ РАВЕНСТВА  
ПРЯМОУГОЛЬНЫХ ТРЕУГОЛЬНИКОВ  
И

ПОПРОБУЙ ЕЩЕ РАЗ !




ВСПОМНИ ПРИЗНАКИ РАВЕНСТВА  
ПРЯМОУГОЛЬНЫХ ТРЕУГОЛЬНИКОВ  
И

ПОПРОБУЙ ЕЩЕ РАЗ !




ВСПОМНИ ПРИЗНАКИ РАВЕНСТВА  
ПРЯМОУГОЛЬНЫХ ТРЕУГОЛЬНИКОВ  
И

ПОПРОБУЙ ЕЩЕ РАЗ !



ВСПОМНИ ПРИЗНАКИ РАВЕНСТВА  
ПРЯМОУГОЛЬНЫХ ТРЕУГОЛЬНИКОВ  
И


ПОПРОБУЙ ЕЩЕ РАЗ !






ВСПОМНИ ПРИЗНАКИ РАВЕНСТВА  
ПРЯМОУГОЛЬНЫХ ТРЕУГОЛЬНИКОВ  
И

ПОПРОБУЙ ЕЩЕ РАЗ !




ВСПОМНИ ПРИЗНАКИ РАВЕНСТВА  
ПРЯМОУГОЛЬНЫХ ТРЕУГОЛЬНИКОВ  
И

ПОПРОБУЙ ЕЩЕ РАЗ !




ВСПОМНИ ПРИЗНАКИ РАВЕНСТВА  
ПРЯМОУГОЛЬНЫХ ТРЕУГОЛЬНИКОВ  
И

ПОПРОБУЙ ЕЩЕ РАЗ !




ВСПОМНИ ПРИЗНАКИ РАВЕНСТВА  
ПРЯМОУГОЛЬНЫХ ТРЕУГОЛЬНИКОВ  
И

ПОПРОБУЙ ЕЩЕ РАЗ !



ВСПОМНИ ПРИЗНАКИ РАВЕНСТВА  
ПРЯМОУГОЛЬНЫХ ТРЕУГОЛЬНИКОВ  
И

ПОПРОБУЙ ЕЩЕ РАЗ !





БЛАГОДАРИЮ  
ЗА РАБОТУ !

