

Кто в каком домике живёт?



11-4



10-5



12-3


$$10 - 5 = 5$$

$$12 - 2 = 10$$

$$8 - 5 = 3$$





















$$12 - 5 = ?$$

Тема урока:

**ВЫЧИТАНИЕ
ЧИСЛА**

5

5

					4	+	1
					3	+	2
					2	+	3
					1	+	4

$$13 - \square = 10$$

$$10 - \square = 7$$



Говори шепотом



Не перебивай друг друга



**Говори только по
делу**



**Дай каждому высказать
свою точку зрения**

«Лесенка успеха»

Уверен в своих
знаниях

В основном
уверен

Нужно ещё
повторить

Нуждаюсь в
помощи

