

Проценты



Тест

Учитель математики МОУ «СОШ №12» Мариничева И.М.
5класс



Запишите в виде дроби :

3%

$$1 \frac{3}{10}$$

$$\frac{100}{3}$$



$$\frac{3}{10}$$

$$\frac{3}{100}$$




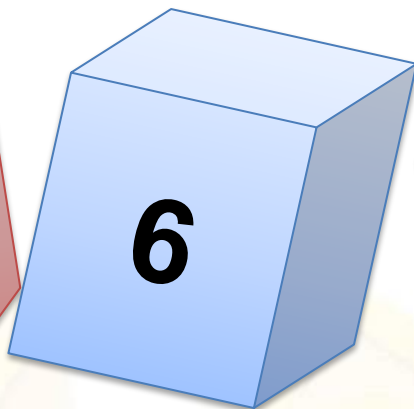


Сколько процентов составляет дробь $\frac{8}{400}$?



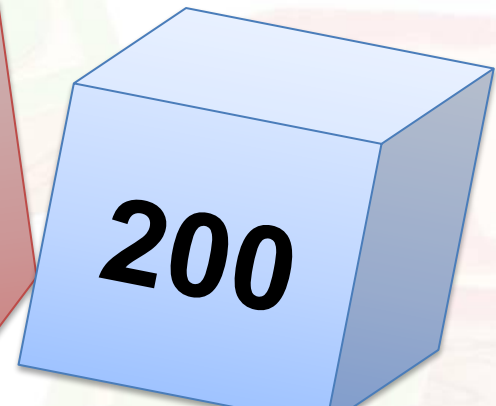




Найдите 15 % от 900:






**Найдите неизвестное число, если
140 составляет 70% от него?**



Решите задачу.




В саду 7 фруктовых деревьев, что составляет 35% всех деревьев. Сколько всего деревьев в саду?





Турист был в пути три дня. В первый день он прошел 37 % пути, во второй – 33 %, а в третий – оставшиеся 45 км. Сколько километров турист прошел за 3 дня?





Получилось?

МОЛОДЕЦ!!!





Интернет ресурсы

Картинки www.google.ru,
<http://forchel.ru/1345-clipart-detskie-yemocii.html>

Шаблон <http://aida.ucoz.ru>

Автор <http://mim58.ucoz.ru/>