

Урок математики



УСТНЫЙ СЧЁТ



$12 - 7 =$

$90 - 30 =$

$13 - 5 =$

$40 + 20 =$

$18 - 9 =$

$37 - 20 =$

$16 - 8 =$


$90 + 9 =$






3
3

-12




+4

-5



1





+35

+7

+9

+22

+7



РЕШЕНИЕ ЗАДАЧ

На космической станции работало 11 космонавтов, 5 космонавтов вышли в открытый космос. Сколько космонавтов осталось на станции?

Сияющих звёзд – 10

Падающих звёзд - ? на 6 >

Уравнения

$$\square 27 - x = 9$$

$$\square x - 8 = 10$$

$$\checkmark 38 - x = 30$$

$$\checkmark x + 10 = 50$$



Чему равен периметр?



6см



8см



4см



Решаем примеры



$$\begin{array}{r} 34 \\ + 52 \\ \hline \end{array}$$

$$\begin{array}{r} 62 \\ + 28 \\ \hline \end{array}$$

$$\begin{array}{r} 56 \\ + 37 \\ \hline \end{array}$$

Решаем примеры



94

60


50

$$\begin{array}{r} - \\ 42 \\ \hline \end{array}$$

$$\begin{array}{r} - \\ 8 \\ \hline \end{array}$$

$$\begin{array}{r} - \\ 27 \\ \hline \end{array}$$

Какая фигура лишняя?



Реши задачу



В киоске было 90 ромашек. До обеда продали 40 ромашек, а после обеда продали еще 28 ромашек.

Сколько ромашек осталось в киоске?

$$1 \text{ дм} = ? \text{ см}$$

$$10 \text{ см} = ? \text{ мм}$$

$$25 \text{ дм} = ? \text{ см} \ ? \text{ мм}$$

$$100 \text{ мм} = ? \text{ дм}$$




Реши ребус




$$\begin{array}{r} 60 \\ + 2* \\ \hline *5 \end{array}$$

$$\begin{array}{r} 84 \\ + *6 \\ \hline 4* \end{array}$$


$$\begin{array}{r} *6 \\ + 3* \\ \hline 89 \end{array}$$



Вы считаете, что урок прошёл для вас плодотворно, с пользой. Вы научились и можете помочь



Вы считаете, что тема вам понятна, но надо ещё потренироваться.



Вы считаете, что было трудно на уроке.

