







Прямоугольник. Квадрат.

Дмитриева Анна Сергеевна
учитель начальных классов,
МБОУ «СШ №17» г. Дзержинска
Нижегородской области
2 класс
1 категория



УСТНЫЙ СЧЁТ

- Купили 6 кг риса и 7 кг гречки, а манки - столько, сколько гречки и риса вместе. Сколько манки купили?
(13 кг)
- В куске ткани было 42 м. Утром продали 12 м, а вечером - 10 м. Сколько метров осталось?
(20 м)
- Каждая машина на автодроме вмещает 2 человека. Сколько потребуется машин, чтобы прокатились 7 мальчиков?
(3 машины и один мальчик останется)




«РОДСТВЕННИКИ»

Жила на свете важная

фигура

Стороны мои все РАВНЫ,
углы все ПРЯМЫЕ.




«Если встречу родственника, то сразу
узнаю, - думал квадрат, - ведь он на меня
должен быть чем-то

ПОХОЖ».





прямоугольн

ик




квадра

т



«А мы не РОДСТВЕННИКИ с тобой?» -
спрашивает
Квадрат у Прямоугольника.




Четырёхугольники

ВЫВОД:

У прямоугольника -

1. Четыре угла.
2. Все углы прямые.
3. Противоположные стороны равны.
4. Четыре стороны.





Вы считаете, что урок прошёл для вас плодотворно, с пользой. Вы научились и можете помочь другим.



Вы считаете, что знаете определение геометрических фигур, но вам ещё нужна помощь.



Вы считаете, что было трудно на уроке.

[http://www.stspb.ru/shop.phtml?good_id=1763&dtl=1763&c2=11
&m=1](http://www.stspb.ru/shop.phtml?good_id=1763&dtl=1763&c2=11&m=1)

<http://www.pochta.uz/stampuz/catalogs/1999/185-191.html>

<http://www.mahnem.ru/?module=festival&view=search&page=4>

<http://mebel-ua.com.ua/t/3/cur/4/>

<http://www.formatd.belnet.ru/index.php?newsid=13807>

Все остальные файлы мультимедиа и автофигуры взяты с сайта Office.com Поставщик Microsoft