

*Путешествие
в город
Математинс
К*


УСТНЫЙ СЧЁТ

$$12 - 5 + 7 + 2 - 8 + 3 = 11$$

Реши задачу

В саду росли **3** сосны, **4** яблони, **7** груш.
Сколько всего фруктовых деревьев росло
в саду?

Игра «Продолжи ряд»





2

16

4

14

26

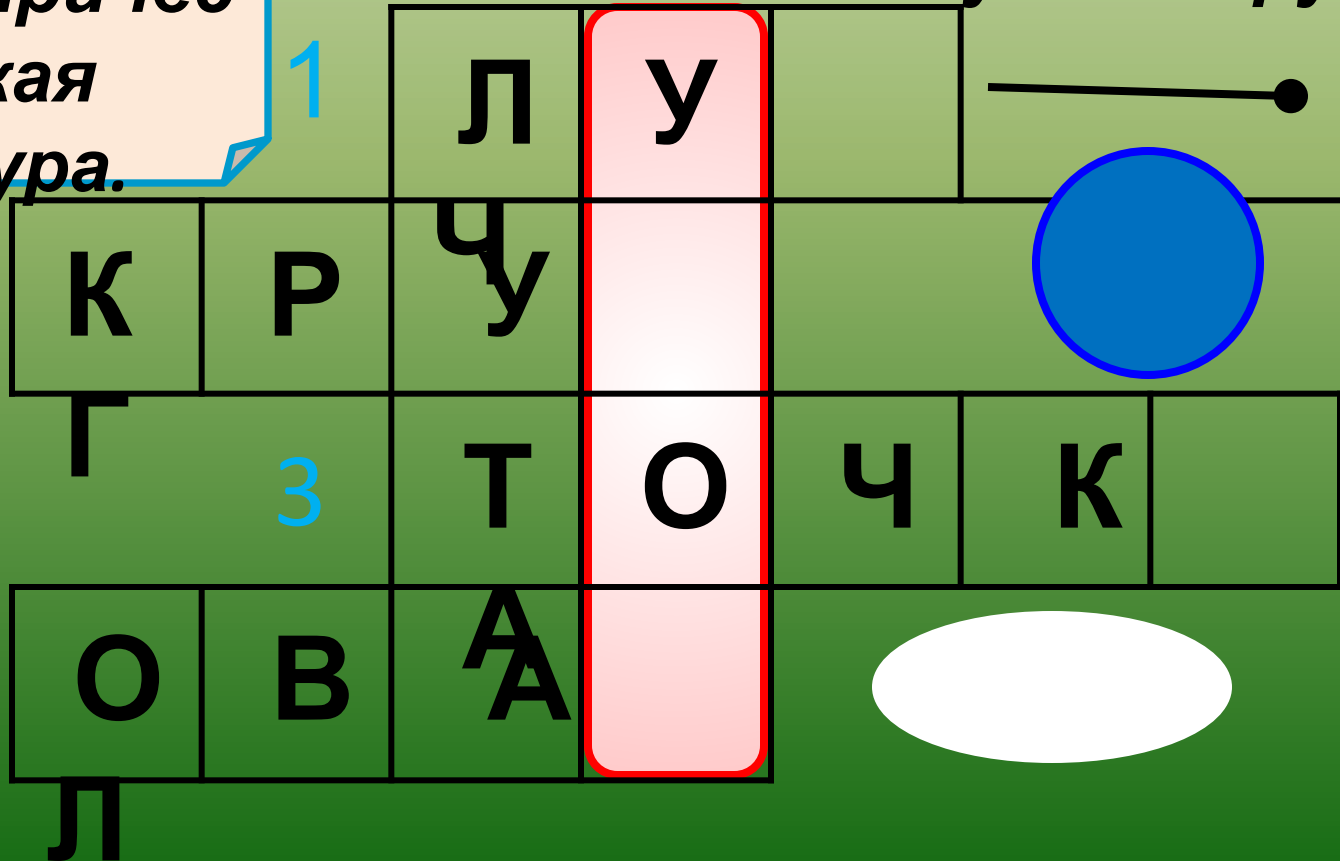


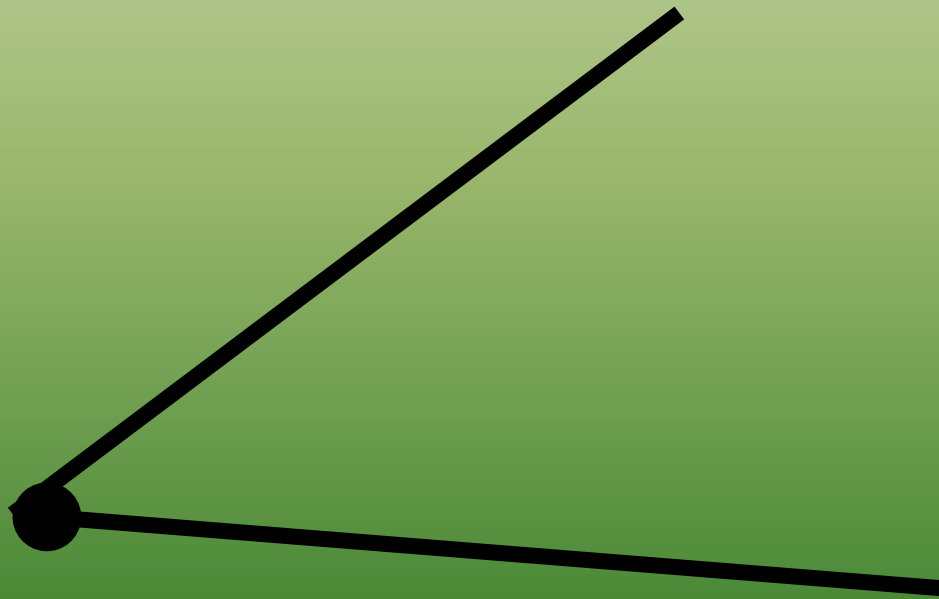
1 Часть прямой,
у которой есть
начало,
но ~~нет конца.~~

маленькая
геометричес
кая
фигура.

2 Геометрическая
фигура,
не имеющая углов.

4 Геометрическая
фигура,
имеющая форму
вытянутого круга.






Виды углов

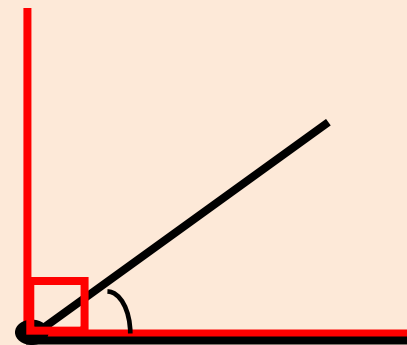
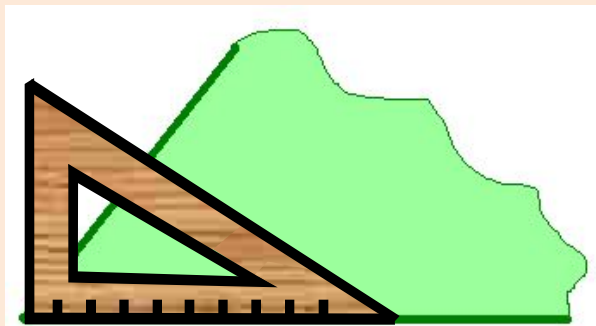
**В
и
д
ы

у
г
л
о
в**

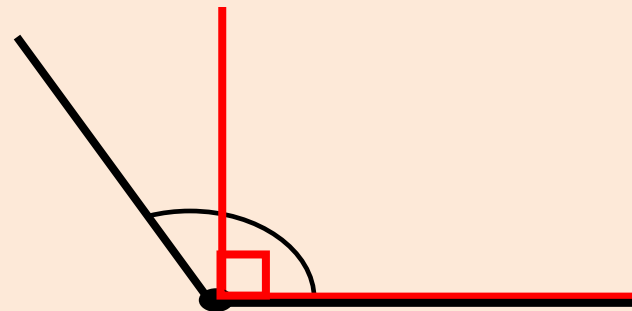
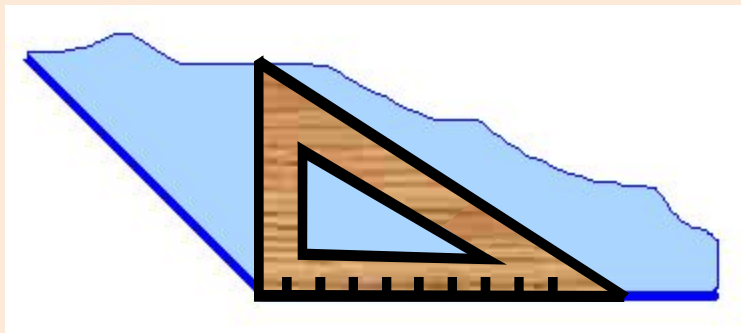
Прямой угол



Острый угол – это угол, который меньше прямого.



Тупой угол – это угол, который больше прямого.




Какой угол ?

остры


й

о

А




М



тупой

К

О




А

К

Т

Е



прямой

учебник стр. 86

№ 267

р.т. стр. 46

№ 113

Домашнее задание

в р. т. № 119,
120

тест № 25

***Картинки «Угольник», «кроссворд»
взяты из презентации Стадник М.В., учителя начальных классов,
МОУ гимназия № 23, Краснодар, 2007***