

ВНЕКЛАССНОЕ ЗАНЯТИЕ ПО МАТЕМАТИКЕ:

# «ПУТЕШЕСТВИЕ В СТРАНУ ЗАДАЧ»

Автор:

Илюхина Татьяна Викторовна

2013 год

# Правила поведения.

- Каждый день,  
всегда, везде,
- На занятиях, в  
игре
- Громко, чётко  
говорим
- И тихонечко  
сидим.



**ЗАДАЧА**

**Решение**

**Вопрос** **Условие**

**Ответ**

**Рыцарь Пример**

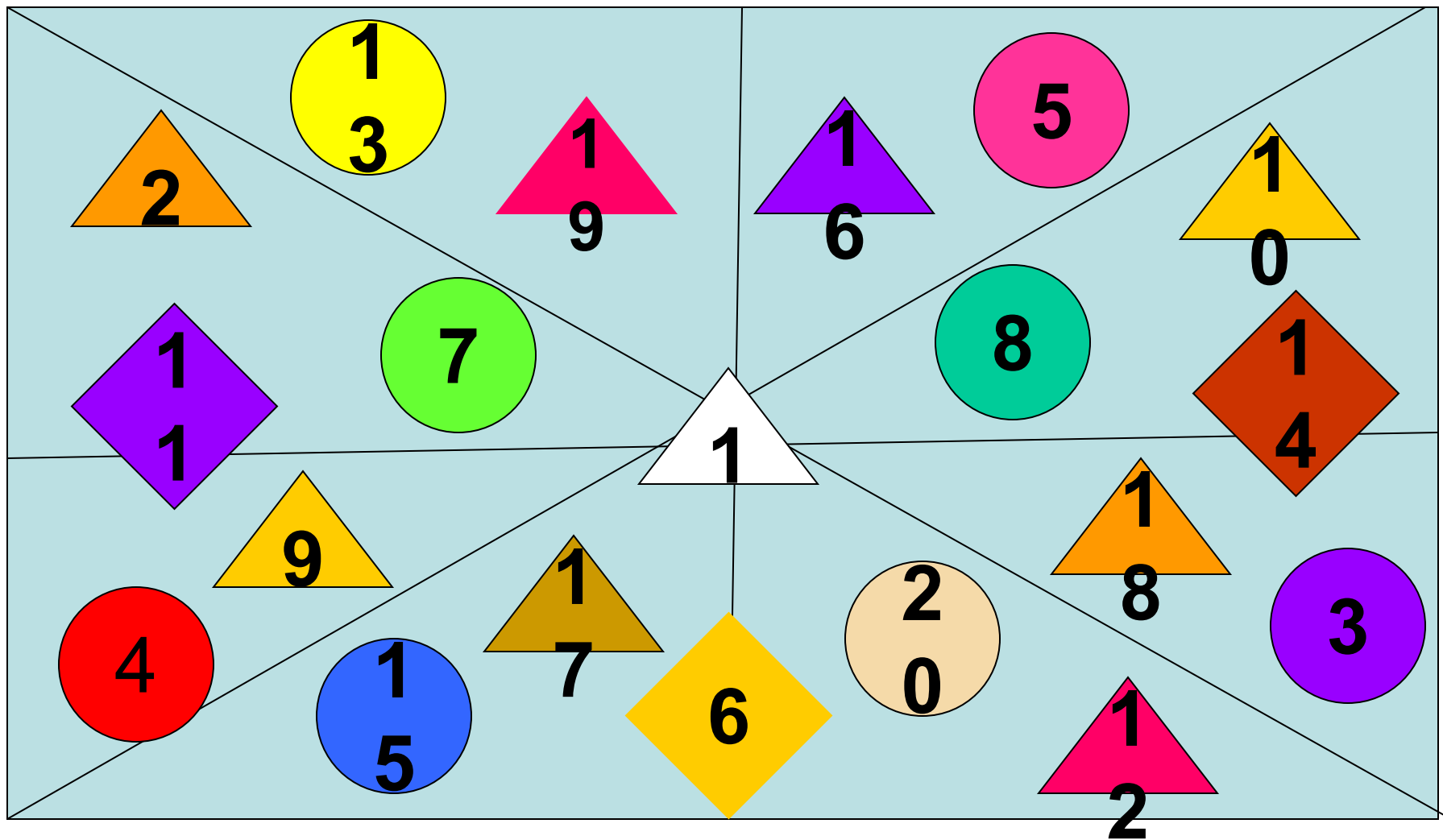
**Ошибка**



# КАРТА ПУТЕШЕСТВИЯ



# Весёлый счёт



# Весёлый счёт

A grid of 18 colorful geometric shapes, each containing a two-digit number. The shapes are arranged in a 3x6 grid. The numbers are: (1,1) 20, (1,2) 30, (1,3) 90, (1,4) 60, (1,5) 50, (1,6) 10; (2,1) 11, (2,2) 70, (2,3) 80, (2,4) 14, (2,5) 10, (2,6) 01; (3,1) 40, (3,2) 90, (3,3) 70, (3,4) 60, (3,5) 20, (3,6) 30. A white triangle with the number 10 is positioned in the center of the grid, overlapping the boundaries between the second and third rows.

20	30	90	60	50	10
11	70	80	14	10	01
40	90	70	60	20	30

# Дворец Короля Ребуса



СТЭЖЖИ

СТРИЖИ



40 а

сорока

**7 Я**

**семья**

**Me100**

**место**

**ЭТОН**

**ТРИТОН**

**СВИ100К**

**СВИСТОК**

,

**АИ100,**

**аист**

7, ена

**семена**

Па,эж

Париж





# Королевство цифр

1

3

4

5



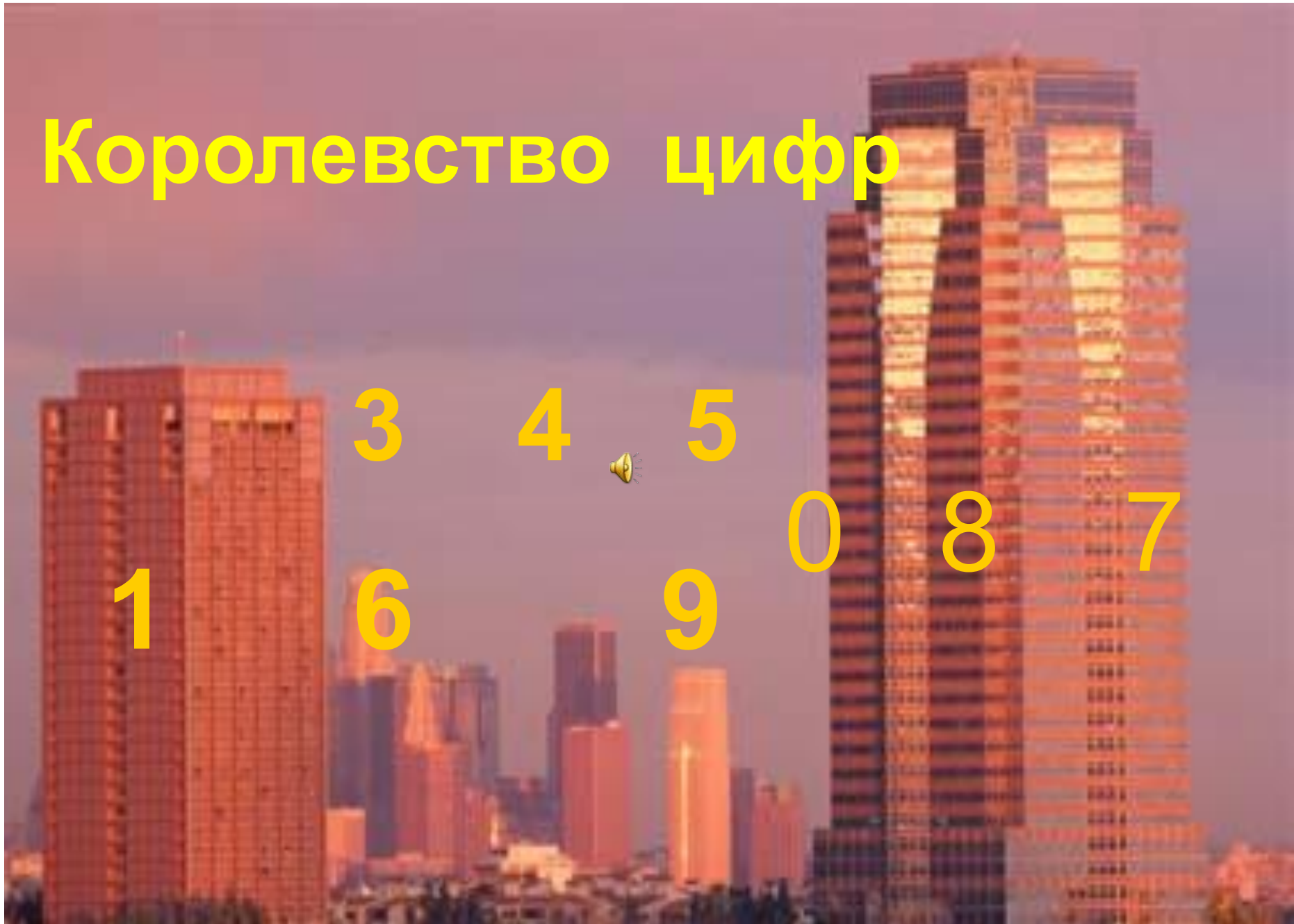
0

8

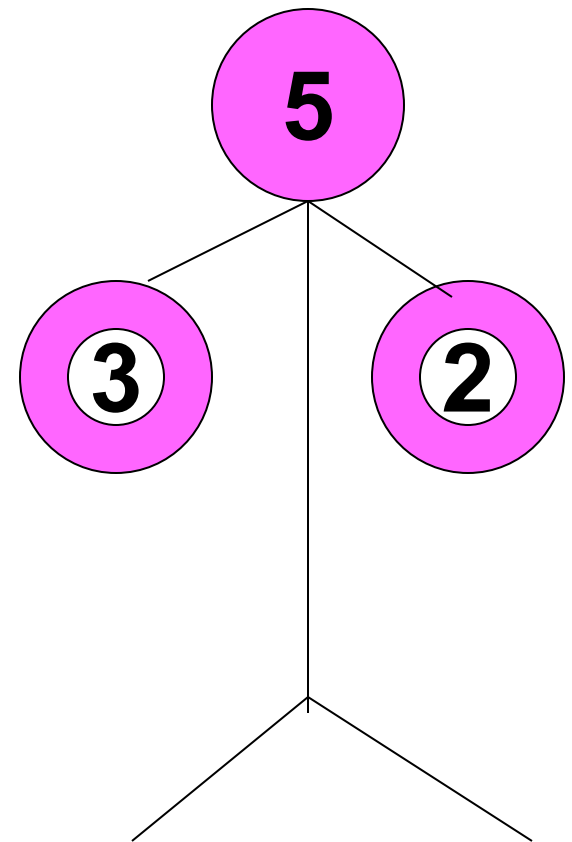
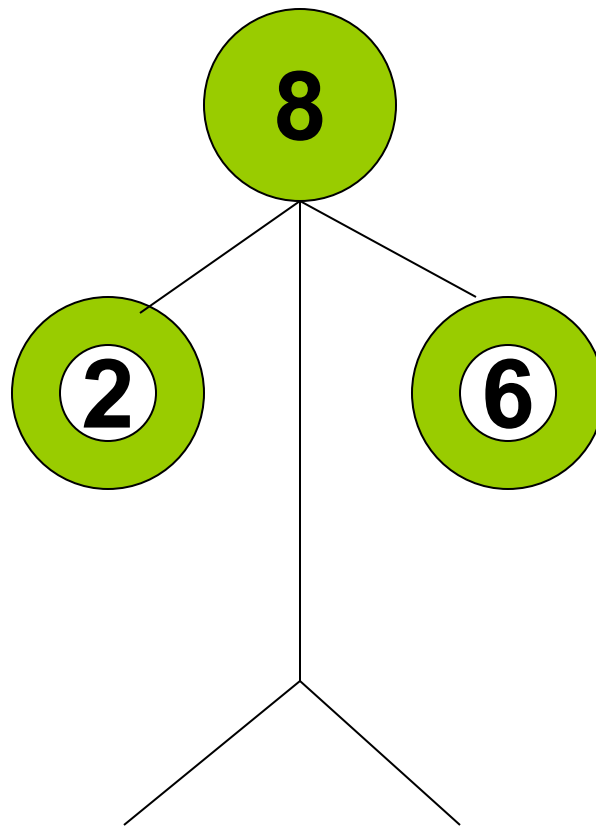
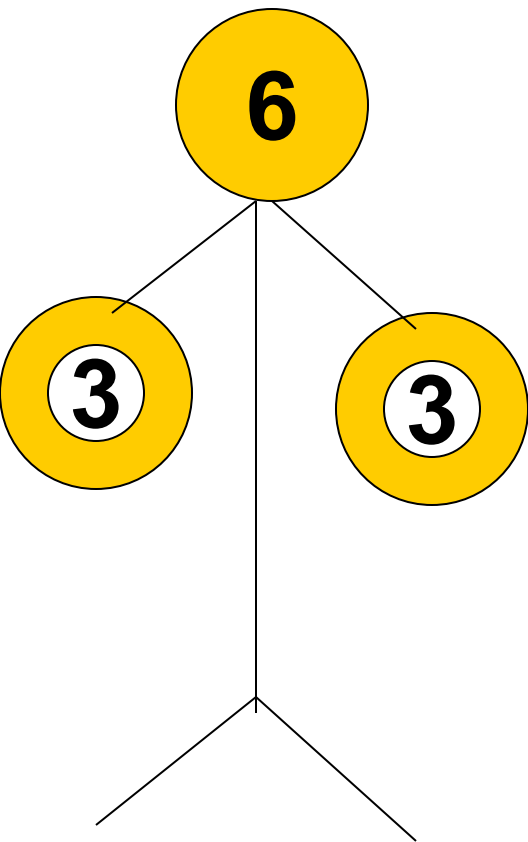
7

6

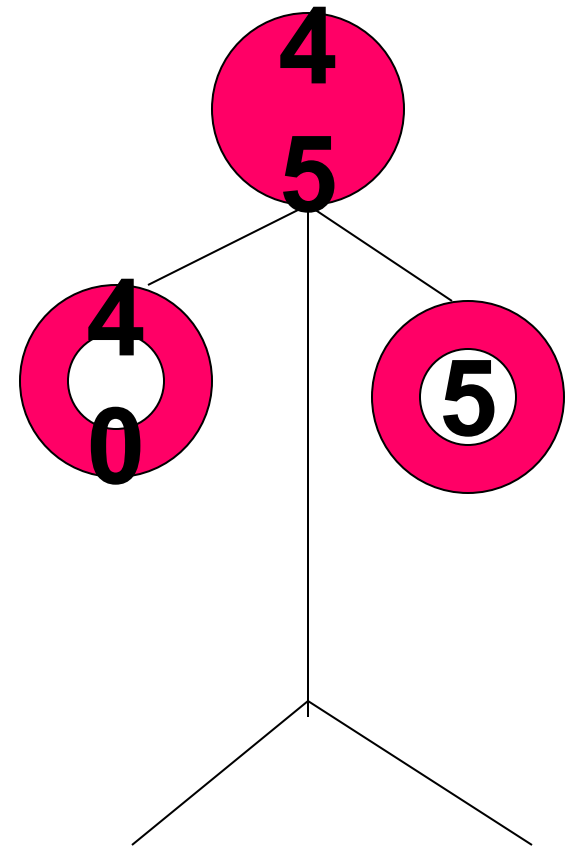
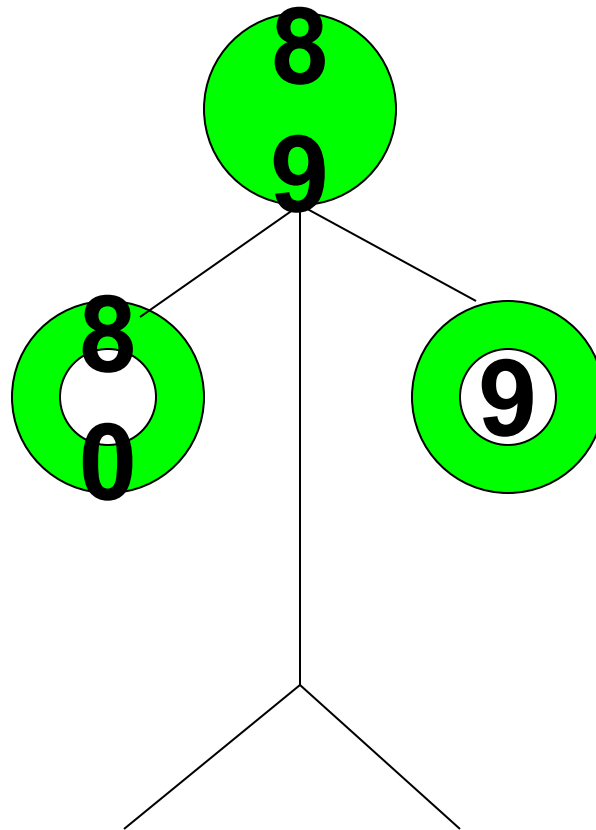
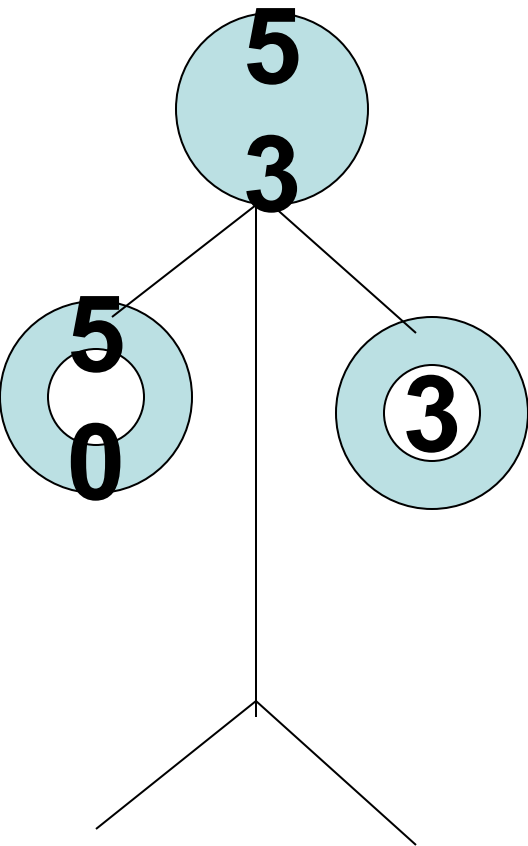
9



# СМЕШНЫЕ ЧЕЛОВЕЧКИ



# СМЕШНЫЕ ЧЕЛОВЕЧКИ



Из разных цифр я сделал бусы

А в тех кружках,

где чисел нет,

Расставьте минусы и плюсы,

Чтоб данный получить

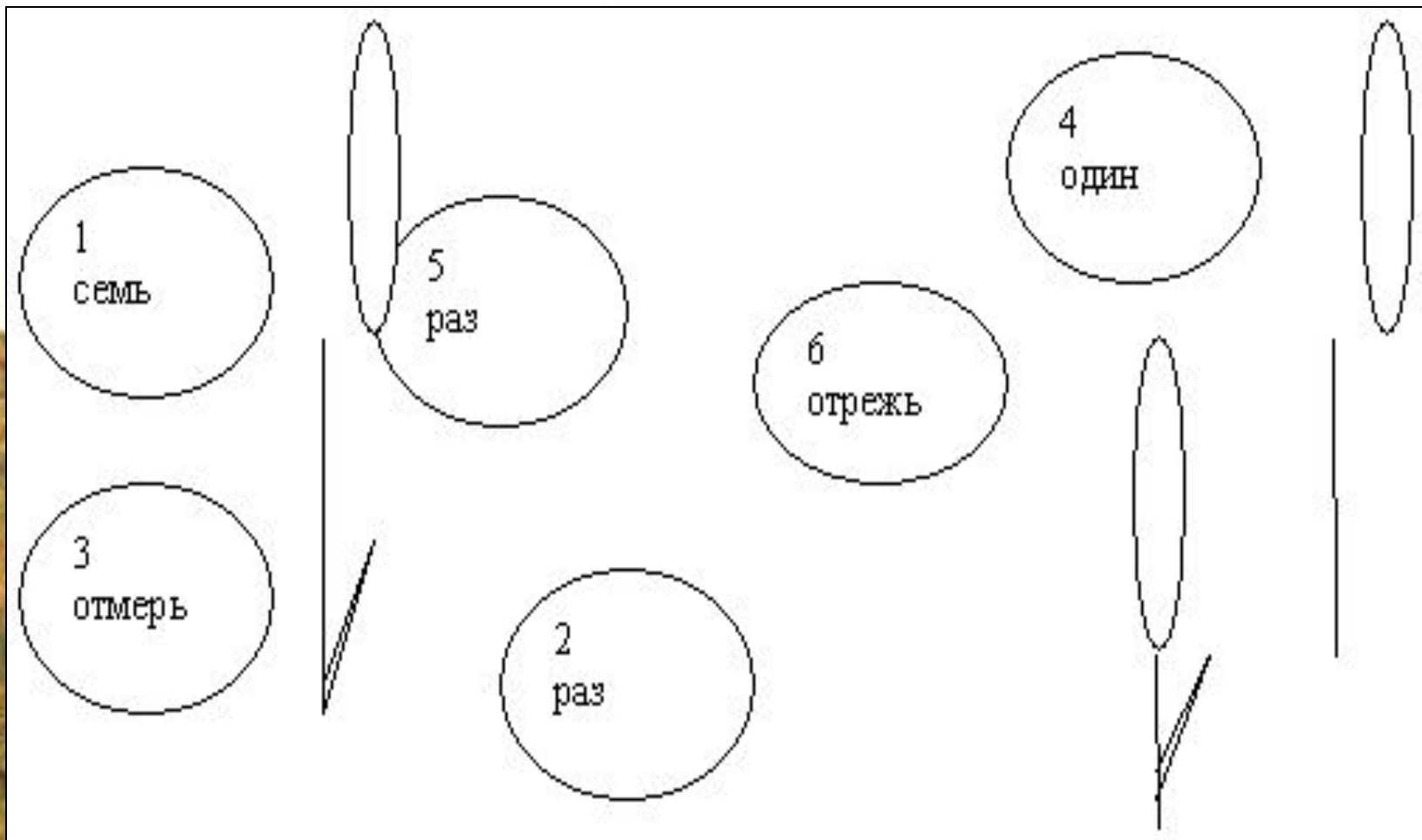
**ОТВЕТ.**




$$4 + 5 - 3 = 6$$



$$\begin{array}{c} 8 \\ 0 \end{array} - \begin{array}{c} 5 \\ 0 \end{array} + \begin{array}{c} 3 \\ 0 \end{array} = \begin{array}{c} 6 \\ 0 \end{array}$$



Семь раз отмерь, один раз отрежь





# СКОРОГОВОРКИ

КАК У ГОРКИ НА ПОЛГОРКЕ ЖИЛИ ТРИДЦАТЬ ТРИ ГОРКИ



# СКОРОГОВОРКИ

- *Под горой у сосновой опушки*
- *Жили-были четыре старушки.*
- *Жили-были четыре старушки,*
- *Все четыре большие болтушки.*



# СКОРОГОВОРКИ

- *Раз дрова,*
- *Два дрова,*
- *Три дрова.*



# Дворец Коварной Ошибки



• 1кл. Взял иголку ёжик в лапки.

• Стал он шить зверятам шапки.

• Две – для маленьких зайчат,  
А четыре – для волчат.

Ёжик шапки шьёт толково.

Сколько шапок у портного?



- **Вы слышали? Вы слышали?**
- **Физкультура в новом зале!**
- **И бегут туда вприпрыжку**
- **Все девчонки, семь мальчишек,**
- **Будут прыгать и играть-**
- **Всех их ровно 25!**
- **Подскажите, чтоб все знали.**
- **Сколько девочек в спортзале?**



**1 кл. Васька – ловкий  
рыбачок –**

**Ловит рыбок на  
крючок**

**Трёх поймал он на  
рассвете,**

**Трёх поймал в  
вечерний час.**

**Три плюс три,  
любой ответит,**

**Сколько рыб всего  
у нас.**



• 2 кл.

Пришли к Айболиту лечиться  
Олени, две серых волчицы,  
Три маленьких белых зайчонка  
За ними – одна собачонка.



- Стоят все пятнадцать и плачут:
- «Когда же лекарства  
назначат?»








- Скажи без капризов и лени  
Сколько там было оленей?








- 1 кл. Малыши в футбол играли
- И голы всё забивали:
- Два гола забил Серёжа,
- Три гола забил я тоже.
- Сколько же всего голов
- На счету у игроков?







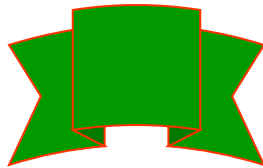




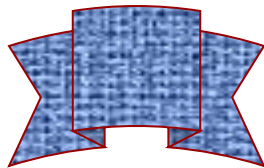




- 2 кл. Как у наших малышей головы все в бантиках:



- Три бордовых, пять весёлых,
- Восемь красных, два зелёных.

- Посчитайте поскорей бантики у малышей.



**ЗАДАЧА**

**Решение**

**Вопрос** **Условие**

**Ответ**

**Рыцарь Пример**

**МОЛОДЦЫ!**

