





**Внеклассное мероприятие по  
теме: "Путешествие в царство  
математики"**



**Добро пожаловать  
в счётное королевство.**



Его величество  
Король **Число**.

Её величество  
Королева **Цифра**.

- Сколько карандашей на рисунке?
- Сколько книг на полке?
- Сколько парт в классе?
- Сколько курточек на рисунке?

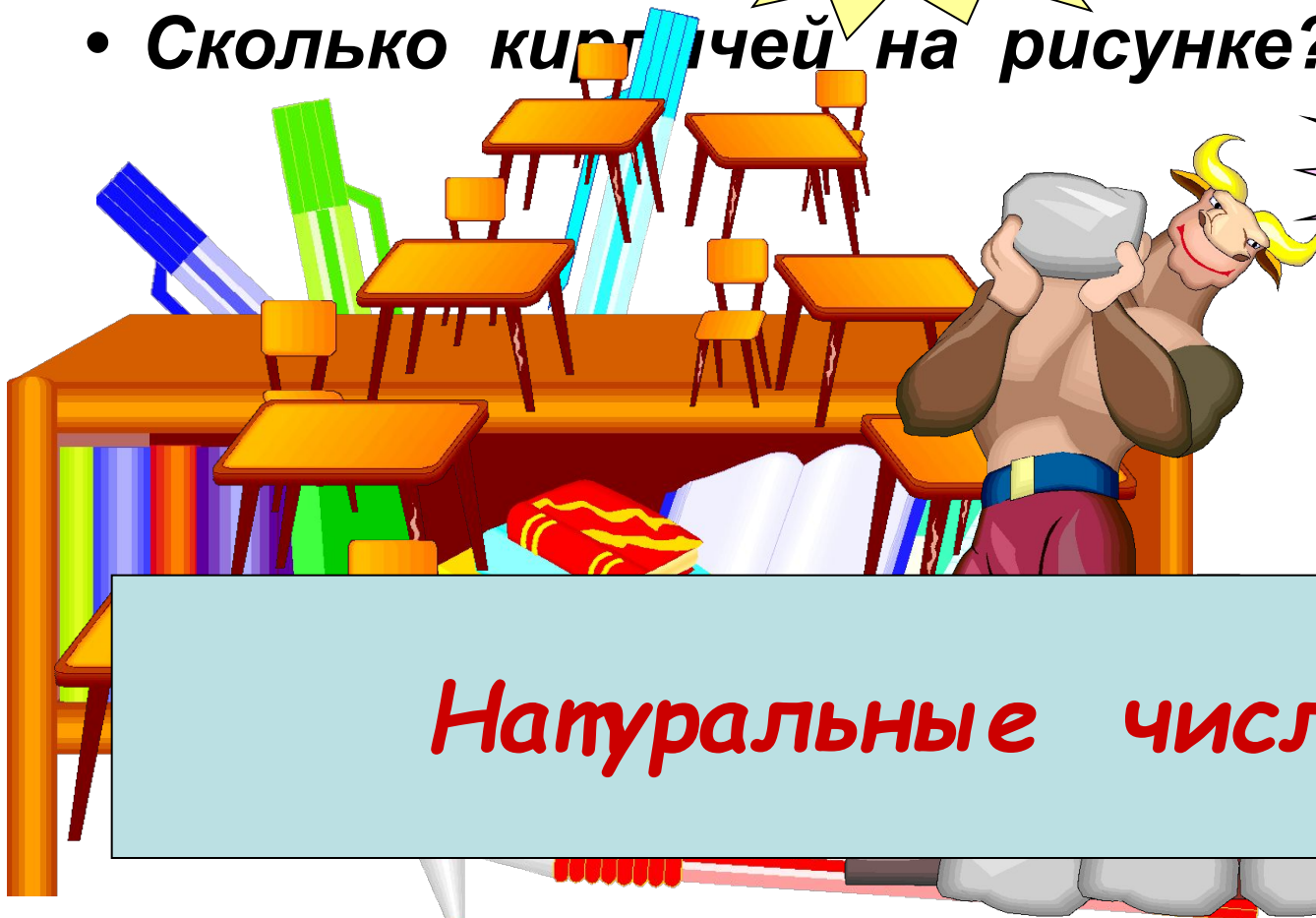
4

14

8

14

**Натуральные числа.**



Какие цифры вы знаете?



1

6

7

2

8

4


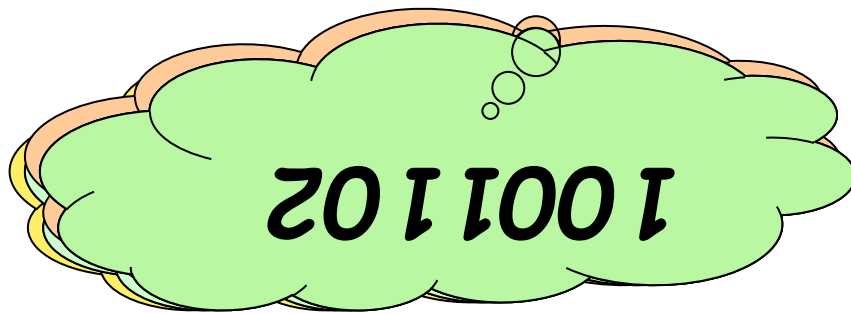
3

5

9

Однозначные числа.

Прочитайте числа:






# Сложение и вычитание натуральных чисел.



*Как нету на свете без ножек столов,  
Как нету на свете без рожек козлов,  
Котов без усов и без панцирей раков,  
Так нет в арифметике  
действий без знаков.*



$$26 + 13 = 39$$

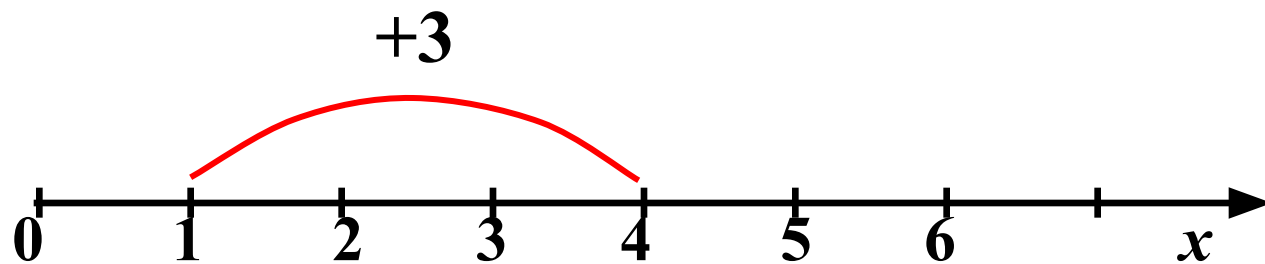


Сумма

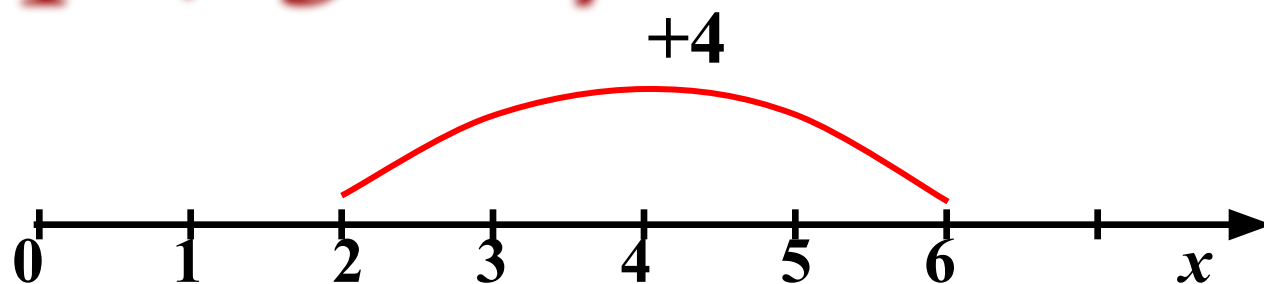
Слагаемые







$$1 + 3 = 4$$



$$2 + 4 = 6$$

**Сложение чисел можно изобразить на координатном луче.**



Найдите результат сложения:

$$1 + 0 = .1$$

$$0 + 24 = 24$$


$$12 + 0 = 1.2$$

$$0 + 71 = 7.1$$



*С вычитанием ты тоже хорошо знаком.  
Думаю, ты не забыл еще, что вычитание –  
это действие обратное сложению.*

$$26 - 15 = 11$$



*Уменьшаемое*

*Вычитаемое*

*Разность*



Найдите разность:

$$19 - 4 = .5$$

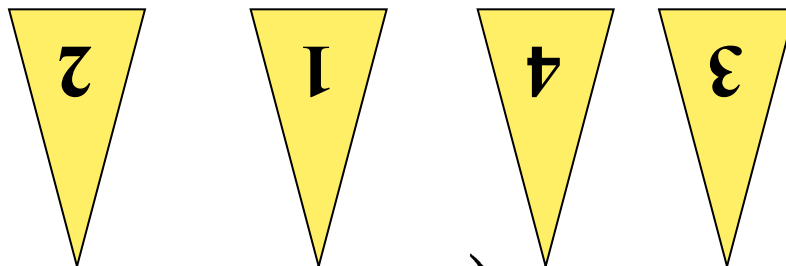
$$22 - 3 = 1.9$$

$$42 - 30 = 1.2$$


$$98 - 27 = 7.1$$



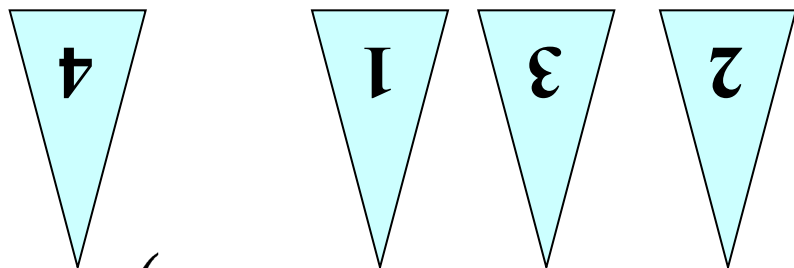
Укажите порядок действий в примерах:





a)  $(41201 - 305 : 35) + 21 \cdot 3$



Укажите порядок действий в примерах:



$$б) 4235 + (4121 : 21 - 42 \cdot 590)$$



$$140:2 = \begin{matrix} 7 \\ 0 \end{matrix}$$

$$\begin{matrix} + \\ 5 \\ 0 \end{matrix}$$

$$120$$

$$\begin{matrix} : \\ 4 \end{matrix}$$

$$30$$

$$\begin{matrix} - \\ 2 \\ 9 \end{matrix}$$

$$1$$

$$\begin{matrix} \times \\ 8 \end{matrix}$$

$$560 +$$

$$\begin{matrix} 4 \\ 4 \end{matrix}$$

$$1000^0$$

$$\begin{matrix} : \\ 1 \\ 0 \end{matrix}$$

$$100$$

$$+$$

$$101$$



**Выполните действия:**



$$a) 57369 + 2947 = 60316$$

$$б) 97343 - 2089 = 95254$$

$$в) 123 \cdot 305 = 37515$$

$$г) 5220 : 145 = 36$$

$$д) 49 \cdot 23 + 3920 : 28 =$$

1267





Баба Яга утверждает что  
Змей Горыныч не пролетит 1000 км  
без дозаправки. Кощей Бессмертный  
поспорил с ней на бочку кваса, что  
пролетит Змей Горыныч  
пролетел 4 часа со скоростью  
247 км/ч и, совершив  
вынужденную посадку, съел  
Ивана царевича. Проиграла  
Баба Яга. Не пролетела

или

988км

проиграла!



- *Иллюзионисту для фокусов необходим прямоугольный лист бумаги. Найдите периметр и площадь данного листа, если его стороны 4 дм и 9 дм.*

*Периметр:*


26 дм

*Площадь:*

36 кв.дм

4 дм

9 дм






**Найди правильный  
ответ:**

6

36

Произведение  
чисел 18 и 3  
равно



15

54

**Выбери и укажи правильный вариант  
ответа.**



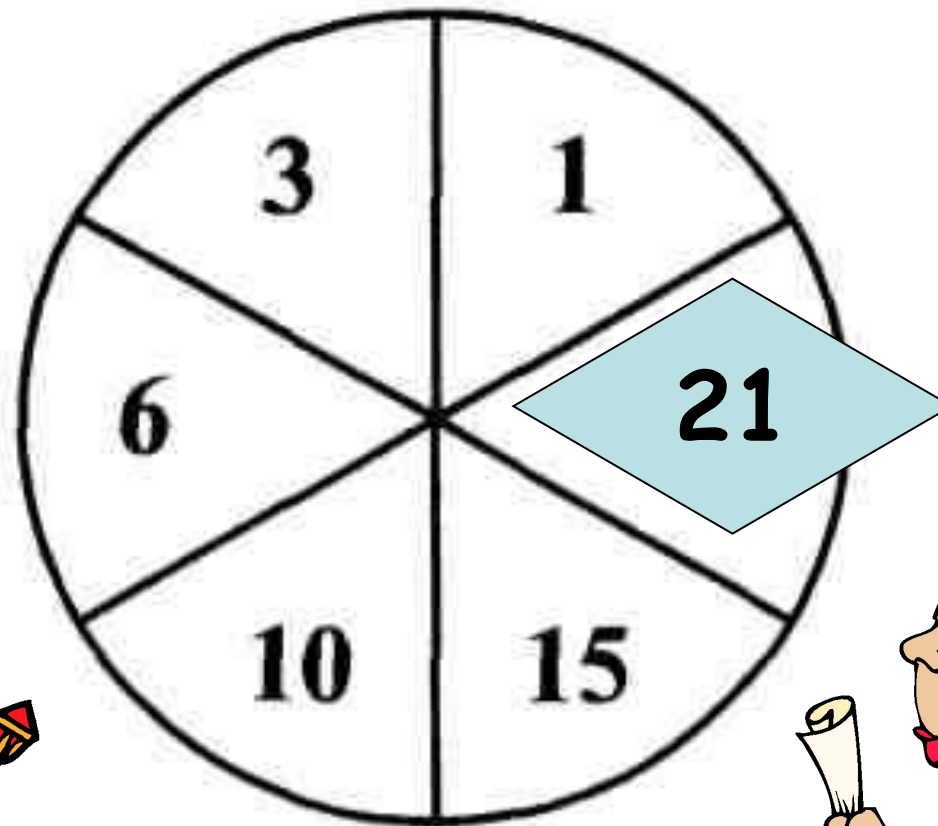
10015  
м

1015 м

10 км 15 м

10150  
м

**Определи неизвестное число.**



# Запись числа в виде суммы разрядных слагаемых.

- Запишите число в виде суммы разрядных слагаемых:

**а)**  $2070003810 = 2000000000 + 70000000 + 3000 + 800 + 10$

**б)**  $940030614 =$

**в)**  $1450807 =$

**г)**  $20607 =$



