





**Внеклассное мероприятие по
теме: "Путешествие в царство
математики"**



**Добро пожаловать
в счётное королевство.**



Его величество
Король **Число**.

Её величество
Королева **Цифра**.

- Сколько карандашей на рисунке?
- Сколько книг на полке?
- Сколько парт в классе?
- Сколько курточек на рисунке?

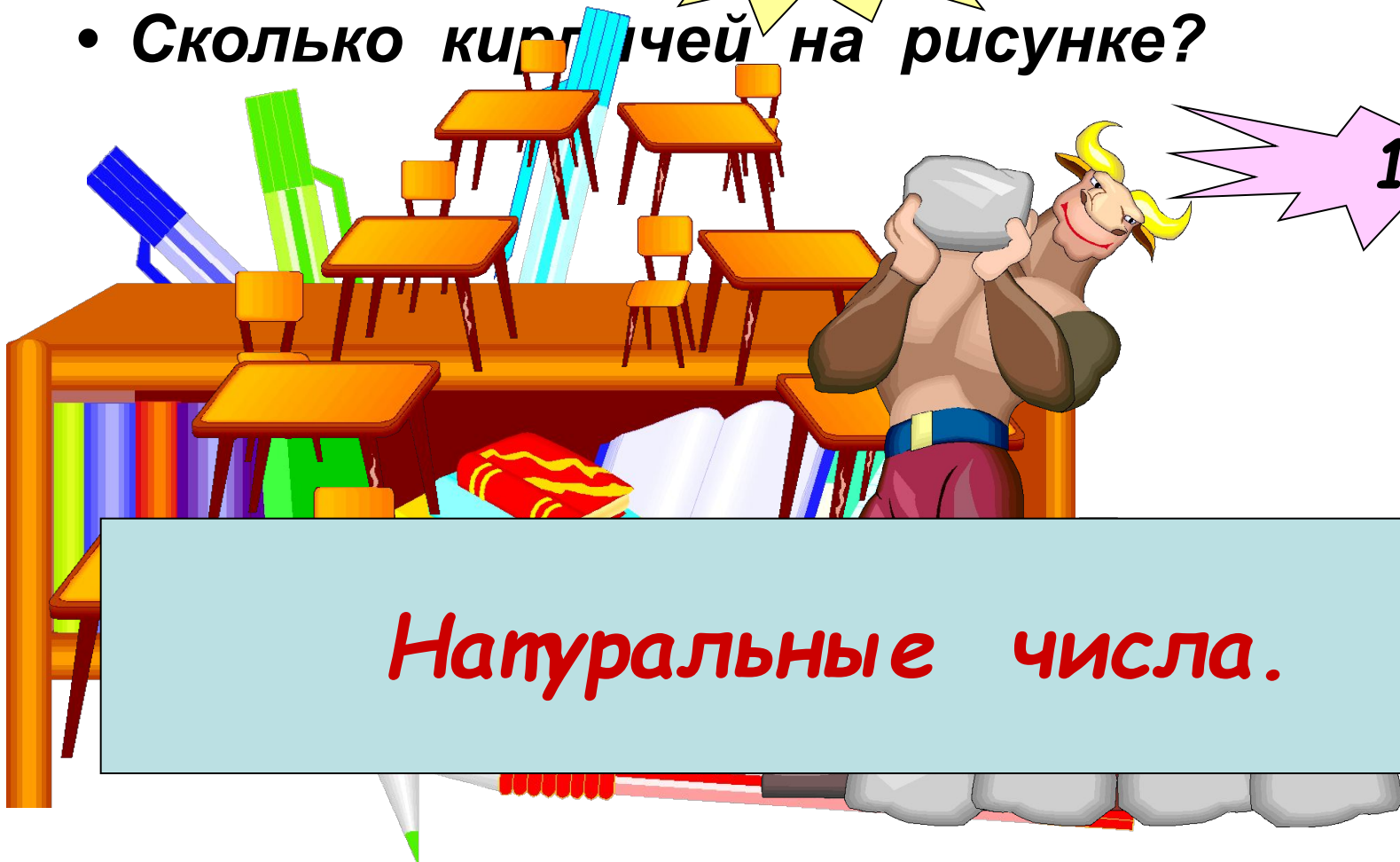
4

14

8

14

Натуральные числа.



Какие цифры вы знаете?



1

6

7

2

Однозначные числа.

8

4



3

5

9

Прочитайте числа:

1001102





Сложение и вычитание натуральных чисел.



*Как нету на свете без ножек столов,
Как нету на свете без рожек козлов,
Котов без усов и без панцирей раков,
Так нет в арифметике
действий без знаков.*



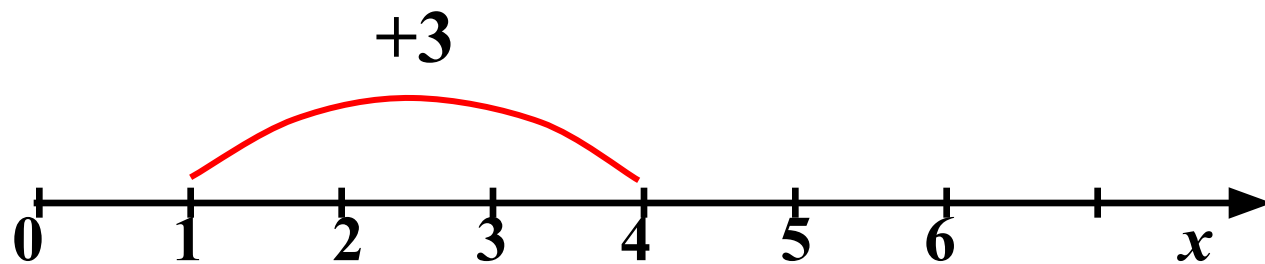
$$26 + 13 = 39$$

???

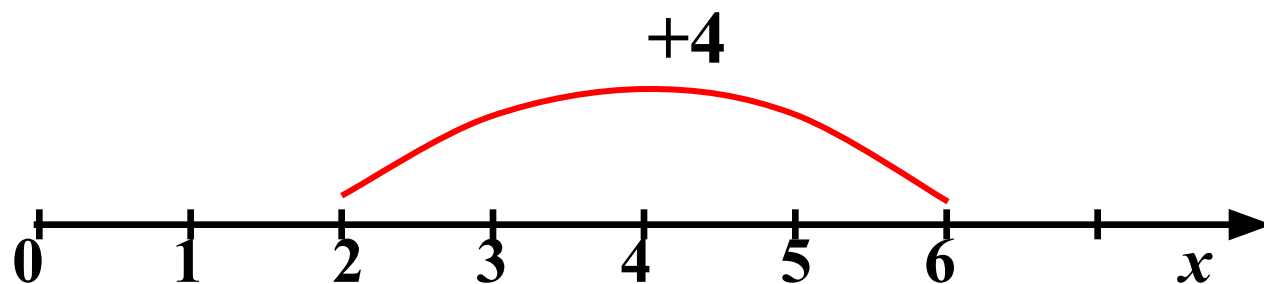
Сумма

Слагаемые





$$1 + 3 = 4$$



$$2 + 4 = 6$$

Сложение чисел можно изобразить на координатном луче.



Найдите результат сложения:

$$1 + 0 = .1$$

$$0 + 24 = 24$$

$$12 + 0 = .12$$

$$0 + 71 = .71$$



*С вычитанием ты тоже хорошо знаком.
Думаю, ты не забыл еще, что вычитание –
это действие обратное сложению.*

$$26 - 15 = 11$$

???

Уменьшаемое

Вычитаемое

Разность



Найдите разность:

$$19 - 4 = \underline{.5}$$

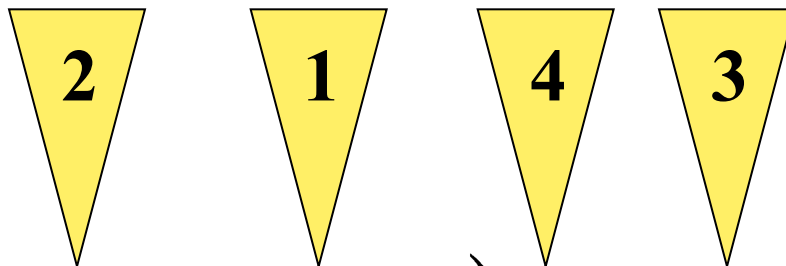
$$22 - 3 = \underline{.19}$$

$$42 - 30 = \underline{.12}$$


$$98 - 27 = \underline{.71}$$



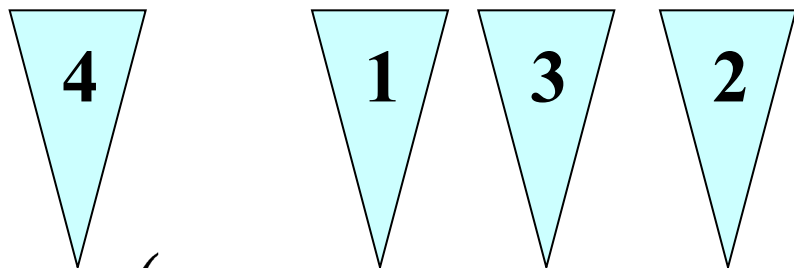
Укажите порядок действий в примерах:




a) $(41201 - 305 : 35) + 21 \cdot 3$



Укажите порядок действий в примерах:



$$б) 4235 + (4121 : 21 - 42 \cdot 590)$$



$$140 : 2 = 70$$

$$+ 50$$

$$120$$

$$: 4$$

$$30$$

$$- 29$$

$$1$$

$$\times 8$$

$$560 +$$

$$44$$

$$1000^0$$

$$: 10$$

$$100$$

$$+$$

$$101$$



Выполните действия:



$$a) 57369 + 2947 = 60316$$

$$б) 97343 - 2089 = 95254$$

$$в) 123 \cdot 305 = 37515$$

$$г) 5220 : 145 = 36$$

$$д) 49 \cdot 23 + 3920 : 28 =$$

1267



Баба Яга утверждает что
Змей Горыныч не пролетит 1000 км
без дозаправки. Кощей Бессмертный
поспорил с ней на бочку кваса, что
пролетит Змей Горыныч
пролетел 4 часа со скоростью
247 км/ч и, совершив
вынужденную посадку, съел
Ивана царевича. Проиграла
Баба Яга. Не пролетела

или

988км

проиграла!



- *Иллюзионисту для фокусов необходим прямоугольный лист бумаги. Найдите периметр и площадь данного листа, если его стороны 4 дм и 9 дм.*

Периметр:



26 дм

Площадь:

36 кв.дм

4 дм

9 дм






**Найди правильный
ответ:**

6

36

Произведение
чисел 18 и 3
равно



15

54

**Выбери и укажи правильный вариант
ответа.**

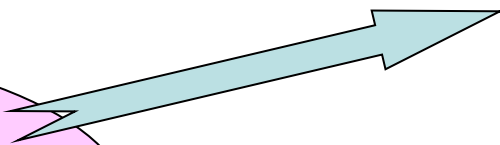


10015
м

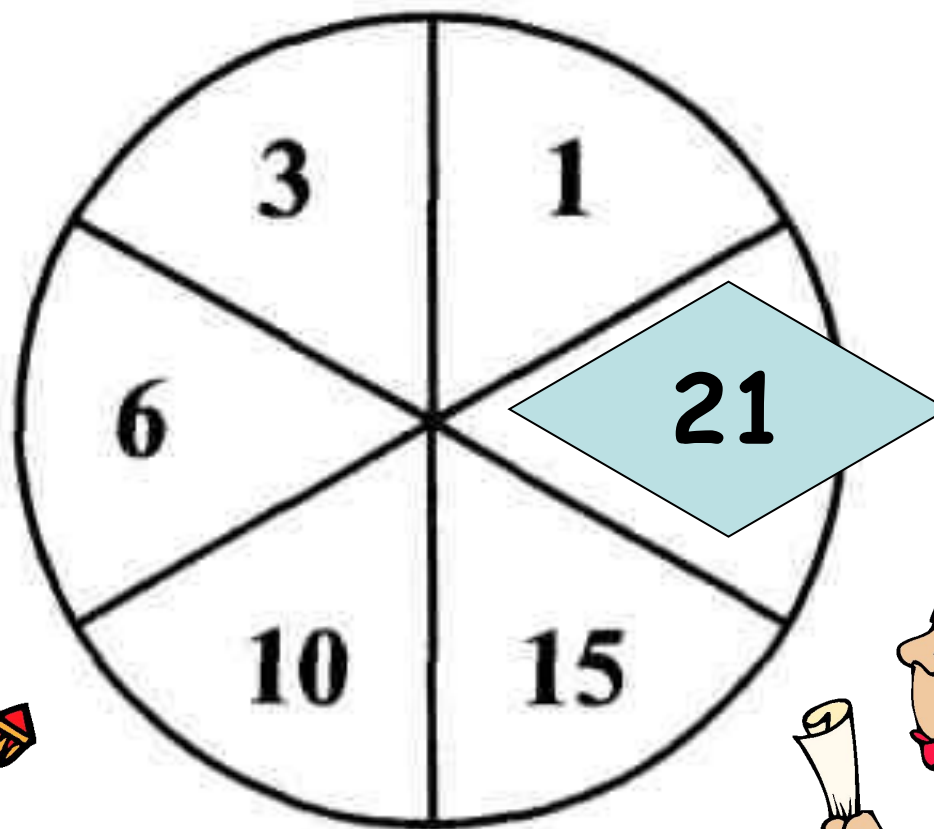
1015 м

10150
м

10 км 15 м



Определи неизвестное число.



Запись числа в виде суммы разрядных слагаемых.

- Запишите число в виде суммы разрядных слагаемых:

а) $2070003810 = 2000000000 + 700000000 + 3000 + 800 + 10$

б) $940030614 =$

в) $1450807 =$

г) $20607 =$





Попробуй сам нарисовать

чьих-либо портреты из цифр.

