

2 урок.

Задача

МОУ СОШ №2
г.Петровск-Забайкальский
Пелепягина Эльвира Анатольевна

Это математический рассказ.

На полке стоят плюшевые
мишки и 3 куклы. Всего
шесть игрушек.

Это задача.

На полке стоят **3** плюшевых мишки и **3** куклы.

Сколько игрушек на полке?

Найди отличия.

На полке стоят плюшевые мишки и 3 куклы. Всего шесть игрушек.

На полке стоят 3 плюшевых мишки и 3 куклы. Сколько игрушек на полке?

Исследуем: из чего состоит
задача?

Задача.

На полке стоят 3
плюшевых мишки и 3
куклы.

Сколько игрушек на полке?

$$3+3=6 \text{ (и)}$$

Ответ: 6 и.

УСЛОВ




ВОПРОС

РЕШЕНИЕ

ОТВ

ЕТ

Задачу можно зарисовать.



Назови составные части задачи.

1. Условие.

2. Вопрос.

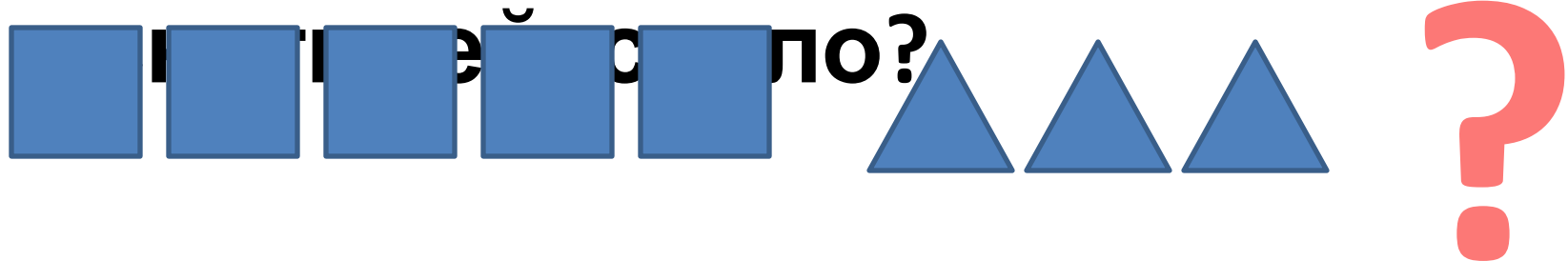
3. Решение.

4. Ответ.

Реши задачу.

Было 5 снегирей.

Прилетели ещё 3. Сколько



$$5+3=8 \text{ (с)}$$

Ответ: 8 с.

Составь задачу по рисункам.

Рефлексия.

-Что я умею?

-Что я не умею?

- С каким настроением закончили урок?

