

# \* Математика

ТЕМА: РАНЬШЕ ПОЗЖЕ СНАЧАЛА ПОТОМ



ТЕМА: БОЛЬШЕ МЕНЬШЕ РАВНО

ТЕМА: СЛОЖЕНИЕ ВЫЧИТАНИЕ

Выполнила ученица  
5 класса В  
Школы №35  
Момунова Алина

Томск 2017

# РАНЬШЕ ПОЗЖЕ СНАЧАЛА ПОТОМ




Что было *раньше,*  
*позже, сначала,*  
*потом?*



# РАНЬШЕ ПОЗЖЕ СНАЧАЛА ПОТОМ

1. Сколько сказочных героев?
2. Кто находится слева? Справа? Посередине?
3. Кто стоит вторым слева? Третьим справа? Первым слева? Вторым справа?
4. Который по счету почтальон Печкин? Буратино? Карлсон?



1. 5 героев
2. Слева: Буратино  
Кот Леопольд  
Справа: Незнайка  
Печкин  
Посередине: Карлсон
3. Кот Леопольд  
Карлсон  
Буратино  
Печкин
4. Печкин 4  
Буратино 1  
Карлсон 3



# РАНЬШЕ ПОЗЖЕ СНАЧАЛА ПОТОМ



ДИМА



ВОВА



КАТЯ



ПЕТЯ



Кто идёт первым?

На каком месте идёт Катя?

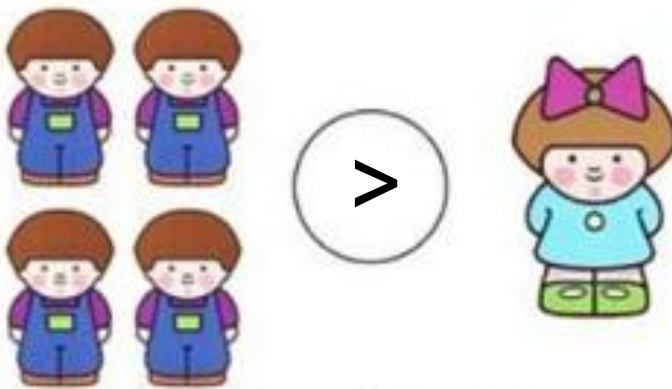
Кто идёт за ней? На каком он месте?

Кто идёт последним?

1. Петя
2. На 2
3. Вова  
На 3
4. Дима




# БОЛЬШЕ МЕНЬШЕ РАВНО



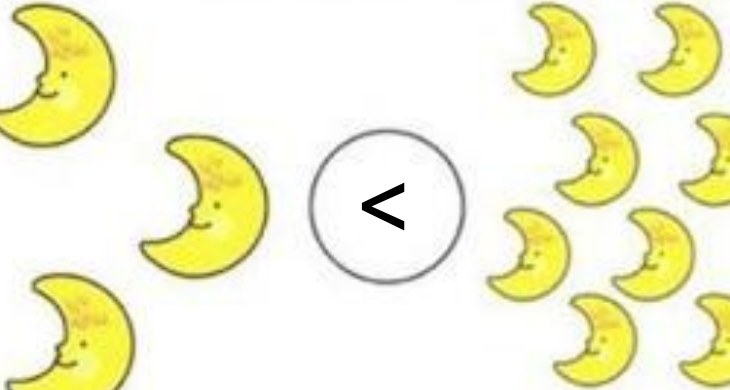
6 boys in blue overalls and purple shirts are on the left. 1 girl in a light blue shirt and green pants with a pink bow is on the right. A large circle with a greater-than sign (>) is in the center.

< = >




7 hats with purple pom-poms and brown and purple stripes are on the left. 8 hats with purple pom-poms and brown and purple stripes are on the right. A large circle with a less-than sign (<) is in the center.

< = >



3 yellow crescent moons with faces are on the left. 8 yellow crescent moons with faces are on the right. A large circle with a less-than sign (<) is in the center.

< = >



9 sailboats with red and yellow sails are on the left. 3 sailboats with red and yellow sails are on the right. A large circle with a greater-than sign (>) is in the center.

< = >

# БОЛЬШЕ МЕНЬШЕ РАВНО

$$6-4 < 5+1$$

$$8+1 > 6-3$$

$$8-3 = 5+0$$









$$3+2 < 4+2$$

$$9-2 = 3+4$$

$$5+1 > 9-5$$




# БОЛЬШЕ МЕНЬШЕ РАВНО

 <p data-bbox="492 328 647 485">^</p>  <p data-bbox="386 621 763 728">&lt; = &gt;</p>	 <p data-bbox="1304 328 1458 485">^</p>  <p data-bbox="1226 621 1584 728">&lt; = &gt;</p>
 <p data-bbox="511 892 666 1049">^</p>  <p data-bbox="396 1185 772 1292">&lt; = &gt;</p>	 <p data-bbox="1304 906 1458 1063">&gt;</p>  <p data-bbox="1226 1199 1584 1306">&lt; = &gt;</p>



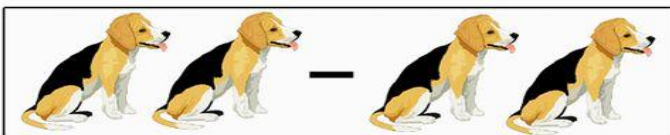
# СЛОЖЕНИЕ И ВЫЧИТАНИЕ

## Вычитание




9 red peppers minus 2 red peppers equals 7

$$9 - 2 = 7$$




4 dogs minus 4 dogs equals 0

$$4 - 4 = 0$$




3 ships minus 1 ship equals 2

$$3 - 1 = 2$$




8 glasses of juice minus 3 glasses of juice equals 5

$$8 - 3 = 5$$



5 pineapples minus 4 pineapples equals 1

$$5 - 4 = 1$$




6 flowers minus 3 flowers equals 3

$$6 - 3 = 3$$


# СЛОЖЕНИЕ И ВЫЧИТАНИЕ

## Сложение



$$2 + 2 = 4$$


$$3 + 3 = 6$$


$$1 + 1 = 2$$


$$4 + 4 = 8$$


$$3 + 4 = 7$$


$$2 + 1 = 3$$

# СЛОЖЕНИЕ И ВЫЧИТАНИЕ

$5+3=8$     $7-3=4$     $3+6=9$     $4-4=0$

$2+7=9$     $6-2=4$     $5+2=7$     $10-5=5$

$6+4=10$     $9-6=3$     $9+1=10$     $8-2=6$

$1+1=2$     $10-0=10$     $4+5=9$     $10-8=2$

МОЛОДЦЫ