

Тренажёр-раскраска

Таблица умножения и деления на 2



Анатольева Эльвира Васильевна
учитель начальных классов
МБОУ «Среднекибечская СОШ»
Канашского района ЧР



Дорогой друг!

Перед тобой чёрно-белая картинка с изображением милого зайчика, который отправился на рыбалку. Тебе предстоит закончить рисунок, раскрасив его в подходящие цвета. Справиться с этой задачей поможет знание таблицы умножения на 2.

Желаю удачи!





$$6 \times 2 = \square$$

12

14

16



$$9 \times 2 = \square$$



16

18

11




$$7 \times 2 = \square$$





$$1 \times 2 = \square$$





$$5 \times 2 = \square$$

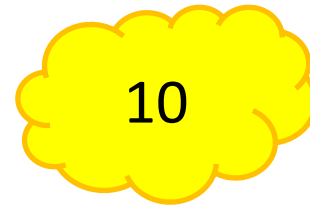

10

7

12





$$4 \times 2 = \square$$






$$2 \times 2 = \square$$





$$3 \times 2 = \square$$






$$8 \times 2 = \square$$

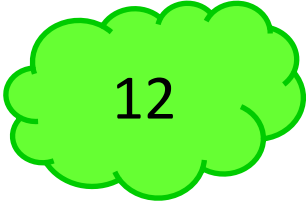
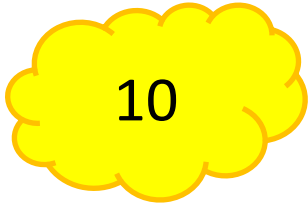
16


10

18



$$\square : 2 = 4$$





$$\square : 2 = 8$$

14

16

18



$$\square : 2 = 3$$





$$\square : 2 = 5$$



12

10

14





$$\square : 2 = 7$$





$$\square : 2 = 2$$





$$\square : 2 = 9$$



18

14

16





$$\square : 2 = 1$$





$$\square : 2 = 6$$





У тебя
получилась
яркая красочная
картинка.
Спасибо за
работу!



ИСТОЧНИКИ

<http://www.igraemsa.ru/igry-dlja-detej/risovalki/raskraska-dlja-detej-rybalka> раскраска

<http://s45.radikal.ru/i108/1012/ad/56867c6bd927.jpg>
художник Карандаш

<http://www.porkepyn.com/sounds/kidslaugh3.wav> смех