


Равенство и неравенство.




Составила: Антипова А.Л., МБОУ СОШ №1, 1 класс.



8

>

4



3

<

5



$$7 > 2$$

$$2 < 7$$



Сравнить числа: поставить знак $>$, $<$ или $=$.

$$6 > 5$$

$$1 < 9$$


$$5 = 5$$

$$3 = 3$$

$$8 > 4$$

$$2 < 8$$

Соединить рисунок
с соответствующим ему неравенством.



$$3 > 1$$



$$2 < 4$$



$$3 < 4$$



$$3 > 2$$

Найдите одинаковые по форме фигуры.

1



2




3




4



5



6





Молодцы!