

# Математика

## Тема: Равные фигуры

Подготовила учитель начальных классов Акуция  
Екатерина Евгеньевна  
МБОУ СОШ № 46  
Г. Краснодар  
2018

# Устный счет

Сестра старше брата на 1 год. На сколько лет сестра будет старше брата через 5 лет?

Чтобы рассадить 7 детей в комнате, не хватает 2 стульев.

○ Сколько стульев в комнате?

Наступил долгожданный декабрь, сначала зацвели 2 яблони, а потом еще 3 сливы. Сколько деревьев

○ зацвело? (*Нисколько*)

Таня сказала, что у неё кукол больше 4 и меньше 7. Сколько кукол могло быть у Тани?

○ Поезд состоит из 10 вагонов. Петя сел в пятый вагон от начала поезда, а Федя – в пятый вагон от конца. В одном ли вагоне они едут?

Я придумала два числа. Когда я их сложила, то получила 6. Когда же из одного вычла другое, то снова получила 6. Что же это за числа?

На горке катались 6 ребят. Двое ушли обедать, но после обеда вернулись на горку. Сколько ребят стало на горке?

# Математический диктант

- - Увеличьте 33 на 37 (70)
- - Уменьшите 80 на 42 (38)
- - Найдите сумму чисел 36 и 21 (57)
- - На сколько нужно уменьшить 90, чтобы получилось 38? (на 52)
- Увеличьте 4 в 5 раз (20)
- Уменьшите 12 в 3 раза (4)

# Математический диктант

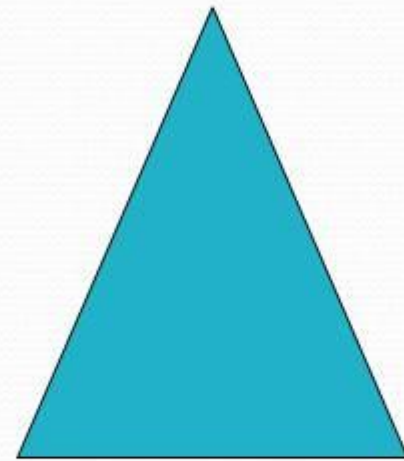

## взаимопроверка



70, 38, 57, 52, 20



,4



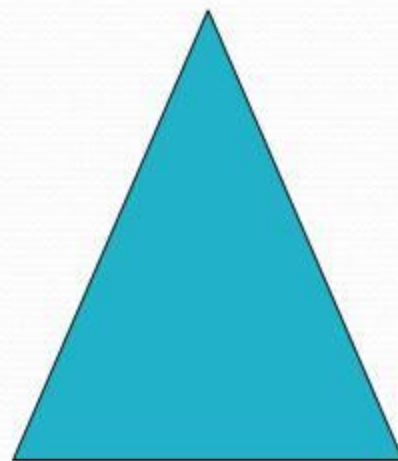

**✓ Что вы можете сказать об этих фигурах?**

**✓ Как вы думаете, какая тема урока?**

**✓ Что мы будем учиться делать?**


## Равенство фигур

Две геометрические фигуры называют равными, если их можно совместить друг с другом, наложив одну на другую.






# РАВНЫЕ ФИГУРЫ

Две фигуры **равны**, если их можно совместить наложением.

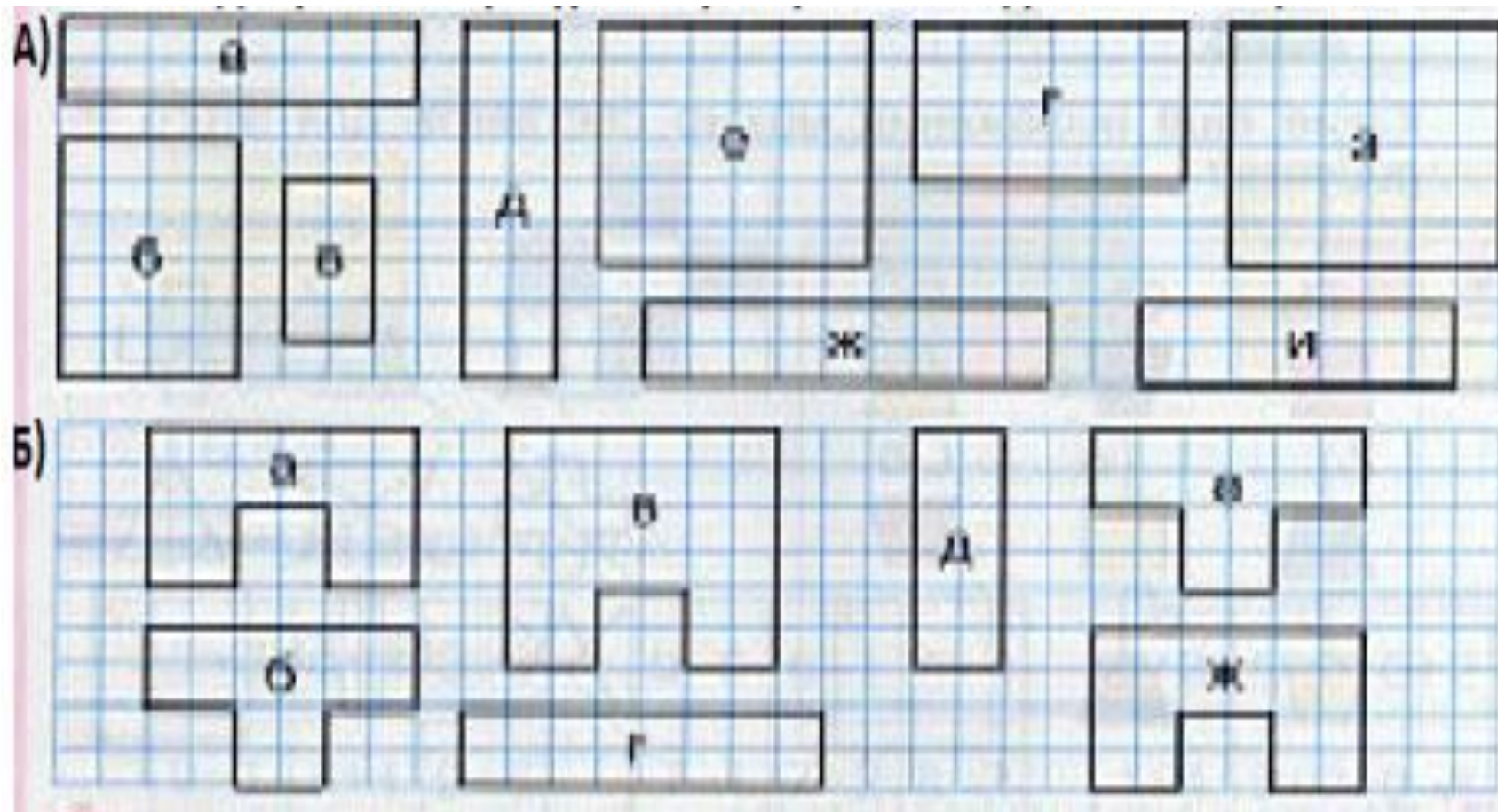


Найди и назови равные  
фигуры

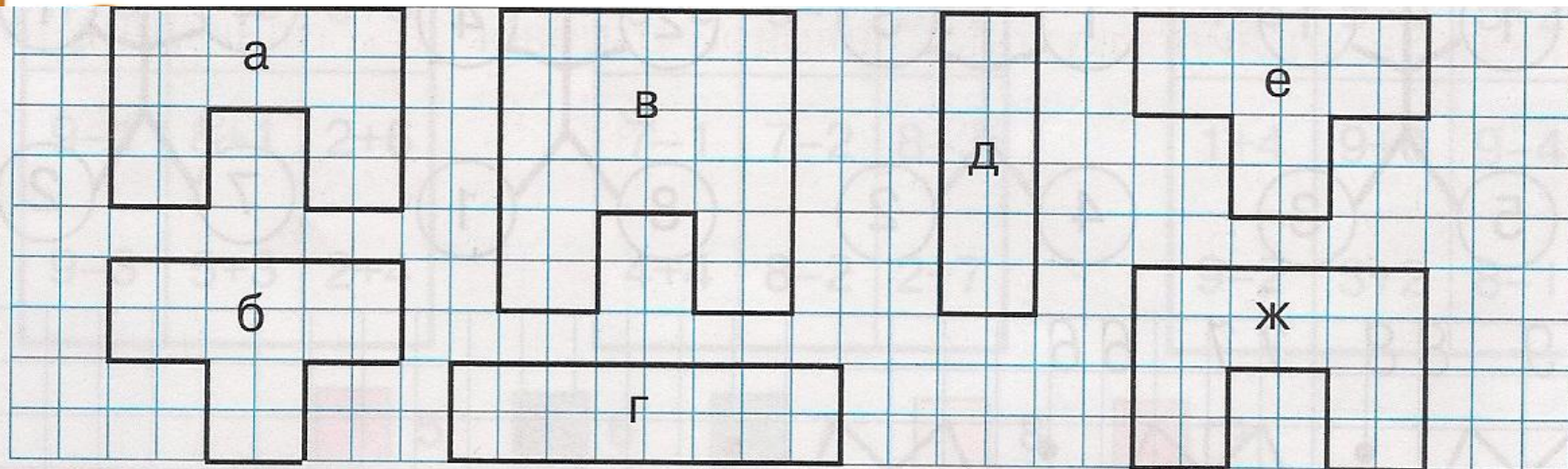




# Найди равные фигуры, начерти их в тетради



- Найди равные фигуры, обоснуй свой ответ.
- Начерти фигуры, равные а и д



**Выполни задания №2  
и 3**

**в учебнике, стр 61**

**(№4 1 и 2 столбик)**

**Запомни**

**!**  
**Отрезки равны,**

**если**

**равны их длины.**

# Повтори

М:



✓ Равные фигуры – это ....

✓ Отрезки равны, если....

# *Рефлексия урока*

*Продолжите фразу:*

- *«Сегодня на уроке я узнал...»*
- *«Сегодня на уроке я научился...»*
- *«Сегодня на уроке я познакомился...»*
- *«Сегодня на уроке я повторил...»*
- *«Сегодня на уроке я закрепил...»*

# Домашнее задание:

№4,6 стр  
62