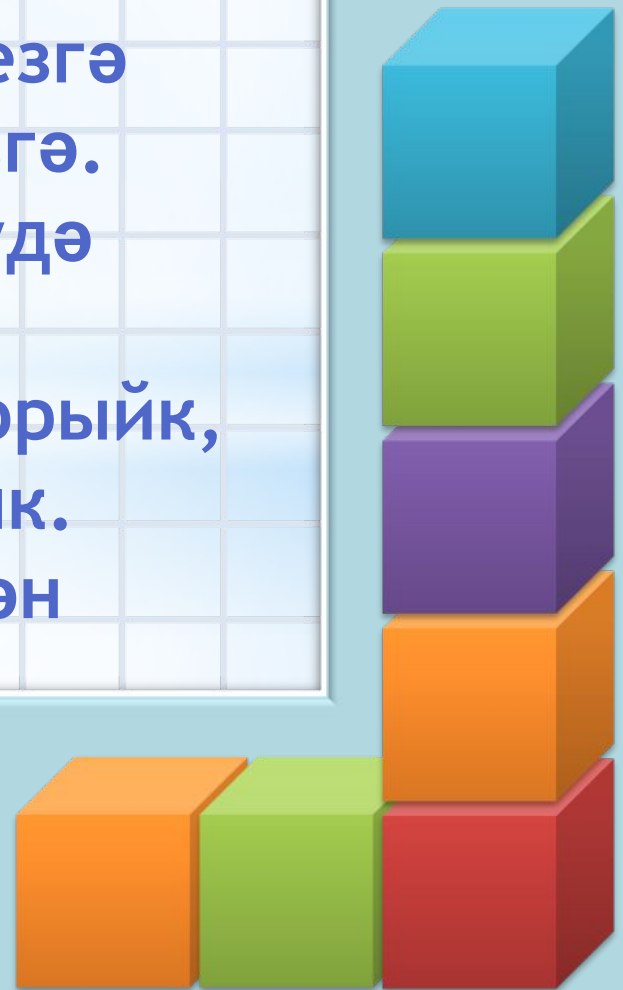


Хæерле көн, дуслар, сезгæ  
Хæерле көн, һæммæгезгæ.  
Математиканы өйрәнүдæ  
Уңышлар телим сезгæ  
Гел бишлеләр алып торыйк,  
Өлкәннәрне сөендерик.  
Шушы изге телæк белән  
Хæзер эшкæ керешик!




\*Текст слайда

“ Без үзебезнең табигатьнең  
хужалары һәм ул безнең өчен бөек  
тормыш байлыклары туплаган  
қояш хәзинәсе”.  
М. ПРИШВИН.




*nachalo4ka.ru*

1.  **Өч кешедән торган гаиләгә бер тәүлеккә 60 кг чиста һава кирәк. Безнең сыйныфка ничә кг һава кирәк булыр икән, әгәр сыйныфта 7 кеше булса? 0**

\*

**Телдән исәпләү**

*nachalo4ka.ru*



**2.** Бүлмэдэ су краны ага.6 минутта  
1 стакан тула. Өгэр 1 литрга 5  
стакан су керсэ ,1 сэг ничэ литр су  
агар икэн? **П**

**3.** Тукран бер тэүлектэ шулкадэр  
агач бөжэге ашый.

$$3234 - *** = 2484 \quad \mathbf{M}$$

4. Жир шарындагы 250000 төр үсемлекнең  $1/10$  өлеше югалу чигендә тора. Ничә төр үсемлек югалу чигендә тора? **К**



**5.** Камка (божья коровка) бер  
тәүлектә шулкадәр гөблә  
ашый.

$$*** + 263 = 423 \text{ Ч}$$

**6.** Ябалак бер елда шулкадәр  
кыр тычканы тотта.

$$**** - 438 = 562 \mathbf{A}$$

Сайрасын ал таңда  
сандугач,  
Кипмәсеннәр зәңгәр бу  
күлләр.  
Жир йөзәндә тормыш  
дәвам итсен,  
Саклык жиребезне,  
кешеләр!



# Почмакларның төрләре

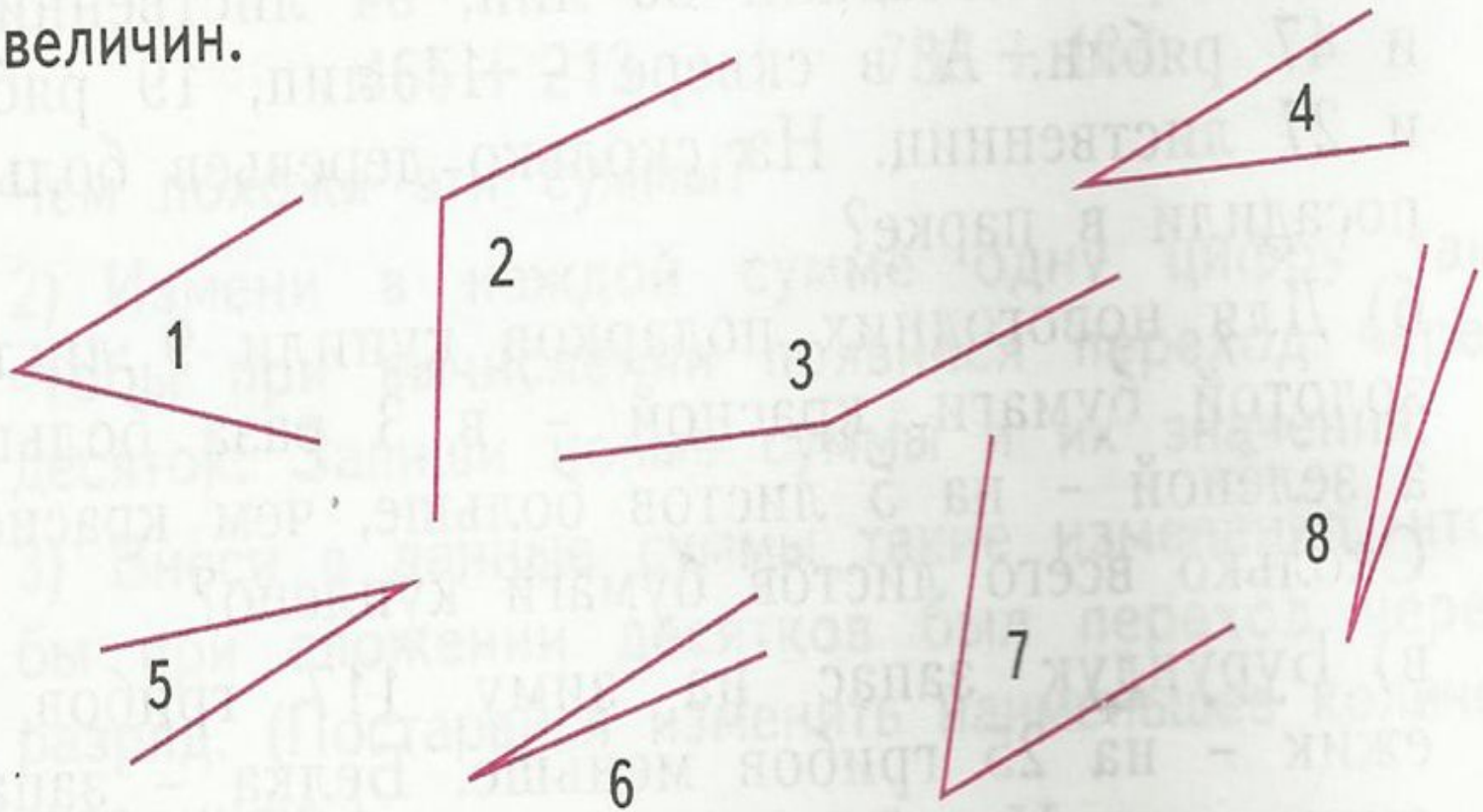


\* Ике нурдан торган  
геометрик фигура почмак  
дип атала.

Туры почмактан кечерәк булган  
почмакны - **КЫСЫНКЫ** почмак  
(острые углы) дип атыйлар.

\*Туры почмактан зуррак булган  
почмакны - *жәенке* почмак  
(тупые углы) дип атыйлар.

1) Запиши номера углов в порядке убывания их величин.



**3, 2, 7, 1, 4, 5, 8, 6**