

3 класс.

УРОК МАТЕМАТИКИ.

Ж.Ж. Руссо **(1712 - 1778гг.)**

« Вы талантливые дети!


**Когда-нибудь вы сами приятно поразитесь,
какие вы умные, как много и хорошо умеете,
если будете постоянно работать над собой,
ставить новые цели и стремиться к их
достижению...»**







**Сила,
выдержка,
хорошее
знание
математики.**



Тема: "Закрепление вычислительных навыков, повторение пройденного".

Урок - путешествие.



Юрий Алексеевич Гагарин.

12 апреля 1961 года



Юрий Алексеевич ГАГАРИН —
первый космонавт планеты

"КТО БЫСТРЕЕ?"



$72 : 8 =$

$81 : 9 =$

$? + 51 =$

$? + 41 =$

$? : 15 =$

$? : 5 =$

$? * 9 =$

$? * 7 =$

$? + 14 =$

$? - 12 =$

=50

=58

9

6
0

4

3
6

5
0

9
0

1
0

4
3


5
8

7
0

1
0

5
0

9



$16 * 5$

$60 : 2$

$30 - 14$

$200 - 140$

$400 : 2$

$80 * 5$



Просим вашей помощи...



У Алёши 3 альбома с марками на тему «Космос».
В двух альбомах у него по 40 марок.
В третьем альбоме 26 марок.
Сколько всего марок у Алёши?


▲ ▲ по 40 марок,
▲ - 26 марок.

Всего - ?

1)

2)

Ответ:





Мы рады приветствовать тебя, землянин!





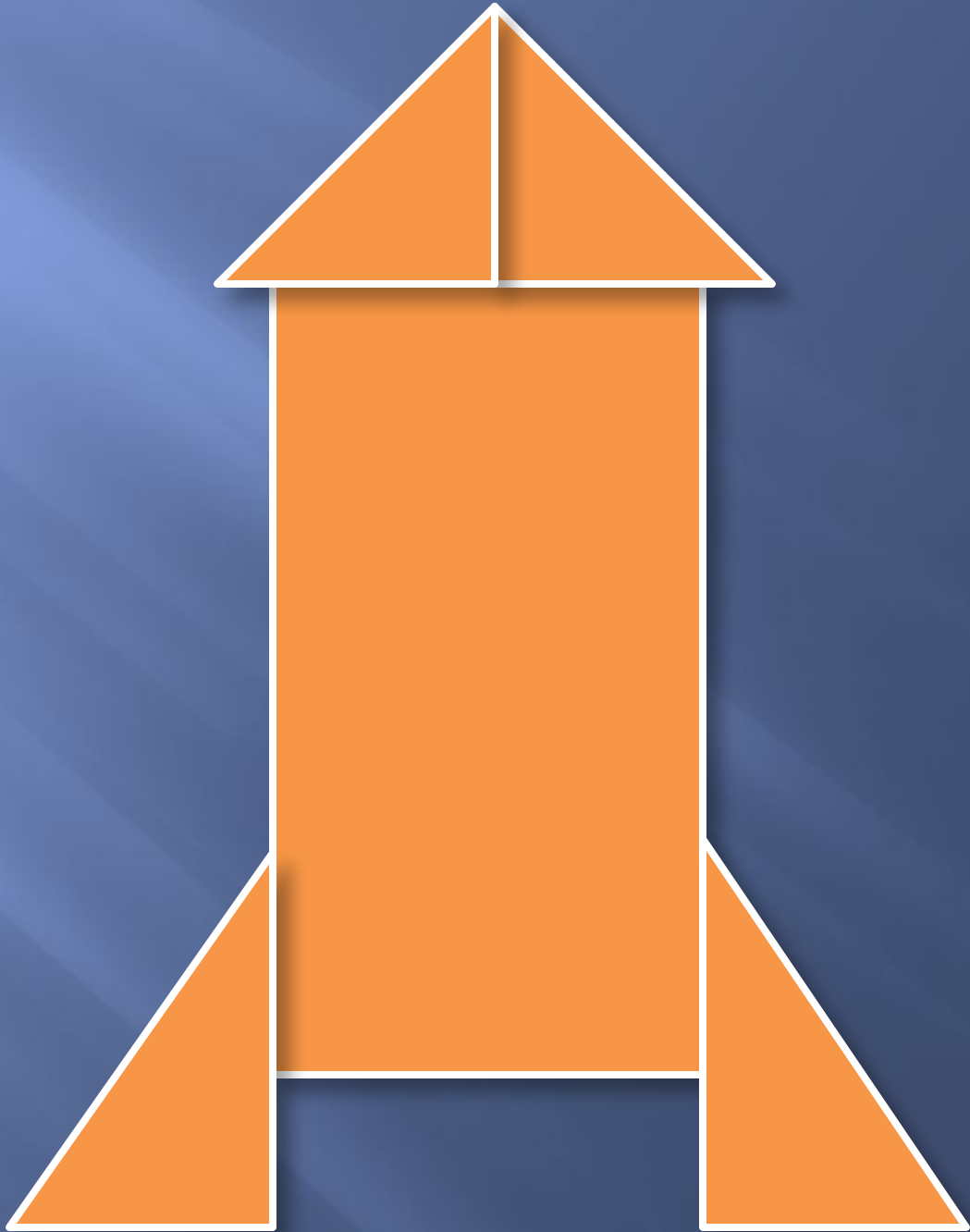
Подумай ещё, подумай ещё,
думай, думай, вернись и
думай.....











**Чтобы найти площадь
прямоугольника нужно -
длину умножить на
ширину.**

Площадь измеряется в...

квадратных сантиметрах

квадратных дециметрах

квадратных метрах

"Земля наша - голубая планета!

И её надо беречь!"



**Мы на Землю приземлились.
А чему мы научились?**



A space shuttle is launching vertically against a sunset sky. A large, billowing plume of white and yellow smoke and fire trails behind the shuttle, extending down to the water's surface. The sun is low on the horizon, creating a bright glow and reflecting on the water. A single bird is in flight to the right of the shuttle. Bare tree branches are visible in the foreground on the right side.

**Домашнее задание:
т.с. стр. 43**

Спасибо за урок!