


*Вчера корова Мурка дала Матроскину  
18 л молока, а сегодня – 21 л.*

*Шарик прополол в огороде 2 грядки.  
Одну в 10 м, другую в 17 м.*


*В прошлом году Винни-Пух заготовил  
40 л мёда, а в этом году 45л .*

*Для выздоровления Карлсону  
понадобилось 3 кг печенья, а конфет 5 кг.*

- 1 Чему равна масса котёнка в мышатах? А чему равна его масса в воробьишках? Сделай запись.



$$к = \square м$$



$$к = \square в$$

Какие единицы массы ты знаешь?

- 2 В банку входит 5 стаканов воды или 10 чашек воды. Чему равен объём банки в стаканах? В чашках? Сделай запись.



$$б = \square с$$

$$б = \square ч$$


Какие ещё единицы объёма ты знаешь?

- 3 Измерь длину парты в ладонях, в дециметрах. Сделай запись.


$$п = \square л$$

$$п = \square дм$$

Какие ещё единицы длины ты знаешь?



Площадь .



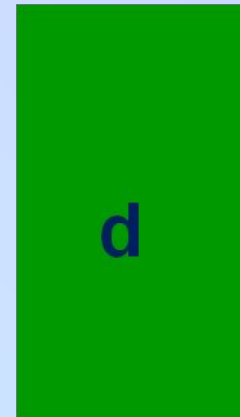

К-?

1 группа измерьте площадь **K** меркой a;

2 группа измерьте площадь **K** меркой b;

3 группа измерьте площадь **K** меркой c.

4 группа измерьте площадь **K** меркой d.



$$\mathcal{K} = 8a$$


$$\mathcal{K} = 4b$$

$$\mathcal{K} = 3c$$

$$\mathcal{K} = 2d$$

4

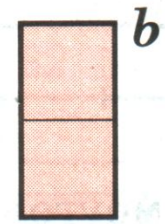
Измерь площадь прямоугольника  $m$  сначала клеточками ( $a$ ), а потом полосками ( $b$  и  $c$ ).



$$m = \square a$$



$$m = \square b$$



$$m = \square c$$



# Сегодня на уроке я...

Научился...

Было интересно...

Было трудно...

Мои ощущения...





