





Тренажёр



«Решение задач»

Инструкция:

1. Прочитай внимательно задачу.
2. Рассмотрите варианты решения задачи, выбери нужное и щёлкни мышью по правильному решению задачи.
3. Если решение верное, то появится Знайка, если неверное – Незнайка.
4. Щёлкни мышью на стрелочку и решай следующую задачу.



В магазин привезли 60 пакетов с молоком, а с кефиром на 10 пакетов больше. Сколько пакетов с кефиром привезли в магазин?



$$60 + 10 = 70 \text{ (п.)}$$

Ответ: 70 пакетов




- 60 п.

$$60 - 10 = 50 \text{ (п.)}$$

Ответ: 50 пакетов



-? на 10 п. >



У дедушки 10 кроликов. Из них 6 кроликов белые. А остальные чёрные. Сколько чёрных кроликов у дедушки?



$$10 - 6 = 4 \text{ (к.)}$$

Ответ: 4 кролика.




10 к.

$$10 + 6 = 16 \text{ (к.)}$$

Ответ: 16 кроликов.



?



На ёлке висело 12 шаров. 3 шара разбилось.
Сколько шаров осталось на ёлке?




$$12 + 3 = 15 \text{ (ш.)}$$

Ответ: 15 шаров.

$$12 - 3 = 9 \text{ (ш.)}$$

Ответ: 9 шаров.



Бабочек 11 штук, а стрекоз на 3 штуки меньше. Сколько стрекоз?



$$11 - 3 = 8 \text{ (с.)}$$

Ответ: 8 стрекоз.




-11 шт.

$$11 + 3 = 14 \text{ (с.)}$$


Ответ: 14 стрекоз.



-? на 3 шт.<



У Пеструшки было 8 цыплят, затем вывелись ещё 5 цыплят. Сколько цыплят стало у Пеструшки ?



$$8 + 5 = 13 \text{ (ц.)}$$



Ответ: 13 цыплят.



?ц.

$$8 - 5 = 3 \text{ (ц.)}$$

Ответ: 3 цыплёнка.




Семенами моркови засеяно 12 грядок,
семенами свёклы 5 грядок. На сколько
больше грядок засеяно семенами моркови,
чем свёклы?



$$12 + 5 = 17 \text{ (гр.)}$$

Ответ: 17 грядок



12 гр.


на ? >

$$12 - 5 = 7 \text{ (гр.)}$$

Ответ: на 7 грядок



5 гр.



Сначала срезали 7 красных тюльпанов, а затем 5 белых. Сколько тюльпанов срезали?



$$7 - 5 = 2 \text{ (т.)}$$


Ответ: 1 тюльпан.



? т

$$7 + 5 = 12 \text{ (т.)}$$

Ответ: 12 тюльпанов.



Когда в коробку с карандашами положили ещё 4 карандаша, в ней стало 12 карандашей. Сколько карандашей было в коробке?




$$12 - 4 = 8 \text{ (к.)}$$

Ответ: 8 карандашей.

? к

$$4 + 12 = 16 \text{ (к.)}$$

Ответ: 16 карандашей.



Отец и сын поймали 57 карасей. Из них 30 карасей поймал отец. Сколько карасей поймал сын?



30 к.

?к.




57к.

$$57 - 30 = 17 \text{ (к.)}$$

Ответ: 17 карасей.

$$57 + 30 = 87 \text{ (к.)}$$

Ответ: 87 карасей.



Ширина прямоугольника равна 4 см, длина – 6 см. Найди периметр прямоугольника.



6 см

$$4 + 6 = 10 \text{ (см)}$$


Ответ: $P = 10$ см.

$P - ?$

4 см

$$4 + 6 + 4 + 6 = 20 \text{ (см)}$$

Ответ: $P = 20$ см.



В одной папке 9 файлов, а в другой в 4 раза больше. Сколько файлов в другой папке?




$$9 \times 4 = 36 \text{ (ф.)}$$

Ответ: 36 файлов.

$$9 + 4 = 13 \text{ (ф.)}$$

Ответ: 13 файлов.

9 ф.



? ф.

