

РЕШЕНИЕ ЛОГИЧЕСКИХ ЗАДАЧ.



МАТЕМАТИКА 1,2 класс.

МОУ «Гимназия № 140» г.

Омск

Учитель: Коробейникова Т.В.


Лист бумаги согнули пополам, потом ещё раз пополам и по линиям сгиба разрезали. Сколько получилось листочков?





ОТВЕТ: получилось 4 листочка.



***Сообразите, сколько отметок карандашом
нужно сделать на доске, чтобы распилить её на
4 части.***



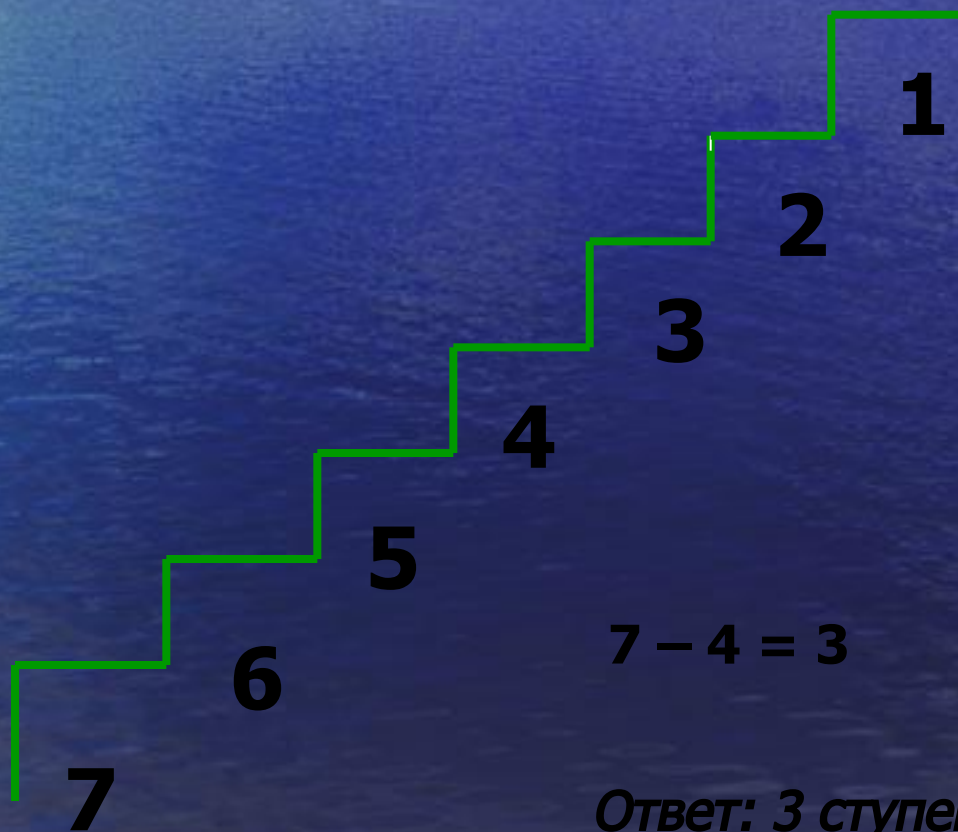
У Зины на 4 открытки меньше, чем у Коли. У Зины 6 открыток. Сколько открыток у Коли?



Змей-Горыныч приказал кузнецу сделать для его дворца 3 замка и к каждому замку 3 ключа -медный, серебряный, золотой. Сколько ключей должен сделать кузнец?



В погреб ведут 7 ступенек. Я опустился на 4 ступеньки. Сколько ступенек осталось до конца лестницы?



$$7 - 4 = 3$$

Ответ: 3 ступеньки.

