

Сложение вида $37+54$

УМК «Школа России»

Презентацию составила
Учитель начальных классов
Назарова О.Е.


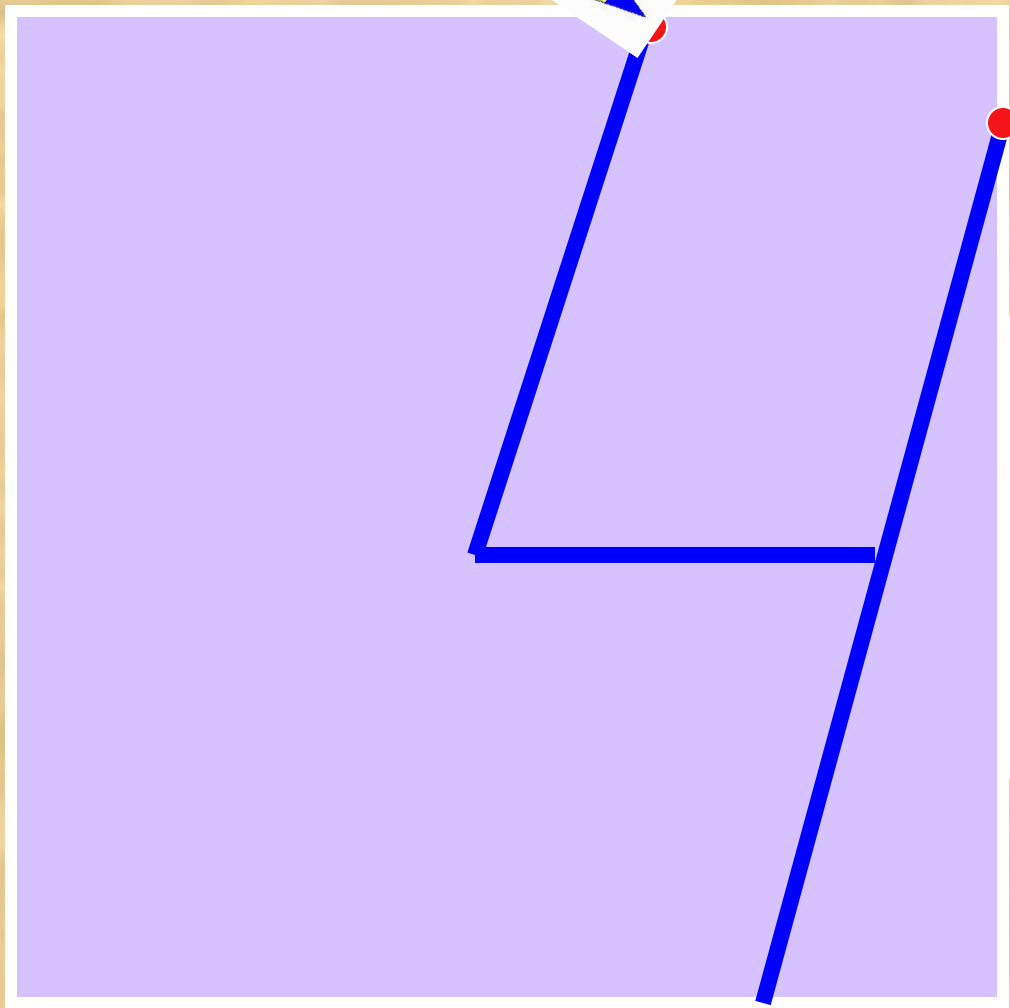

Устный счёт

- Уменьши 22 на 8
- 50 уменьшить на 20
- Запиши число, которое больше 49, но меньше 51
- Найди разность чисел 35 и 15
- На сколько 15 больше, чем 8

- Найди сумму чисел 55 и 5
- Запиши число, в котором 3д. 9ед.
- Напиши самое маленькое однозначное число
- Напиши самое большое двузначное число
- Запиши число, в котором 7дес. И столько же единиц

Проверь себя!

14 30 50 20 7 60 39 9 99 77




Объясни

$$\begin{array}{r} 48 \\ + 26 \\ \hline \end{array}$$

$$\begin{array}{r} 59 \\ - 41 \\ \hline \end{array}$$

$$\begin{array}{r} 80 \\ - 38 \\ \hline \end{array}$$

$$\begin{array}{r} 64 \\ - 38 \\ \hline \end{array} \quad \begin{array}{r} 85 \\ - 59 \\ \hline \end{array}$$



КТО ЕСТЬ КТО?




Мурзик

Нюся

Пушок

Это Нюся, Пушок и Мурзик.
Нюся и Мурзик не полосатые.
Справа от Нюси сидит Пушок.



Работа с учебником стр.30
№1,2,3у

ЯХТА

- 1) Большая и лёгкая спортивная парусная лодка
- 2) Небольшое судно для прогулок и спорта

С.И. Ожегов

The image shows the front cover of a dictionary. The cover is dark brown with a gold-colored border and a decorative pattern. The text is embossed in gold. The author's name 'С. И. ОЖЕГОВ' is at the top, followed by a small dot, then the title 'СЛОВАРЬ РУССКОГО ЯЗЫКА' in three lines, and another small dot at the bottom.

С. И. ОЖЕГОВ

СЛОВАРЬ
РУССКОГО
ЯЗЫКА

Работа по учебнику стр.13 №4





16 яхт

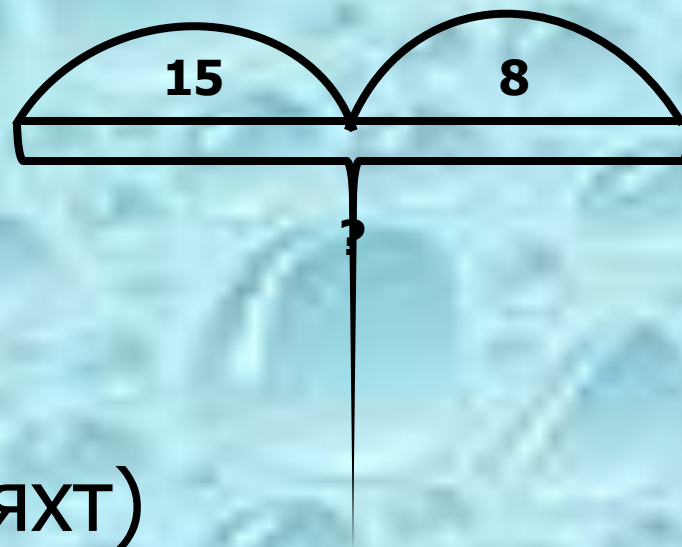
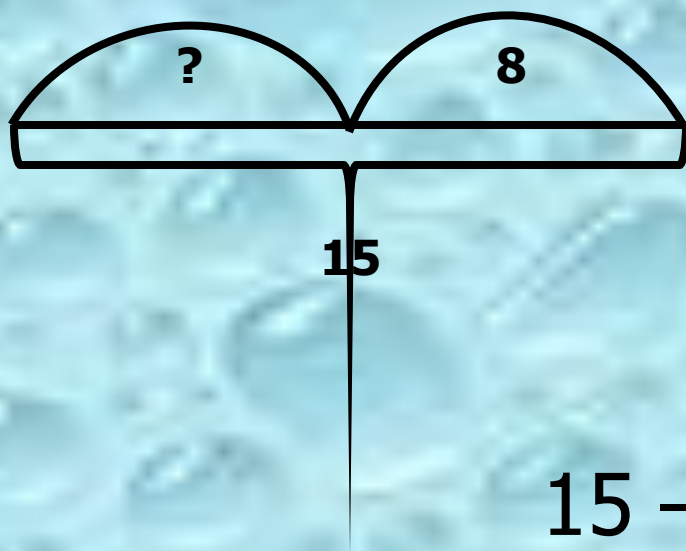


?

-на 7яхт меньше

?

Определи, какая схема
правильная



$$15 - 8 = 7(\text{яхт})$$



Шли по крыше три кота (*шагают на месте*)

Три кота Василия

Поднимали три хвоста (*руки вверх*)

Прямо в небо синее.

Сели киски на карниз (*присели*)

Посмотрели сверху вниз (

И сказали три кота: (*встали, руки в стороны*)

«Вот какая красота!

Выполни вычисления столбиком

$43+27$

$55+25$

$21+46$

$62+18$


$14+36$

$33+37$

$48+22$

$54+35$

Геометрическая задача



Геометрическая задача



КТО ЕСТЬ КТО?




Мурзик

Нюся

Пушок

Это Нюся, Пушок и Мурзик.
Нюся и Мурзик не полосатые.
Справа от Нюси сидит Пушок.

Домашнее задание



Стр.13 № 1, 5