

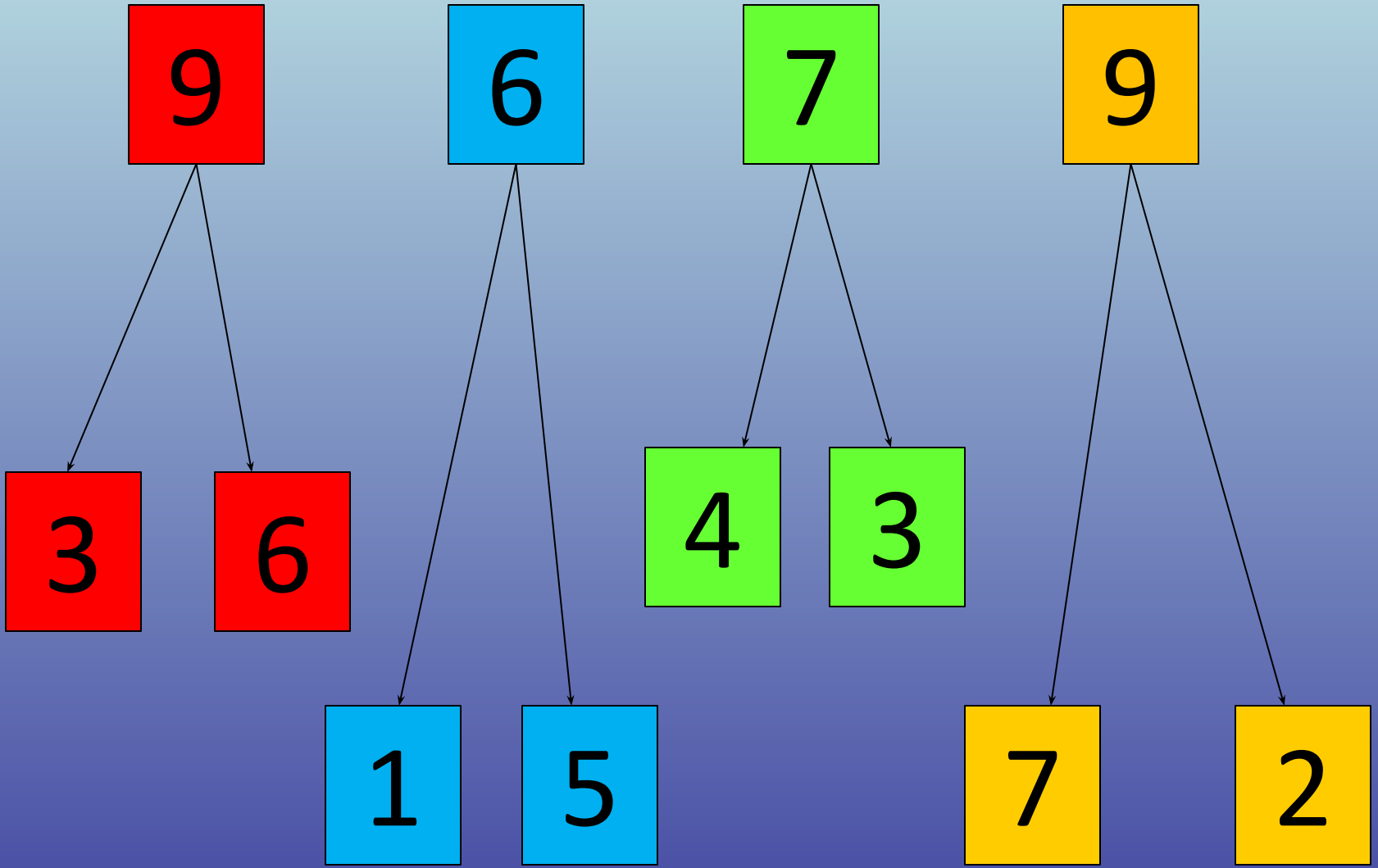
Государственное бюджетное общеобразовательное
учреждение города Москвы «Школа № 2086»

Решение простых текстовых задач

урок математики, 1 класс

Автор
Серёгина Татьяна Викторовна,
учитель начальных классов











$$\dots + \dots + \dots = 5$$

$$\dots + \dots - \dots = 5$$

$$\dots + 4 - \dots = 5$$

«Помоги белке собрать жёлуди»

$10 - 2 =$ 


$3 + 7 =$ 


$5 - 3 =$ 

$4 + 4 =$ 

$6 - 5 =$ 



$9 - 3 = 6$ 

$7 + 1 = 8$ 



Сколько птичек ?



Что произошло?

Сколько осталось?



**В команде лыжников 9 мальчиков,
а девочек на 2 меньше.
Сколько девочек в команде?**



У белочки в корзине 7 шишек и 3 гриба. На сколько шишек больше, чем грибов?





Список используемых источников

1. Фото зимний лес:
http://www.kokoko.ru/uploads/posts/2010-12/1292833823_1292827134_440ubx84ispb.jpg
2. Фото лыжников в лесу:
http://www.ivosoka.ru/uploads/lyizhi/0_633ad_6f452406_XL.jpg
3. Фото синицы: <http://cs618217.vk.me/v618217837/1265f/gJ4bVEo7ISs.jpg>
4. Фото сойки: <http://animalfotos.ru/soyyka-ptiytsa-foto.html>
5. Фото воробьи:
<http://img3i.spoki.tvnet.lv/upload/articles/49/493222/images/winterr2-5.jpg>
6. Белочка:
<http://images.easyfreeclipart.com/1015/125011252212540124521252112473124883203226448-12463125221248312503124501254012488-2664740736-1252212473--1015285.jpg>
7. Заяц: <http://www.playcast.ru/uploads/2015/07/05/14219045.gif>
8. Елочки:
http://wa11papers.ru/hdwallpapers/winter/Wa11papers.ru_Winter_1920x1200_183.jpg
9. Снеговик:
http://ru.convdocs.org/pars_docs/refs/424/423611/423611.html_231d2182.png
10. Медвежонок:
<http://razdeti.ru/images/photos/1d3b7f1f8a7625f8d5e700dcf0d9ae68.jpg>
11. Анимашка медвежонок:
http://www.orkugifs.com/en/images/Polar-Bear_1413.gif
12. Анимашка медвежонок на Луне: http://f4.mylove.ru/u_3DkAia1I1b3qh8U.gif