
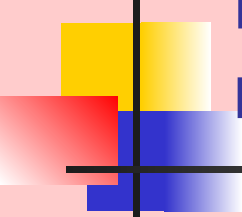


Урок математики в 2 классе



Тема: Простейшие уравнения с предметами, числами на основе соотношения между частью и целым.



Цель: Развитие понятийно - логического мышления, речи, творческих способностей.

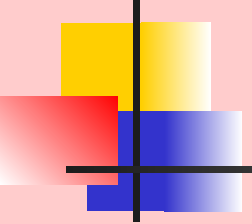
Задачи: 1. Решение уравнений с неизвестным уменьшаемым и вычитаемым на основе взаимосвязи между частью и целым

2. Совместное решение уравнений всех изученных типов.

3. Закрепление навыков быстрого и стабильного счета предметов в пределах 9.

Оборудование: Ёжик Моня, иллюстрированный паровозик из тыкв, алгоритм урока, таблицы уравнений к задачам, сюрпризные картинки (девочки – бабочки, мальчики – самолетики).

Алгоритм урока:

- 
-
- устный счет
 - работа у доски
 - самостоятельная работа
 - решение уравнений
 - решение задач
 - итог урока

Здравствуйте, это я – Моня!





Устный счет

- $9 - 6 + 5 =$
- $9 - 7 + 4 =$
- $6 - 5 + 2 =$
- $8 - 4 - 3 =$
- $5 + 5 - 2 =$
- $8 - 2 - 3 =$



Работа у доски

■ $\diamond + \odot = \text{€}$

$\oplus - 0 = \text{€}$

(решение примеров с объяснением)



Проверка самостоятельной работы в тетрадях

$$0 + x = \otimes$$

$$\otimes - x = 0$$

$$\textcircled{R} - R = 0$$

$$[::] - [] = \therefore$$

$$// + \heartsuit = / \heartsuit /$$

$$\textcircled{c} - c = 0$$



Решение уравнений



физкультминутка

Вышли мышки как – то раз
Посмотреть который час.

Раз, два, три, четыре

Мышки дернули за гири

Вдруг раздался страшный звон,
Убежали мышки вон!





Решение задачи №1

- Девочки посадили на клумбе 9 цветков. Маша посадила 3 цветка, Катя 1 цветок. Сколько цветов посадила Ира?

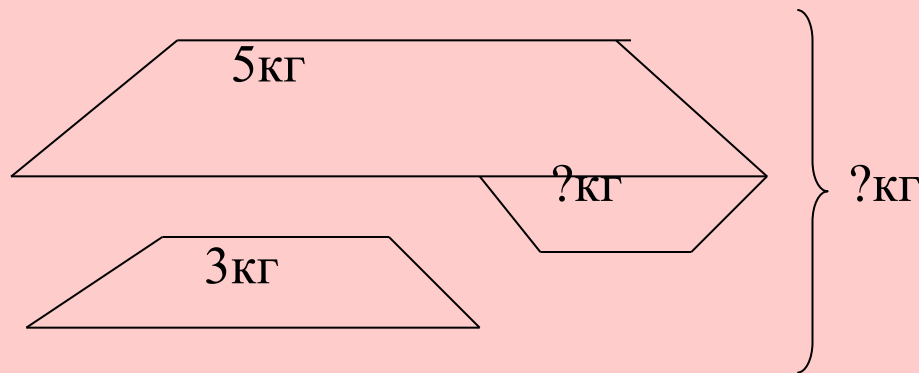




Решение задачи №2

Мама купила на рынке арбуз и дыню. Масса арбуза 5 кг, а масса дыни 3 кг. На сколько больше весит арбуз, чем дыня?

Сколько весят арбуз и дыня вместе?





Итог урока

Вам понравился урок?

Подведём, друзья итог...

Что сегодня
получилось?

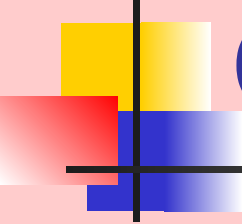
Что сейчас
не удалось?



Домашнее задание

Нарисуй мне
букет из 3 ромашек и
4 васильков





Спасибо за урок!

Всем спасибо
за урок,
Для вас звенит
звонок!!!

