


# Решение задач



*МКС(К)ОУ «Краснинская школа  
интернат VIII вида»,  
Ленинск – Кузнецкий район,  
Кемеровская область  
Черепанова Елена Николаевна,  
учитель математики.*

Математический тренажёр



## **Рекомендации по работе с презентацией:**

**Чтобы увидеть тихую деревушку покрытую снегом из сказок Н.Гоголя "Вечера на хуторе близ Диканьки" в ночное время, тебе нужно решить задачи и выбрать правильный ответ из предложенных ниже. Для того, чтобы попасть на слайд с задачей, нажимайте на любой вопросительный знак на следующем слайде. Когда вы правильно решите задачу и нажмёте на правильный ответ, вы вернётесь на 3-й слайд. Вопросительный знак и прямоугольник на котором он расположен исчезнет и появится часть картинки.**



?

?

?

?

?

?

?

?

?

?

?

?

Ласточка - воронка пролетает за час 45 км, а ласточка - касатка на 17 км меньше. Сколько километров пролетает за час ласточка - касатка?

Выбери правильный ответ:

38 км в час

28 км в час

32 км в час

52 км в час



Общая длина тел рябчика, свиристея и клеста 79 см. Длина тела рябчика 37 см, свиристея на 14 см меньше. Какова длина тела клеста?



Выбери правильный ответ:

25 см

14 см

19 см

11 см

Утка может прожить 15 лет, а гусь - 18 лет. На сколько лет гусь живёт дольше утки?



Выбери правильный ответ:

на 33 года

на 8 лет

на 6 лет

на 3 года

Овца живёт 15 лет, что на 5 лет  
дольше, чем заяц. Сколько лет живёт  
заяц?

Выбери правильный ответ:

10 лет

20 лет

15 лет

25 лет



Хомячку насыпали в кормушку 150 семян подсолнуха. Хомячок в один защёчный мешочек поместил 70 семян подсолнуха, в другой на 30 семян меньше и побежал прятать их в норку. Сколько семян осталось?



Выбери правильный ответ:

50 семян

80 семян

120 семян

100 семян



У бегемота нижние клыки достигают длины 50см. Сколько это дециметров?



Выбери правильный ответ:


3 дм

15 дм

500 дм

5 дм

Длина варана с хвостом 150 см. Длина его тела 50 см. На сколько сантиметров тело варана короче его хвоста?



Выбери правильный ответ:

На 100 см

На 50 см

На 30 см

На 150 см

У 4 осьминогов по 8 щупальцев.  
Сколько всего щупальцев у всех этих осьминогов?

Выбери правильный ответ:

28

36

32

34



Масса сердца лебедя 64 грамма, а  
кряквы в 8 раз меньше. Какова масса  
сердца кряквы?

Выбери правильный ответ:



8 г

9 г

10 г

7 г

У карликового кита длина тела 6 м, а у синего 18 м. Во сколько раз меньше карликовый кит, чем синий?

Выбери правильный ответ:




в 2 раза

в 4 раза

в 3 раза

в 5 раз

Аллигатор живёт 60 лет, это в 2 раза дольше, чем змея анаконда. Сколько лет живёт анаконда?



Выбери правильный ответ:

30 лет


120 лет

90 лет

52 года

У 9 пауков 72 ноги. У сколько пауков можно увидеть 32 ноги?

Выбери правильный ответ



У 3 пауков

У 4 пауков

У 7 пауков

У 8 пауков

## Интернет – источники:

[http://mirgif.com/KARTINKI/skazka/skazka\\_39.jpg](http://mirgif.com/KARTINKI/skazka/skazka_39.jpg) - фон слайда №2

<http://s58.radikal.ru/i160/1102/d1/4faeea942bd8.gif> - ласточка

<http://smayls.ru/smile/animashki-pticy-884.html> - свиристель

<http://smayli.ru/smile/pticia-1132.html> - утка

<http://smayli.ru/smile/jivotniea-3664.html> - заяц

<http://smayli.ru/smile/jivotniea-3772.html> - хомячок

<http://smayli.ru/smile/jivotniea-3729.html> -

[www.ribca.net/anim/animals/reptiles/5.gif](http://www.ribca.net/anim/animals/reptiles/5.gif) - варан

<http://file.mobilmusic.ru/10/f3/bf/807219.gif> - осьминог

<http://smayli.ru/smile/jivotniea-3606.html> - кит

<http://smayli.ru/smile/pticia-1141.html> -

[www.hcpl.net/sites/default/files/snake.jpg](http://www.hcpl.net/sites/default/files/snake.jpg) - змея

[http://pic.yan.kiev.ua/images/723SEO\\_Servies\\_UK\\_16m.jpg](http://pic.yan.kiev.ua/images/723SEO_Servies_UK_16m.jpg) - паук