

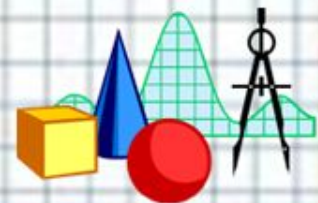


# Математик

а




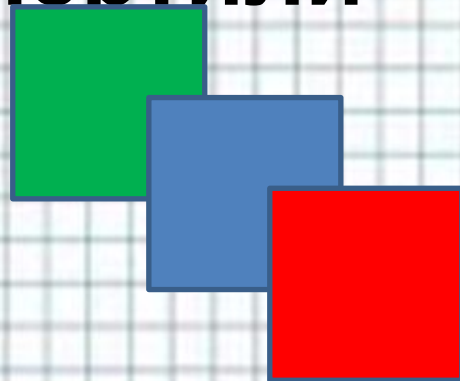
2 класс







Коля начертил в тетради 4 квадрата, а Петя на 6 квадратов больше. Сколько всего квадратов начертили мальчики?







Паук- тарантул умеет плавать. Четырьмя передними ножками он гребёт под водой, несколькими над водой, а задние 2 ножки вытянуты, как поплавки.

Сколькими ножками паук гребёт над водой, если всего у паука 8 ног?







**Весной от зимнего стада оленей сначала отделились 3 оленя, а потом на 2 оленя больше, чем вначале. Сколько оленей было в стаде, если в нём осталось 10 оленей?**








**Бабочка бражник делает 50  
взмахов крыльями в секунду,  
майский жук на 10 взмахов  
меньше, а навозный жук делает  
столько взмахов, сколько  
бражник и майский жук вместе.  
На сколько чаще машет**

**крылышками навозный жук, чем  
майский?**







**Цветок камелия из 30 дней в месяце  
5 дней бывает красного цвета, а  
остальные дни – белого. На  
сколько дней меньше камелия  
бывает красного цвета, чем  
белого?**

