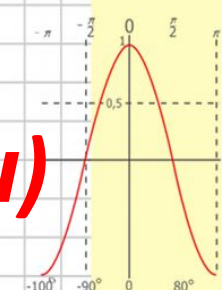
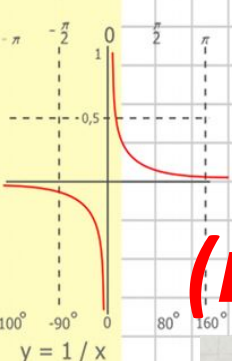
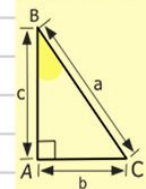
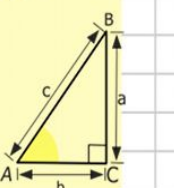
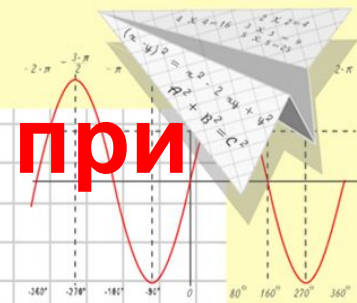
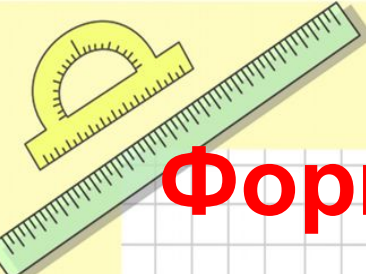


Математик

Формирование навыков УУД при изучении темы «Решение задач на построение графиков алгебраических функций» (на примере линейной функции)

Березовская Л.Д.
г. Лыткарино
МОУ гимназия №7
учитель математики, физики
и информатики



$$\begin{array}{r} 1 \\ 2500 \\ \times 42 \\ \hline 210 \\ + 84 \\ \hline 10500 \end{array}$$

$$\begin{array}{l} 2 \times 2 = 4 \\ 3 \times 3 = 9 \\ 4 \times 4 = 16 \\ 5 \times 5 = 25 \\ 6 \times 6 = 36 \\ 7 \times 7 = 49 \\ 8 \times 8 = 64 \end{array}$$



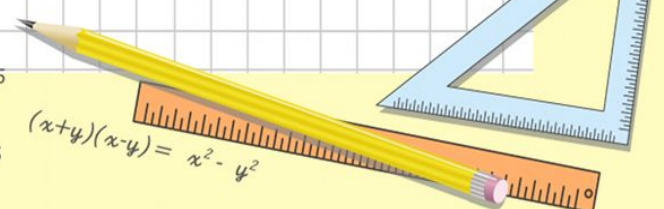
$$\frac{a}{\sin A} = \frac{b}{\sin B} = \frac{c}{\sin C}$$

$$\frac{a}{c} + \frac{b}{c} = \frac{a+b}{c}$$

$$\sin 90^\circ = 1$$



$$\begin{cases} y = \sin 90 \\ x = 25y + 45 \end{cases}$$
$$\begin{cases} y = 1 \\ x = 25 + 45 \\ x = 70 \end{cases}$$



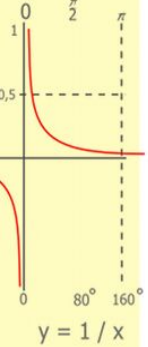
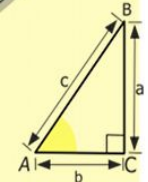
$$(x+y)(x-y) = x^2 - y^2$$

Анализ содержания материала


- *Кто не знает в какую гавань он плывет, для того нет попутного ветра.*

Сенека.

- Главной целью данной темы является: научить строить графики функций разных видов, используя характерные особенности функции, формировать навыки построения графиков функций, содержащих модуль; обратить внимание на геометрический смысл модуля.
- В параграфах 28, 29, 30, 31 (Мордкович А. Г. и др. Алгебра. 7 класс: Задачник для общеобразовательных учреждений) рассматривается линейная функция



$$\begin{array}{r} 1 \\ \times 2500 \\ \hline 210 \\ + 84 \\ \hline 105000 \end{array}$$



$$\frac{a}{A} = \frac{b}{\sin B} = \frac{c}{\sin C}$$

$$\frac{a}{c} + \frac{b}{c} = \frac{a+b}{c}$$

$$\sin 90^\circ = 1$$

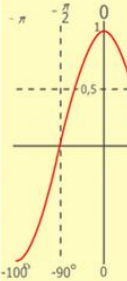
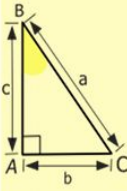
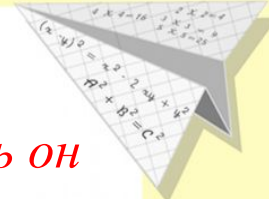


$$\begin{cases} y = \sin 90 \\ x = 25y + 45 \end{cases}$$

$$\begin{cases} y = 1 \\ x = 25 + 45 \end{cases}$$


$$x = 70$$

$$(x+y)(x-y) = x^2 - y^2$$



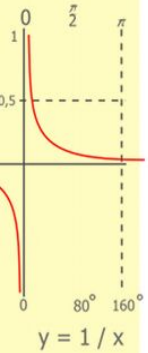
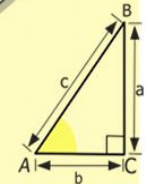
$$y = \cos$$

$$\begin{array}{l} 2 \times 2 = 4 \\ 3 \times 3 = 9 \\ 4 \times 4 = 16 \\ 5 \times 5 = 25 \\ 6 \times 6 = 36 \\ 7 \times 7 = 49 \\ 8 \times 8 = 64 \\ 9 \times 9 = 81 \end{array}$$




Анализ содержания материала

- При построении первых графиков функции по точкам коммуникативные УУД обеспечивают социальную компетентность и учёт позиции других учащихся, партнёров по общению или деятельности;
 - умение слушать и вступать в диалог;
 - участвовать в коллективном обсуждении проблем;
 - интегрироваться в группу сверстников и строить продуктивное взаимодействие и сотрудничество со сверстниками и взрослыми.



$$\begin{array}{r} \frac{1}{2} 5\ 00 \\ \times 42 \\ \hline 21\ 0 \\ + 84 \\ \hline 105\ 0\ 00 \end{array}$$



$$\frac{a}{\sin A} = \frac{b}{\sin B} = \frac{c}{\sin C}$$

$$\frac{a}{c} + \frac{b}{c} = \frac{a+b}{c}$$

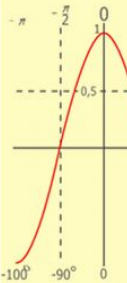
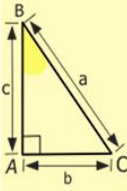
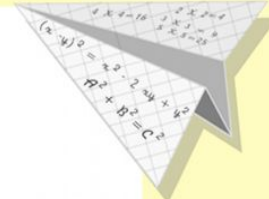
$$\sin 90^\circ = 1$$



$$\begin{cases} y = \sin 90 \\ x = 25y + 45 \end{cases}$$

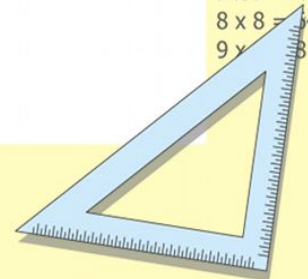
$$\begin{cases} y = 1 \\ x = 25 + 45 \\ \hline x = 70 \end{cases}$$

$$(x+y)(x-y) = x^2 - y^2$$



$$y = \cos$$

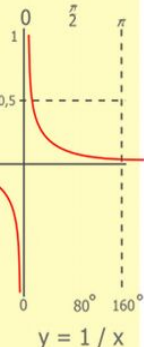
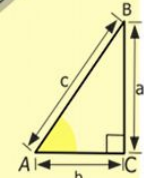
$$\begin{array}{l} 2 \times 2 = 4 \\ 3 \times 3 = 9 \\ 4 \times 4 = 16 \\ 5 \times 5 = 25 \\ 6 \times 6 = 36 \\ 7 \times 7 = 49 \\ 8 \times 8 = 64 \\ 9 \times 9 = 81 \end{array}$$



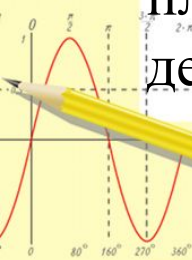
Анализ содержания материала

Регулятивные универсальные учебные действия обеспечивают организацию учащимися своей учебной деятельности. К ним относятся:

- планирование – определение последовательности промежуточных целей с учетом конечного результата; составление плана и последовательности действий (построение графиков функций и определение некоторых свойств) ;
- прогнозирование – предвосхищение результата и уровня усвоения, его временных характеристик (взаимное расположение графиков функций);
- контроль в форме сличения способа действия и его результата с заданным эталоном с целью обнаружения отклонений и отличий от эталона;
- коррекция – внесение необходимых дополнений и корректив в план и способ действия в случае расхождения эталона, реального действия и его продукта;



$$\begin{array}{r} 1\ 2\ 5\ 00 \\ \times 42 \\ \hline 210 \\ + 84 \\ \hline 105\ 000 \end{array}$$



$$\frac{a}{A} = \frac{b}{\sin B} = \frac{c}{\sin C}$$

$$\frac{a}{c} + \frac{b}{c} = \frac{a+b}{c}$$

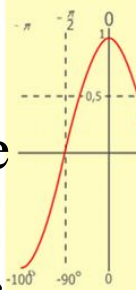
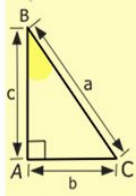
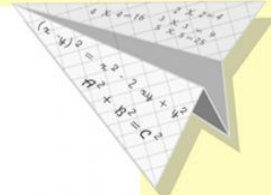
$$\sin 90^\circ = 1$$



$$\begin{cases} y = \sin 90 \\ x = 25y + 45 \end{cases}$$

$$\begin{cases} y = 1 \\ x = 25 + 45 \end{cases}$$
$$\frac{x = 70}{x = 70}$$

$$(x+y)(x-y) = x^2 - y^2$$



$$y = \cos$$

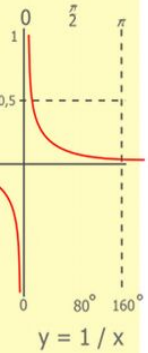
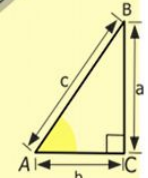
$$\begin{array}{l} 2 \times 2 = 4 \\ 3 \times 3 = 9 \\ 4 \times 4 = 16 \\ 5 \times 5 = 25 \\ 6 \times 6 = 36 \\ 7 \times 7 = 49 \\ 8 \times 8 = 64 \\ 9 \times 9 = 81 \end{array}$$




Анализ содержания материала

Познавательные УУД:

- осознание, что такие свойства функции – общие, различные, существенные, несущественные, необходимые, достаточные;
- моделирование;
- использование знаково-символической записи математического понятия;
- овладение приёмами анализа и синтеза объекта и его свойств;
- использование индуктивного умозаключения;
- выведение следствий из определения понятия;
- умение приводить контрпримеры



$$\begin{array}{r} 1 \\ \times 2500 \\ \hline 2500 \\ + 210 \\ \hline 105000 \end{array}$$



$$\frac{a}{\sin A} = \frac{b}{\sin B} = \frac{c}{\sin C}$$

$$\frac{a}{c} + \frac{b}{c} = \frac{a+b}{c}$$

$$\sin 90^\circ = 1$$

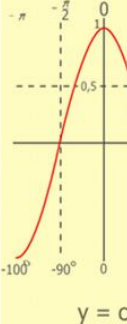
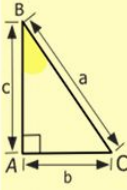
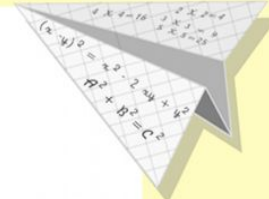


$$\begin{cases} y = \sin 90 \\ x = 25y + 45 \end{cases}$$

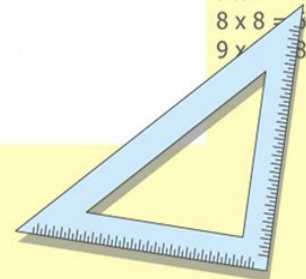
$$\begin{cases} y = 1 \\ x = 25 + 45 \end{cases}$$

$$x = 70$$

$$(x+y)(x-y) = x^2 - y^2$$



$$\begin{array}{l} 2 \times 2 = 4 \\ 3 \times 3 = 9 \\ 4 \times 4 = 16 \\ 5 \times 5 = 25 \\ 6 \times 6 = 36 \\ 7 \times 7 = 49 \\ 8 \times 8 = 64 \\ 9 \times 9 = 81 \end{array}$$

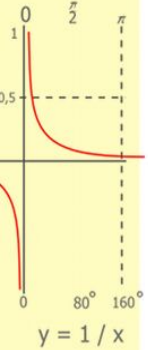
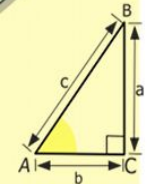


Анализ содержания материала


Личностные УДД:

- формирование ценностных ориентаций (саморегуляция, стимулирование, достижение и др.);
- формирование математической компетентности.

Таким образом, материал параграфа учебника удовлетворяет требованиям современных стандартов образования, позволяет прививать учащимся навыки УУД.



$$\begin{array}{r} 1 \\ 2500 \\ \times 42 \\ \hline 210 \\ + 84 \\ \hline 105000 \end{array}$$



$$\frac{a}{\sin A} = \frac{b}{\sin B} = \frac{c}{\sin C}$$

$$\frac{a}{c} + \frac{b}{c} = \frac{a+b}{c}$$

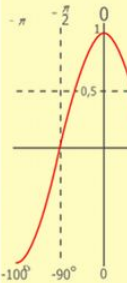
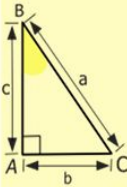
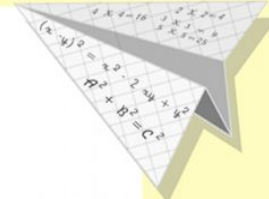
$$\sin 90^\circ = 1$$



$$\begin{cases} y = \sin 90 \\ x = 25y + 45 \end{cases}$$

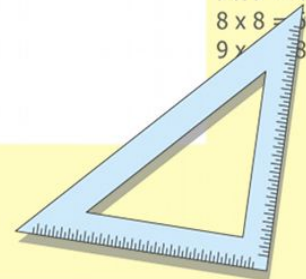
$$\begin{cases} y = 1 \\ x = 25 + 45 \\ \hline x = 70 \end{cases}$$

$$(x+y)(x-y) = x^2 - y^2$$



$$y = \cos$$

$$\begin{array}{l} 2 \times 2 = 4 \\ 3 \times 3 = 9 \\ 4 \times 4 = 16 \\ 5 \times 5 = 25 \\ 6 \times 6 = 36 \\ 7 \times 7 = 49 \\ 8 \times 8 = 64 \\ 9 \times 9 = 81 \end{array}$$



Подбор дополнительных заданий

• №1

Найдите площадь треугольника, ограниченного осями координат и прямой

$$y = -2x + 2.$$

□ **Познавательные УУД:**

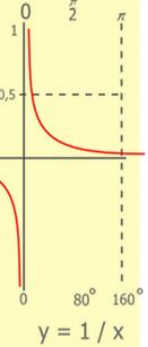
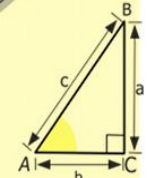
- моделирование;
- использование знаково-символической записи математического понятия;
- овладение приёмами анализа и синтеза объекта и его свойств;
- использование индуктивного умозаключения;

□ **Личностные УУД:**


- формирование математической компетентности.

□ **Логические УУД:**

- анализ объектов с целью выделения признаков (существенных, несущественных);
- синтез — составление целого из частей, в том числе самостоятельное достраивание с восполнением недостающих компонентов



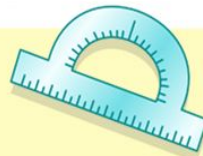
$$\begin{array}{r} 1 \\ 2500 \\ \times 42 \\ \hline 210 \\ + 84 \\ \hline 105000 \end{array}$$



$$\frac{a}{A} = \frac{b}{\sin B} = \frac{c}{\sin C}$$

$$\frac{a}{c} + \frac{b}{c} = \frac{a+b}{c}$$

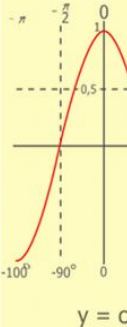
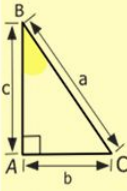
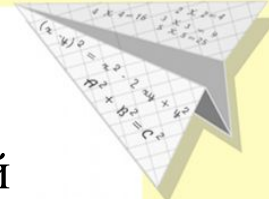
$$\sin 90^\circ = 1$$



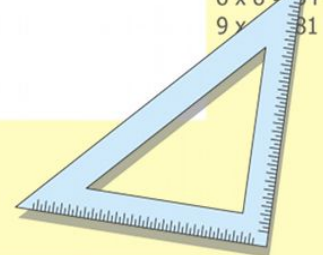
$$\begin{cases} y = \sin 90 \\ x = 25y + 45 \end{cases}$$

$$\begin{cases} y = 1 \\ x = 25 + 45 \\ \hline x = 70 \end{cases}$$

$$(x+y)(x-y) = x^2 - y^2$$



- 2 x 2 = 4
- 3 x 3 = 9
- 4 x 4 = 16
- 5 x 5 = 25
- 6 x 6 = 36
- 7 x 7 = 49
- 8 x 8 = 64
- 9 x 9 = 81



Подбор дополнительных заданий

№2

На координатной плоскости лежат 4 точки $A(1;5)$, $B(-1;1)$, $C(1,5;6)$, $D(7;12)$.

Лежат ли они на одной прямой?

- **Познавательные УУД:**

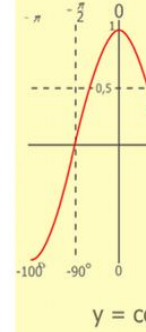
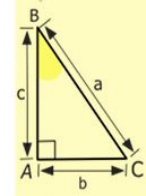
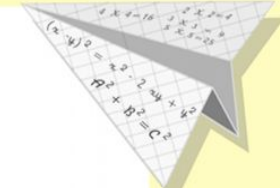
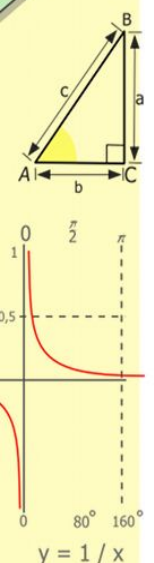
- осознание, что такое свойства функции
- моделирование;
- использование знаково-символической записи математического понятия;
- использование индуктивного умозаключения;
- выведение следствий из определения понятия;

- **Личностные УДД:**

- формирование математической компетентности.

- **Регулятивные УУД:**

- умение выделять свойства в изучаемых объектах и дифференцировать их;



$$\begin{array}{r} 1 \\ 2500 \\ \times 42 \\ \hline 210 \\ + 84 \\ \hline 105000 \end{array}$$

- $2 \times 2 = 4$
- $3 \times 3 = 9$
- $4 \times 4 = 16$
- $5 \times 5 = 25$
- $6 \times 6 = 36$
- $7 \times 7 = 49$
- $8 \times 8 = 64$
- $9 \times 9 = 81$



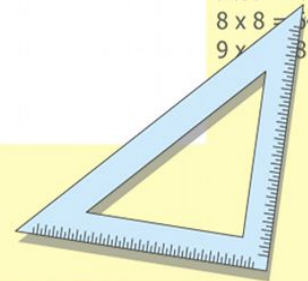
$$\frac{a}{\sin A} = \frac{b}{\sin B} = \frac{c}{\sin C}$$
$$\frac{a}{c} + \frac{b}{c} = \frac{a+b}{c}$$

$$\sin 90^\circ = 1$$



$$\begin{cases} y = \sin 90 \\ x = 25y + 45 \end{cases}$$
$$\begin{cases} y = 1 \\ x = 25 + 45 \end{cases}$$
$$\frac{x}{70}$$

$$(x+y)(x-y) = x^2 - y^2$$



Подбор дополнительных заданий

Создание алгоритма построения графиков функций «ступенчаткой»

Познавательные УУД:

- осознание, что такие свойства предмета – общие, различные, существенные, несущественные, необходимые, достаточные;
- моделирование;
- использование знаково-символической записи математического понятия;
- овладение приёмами анализа и синтеза объекта и его свойств;
- использование индуктивного умозаключения;
- выведение следствий из определения понятия;
- умение приводить контрпримеры.

Коммуникативные УУД:

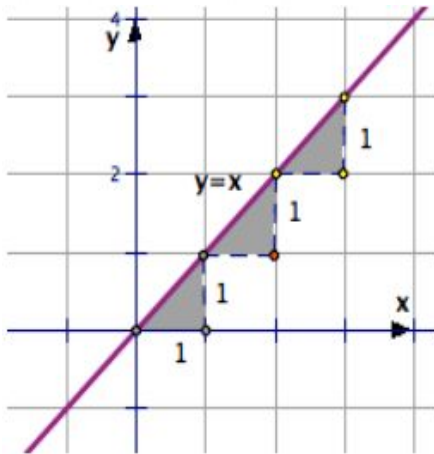
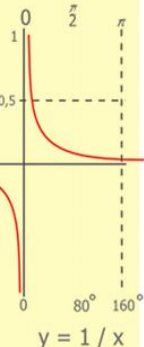
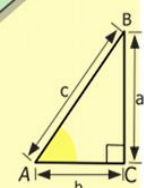
- умение выражать свои мысли;
- владение монологической и диалогической формами речи в соответствии с грамматическими и синтаксическими нормами родного языка, современных средств коммуникации;
- совершенствование навыков работы в группе (расширение опыта совместной деятельности).

Личностные УУД:

- формирование ценностных ориентаций (саморегуляция, стимулирование, достижение и др.);
- формирование математической компетентности.

Регулятивные УУД:

- умение выделять свойства в изучаемых объектах и дифференцировать их;
- овладение приёмами контроля и самоконтроля усвоения изученного;
- работа по алгоритму, с памятками, правилами – ориентирами по формированию общих приёмов учебной деятельности по усвоению математических понятий.



$$\begin{array}{r} 2500 \\ \times 42 \\ \hline 2100 \\ + 8400 \\ \hline 105000 \end{array}$$



$$\frac{a}{A} = \frac{b}{\sin B} = \frac{c}{\sin C}$$

$$\frac{a}{c} + \frac{b}{c} = \frac{a+b}{c}$$

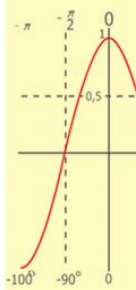
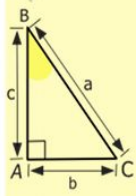
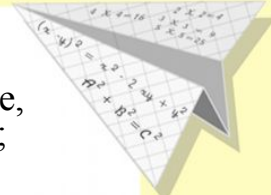
$$\sin 90^\circ = 1$$



$$\begin{cases} y = \sin 90 \\ x = 25y + 45 \end{cases}$$

$$\begin{cases} y = 1 \\ x = 25 + 45 \\ \hline x = 70 \end{cases}$$

$$(x+y)(x-y) = x^2 - y^2$$



$$y = \cos$$

- 2 x 2 = 4
- 3 x 3 = 9
- 4 x 4 = 16
- 5 x 5 = 25
- 6 x 6 = 36
- 7 x 7 = 49
- 8 x 8 = 64
- 9 x 9 = 81

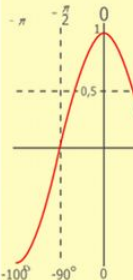
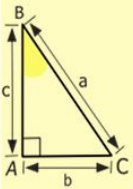
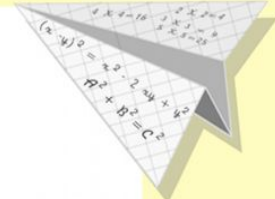

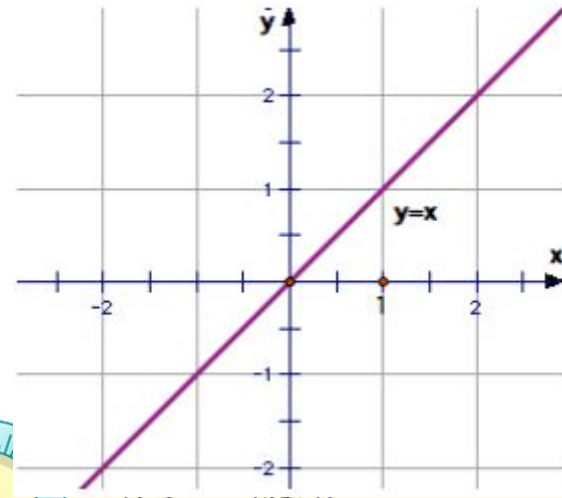


Фрагмент урока.

На своих уроках предлагаю ученикам освоить и другой способ построения графиков линейных функций, который представляет собой более содержательный и смыслово нагруженный алгоритм, а также дает возможность непосредственно перейти от построения графиков к их чтению и использованию в решении задач и исследовании функций.

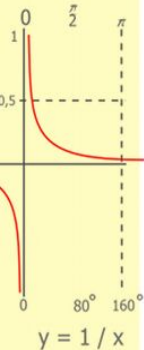
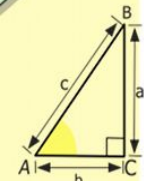
Начинается освоение нового алгоритма с анализа уже построенных табличным способом простейших линейных функций.

Рассмотрим график функции $y=x$.



$$y = \cos$$

- $2 \times 2 = 4$
- $3 \times 3 = 9$
- $4 \times 4 = 16$
- $5 \times 5 = 25$
- $6 \times 6 = 36$
- $7 \times 7 = 49$
- $8 \times 8 = 64$
- $9 \times 9 = 81$



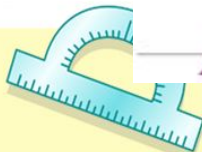
$$\begin{array}{r} 1 \\ \times 2500 \\ \times 42 \\ \hline 210 \\ + 84 \\ \hline 105000 \end{array}$$



$$\frac{a}{\sin A} = \frac{b}{\sin B} = \frac{c}{\sin C}$$

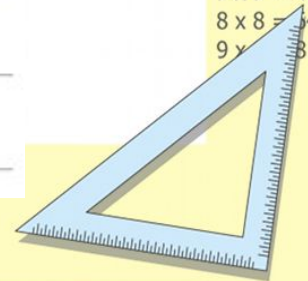
$$\frac{a}{c} + \frac{b}{c} = \frac{a+b}{c}$$

$$\sin 90^\circ = 1$$



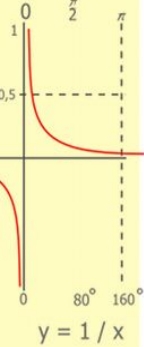
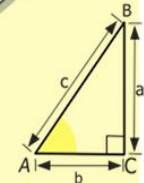

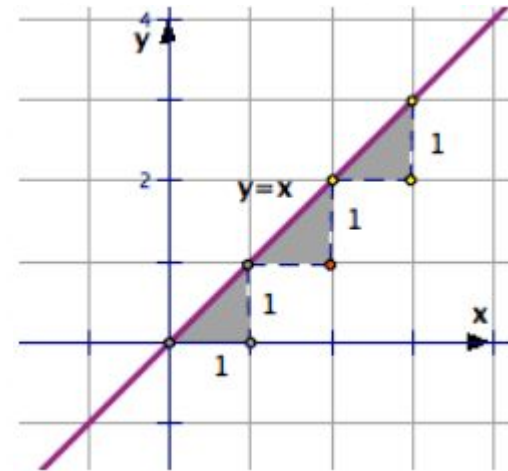
$$\begin{array}{l} x = 25 + 45 \\ \hline x = 70 \end{array}$$

$$(x+y)(x-y) = x^2 - y^2$$



Фрагмент урока.

- Будем двигаться по точкам этого графика, начиная с точки $(0,0)$ начала координат, через которую он проходит.
- Видим, что при сдвиге на одну единицу вправо по оси X , значение функции $y=x$ вырастает также на единицу. За каждый шаг вправо на единицу (то есть в направлении оси абсцисс) график поднимается вверх на единицу.
- Таким образом, получается характерная “лесенка” ступенек, формирующих график функции: вправо на 1 –вверх на 1 и т.д.



$$\begin{array}{r} 1 \\ \times 2500 \\ \times 42 \\ \hline 210 \\ + 84 \\ \hline 105000 \end{array}$$



$$\frac{a}{A} = \frac{b}{\sin B} = \frac{c}{\sin C}$$

$$\frac{a}{c} + \frac{b}{c} = \frac{a+b}{c}$$

$$\sin 90^\circ = 1$$

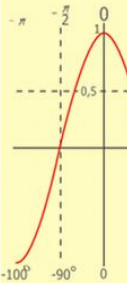
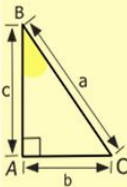



$$\begin{cases} y = \sin 90 \\ x = 25y + 45 \end{cases}$$

$$\begin{cases} y = 1 \\ x = 25 + 45 \end{cases}$$

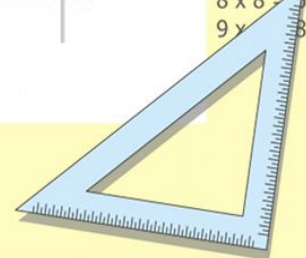
$$x = 70$$

$$(x+y)(x-y) = x^2 - y^2$$



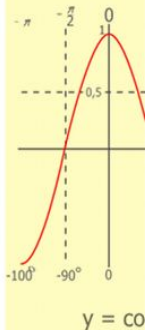
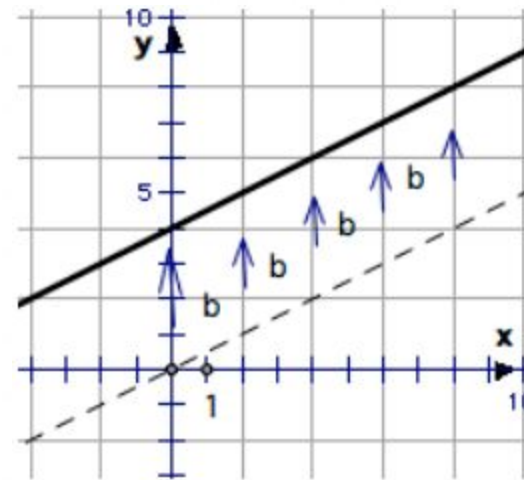
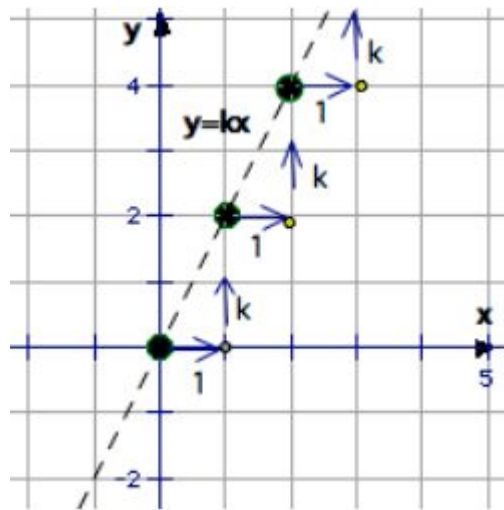
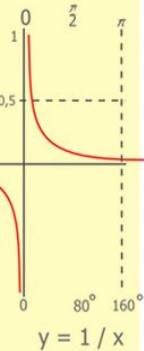
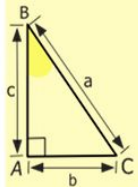
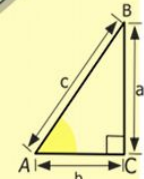


$$y = \cos$$

$$\begin{array}{l} 2 \times 2 = 4 \\ 3 \times 3 = 9 \\ 4 \times 4 = 16 \\ 5 \times 5 = 25 \\ 6 \times 6 = 36 \\ 7 \times 7 = 49 \\ 8 \times 8 = 64 \\ 9 \times 9 = 81 \end{array}$$



Фрагмент урока

- Анализ приведенных графиков позволяет понять, что для построения графика линейной функции каждый раз достаточно построить несколько “ступенек” соответствующей графической “лестницы” и провести прямую.



$$\begin{array}{r} 1 \\ \times 42 \\ \hline 210 \\ + 84 \\ \hline 10500 \end{array}$$

$$\begin{array}{l} 2 \times 2 = 4 \\ 3 \times 3 = 9 \\ 4 \times 4 = 16 \\ 5 \times 5 = 25 \\ 6 \times 6 = 36 \\ 7 \times 7 = 49 \\ 8 \times 8 = 64 \\ 9 \times 9 = 81 \end{array}$$



$$\frac{a}{A} = \frac{b}{\sin B} = \frac{c}{\sin C}$$

$$\frac{a}{c} + \frac{b}{c} = \frac{a+b}{c}$$

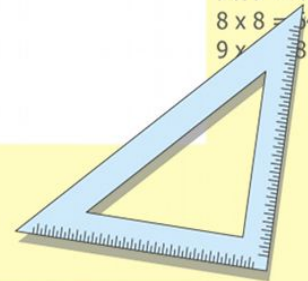
$$\sin 90^\circ = 1$$



$$\begin{cases} y = \sin 90 \\ x = 25y + 45 \end{cases}$$

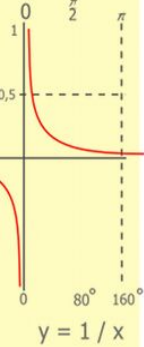
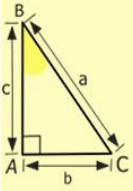
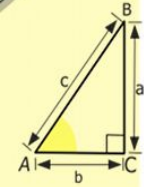
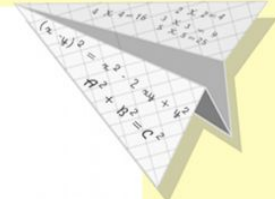

$$\begin{cases} y = 1 \\ x = 25 + 45 \\ \hline x = 70 \end{cases}$$

$$(x+y)(x-y) = x^2 - y^2$$




Фрагмент урока

- Общая характеристика графической “лесенки” и ее особенностей:
- “Лесенка” всегда идет вправо (в сторону роста x);
- Если в формуле, задающей функцию $y=kx+b$ коэффициент $k>0$, то “лесенка” идет вверх;
- Если $k<0$, то “лесенка” идет вниз;
- Высота каждой ступеньки одинакова и определяется числовым значением коэффициента k (чем k больше, тем выше ступенька);
- За каждую единицу по x функция вырастает по y на k , то
- Есть k – это скорость роста функции;
- Скорость роста линейной функции не меняется, ступеньки нашей “лесенки” всегда одной высоты, именно поэтому функция и представляет собой прямую.



$$\begin{array}{r} 1 \\ \times 2500 \\ \hline 2500 \\ + 210 \\ \hline 105000 \end{array}$$

$$\begin{array}{l} 2 \times 2 = 4 \\ 3 \times 3 = 9 \\ 4 \times 4 = 16 \\ 5 \times 5 = 25 \\ 6 \times 6 = 36 \\ 7 \times 7 = 49 \\ 8 \times 8 = 64 \\ 9 \times 9 = 81 \end{array}$$



$$\frac{a}{A} = \frac{b}{\sin B} = \frac{c}{\sin C}$$

$$\frac{a}{c} + \frac{b}{c} = \frac{a+b}{c}$$

$$\sin 90^\circ = 1$$

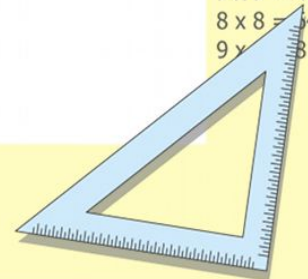


$$\begin{cases} y = \sin 90 \\ x = 25y + 45 \end{cases}$$

$$\begin{cases} y = 1 \\ x = 25 + 45 \end{cases}$$

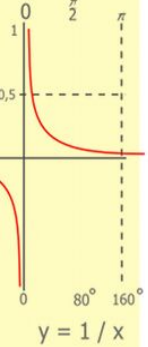
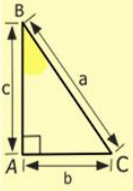
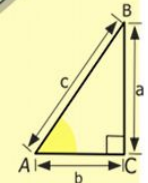
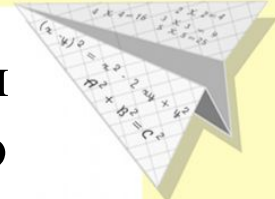

$$x = 70$$

$$(x+y)(x-y) = x^2 - y^2$$

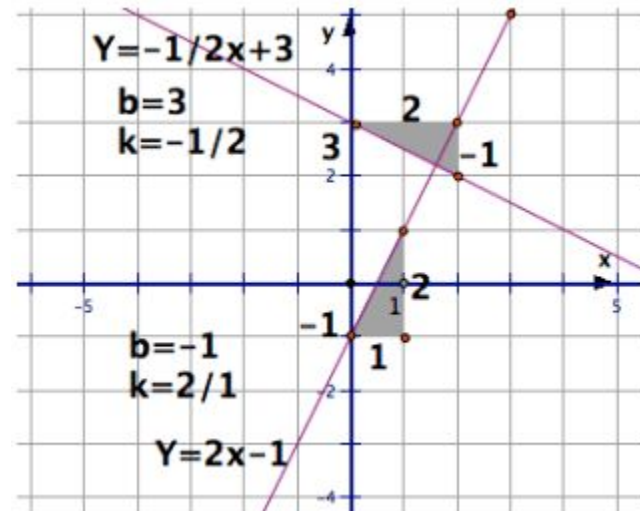


Фрагмент урока


- Опыт показывает, что изложенный способ построения и чтения графиков линейных функций легко и достаточно быстро усваивается. Учащиеся начинают отличать по графику возрастающие и убывающие функции, определять графики с большей, меньшей или одинаковой скоростью роста функции.
- Эти навыки, помимо владения названной темой, готовят учащихся к восприятию понятия производной, к исследованию и анализу более сложных функциональных зависимостей.



$$\begin{array}{r} 1 \\ 2500 \\ \times 42 \\ \hline 210 \\ + 84 \\ \hline 10500 \end{array}$$



$$\begin{array}{l} 2 \times 2 = 4 \\ 3 \times 3 = 9 \\ 4 \times 4 = 16 \\ 5 \times 5 = 25 \\ 6 \times 6 = 36 \\ 7 \times 7 = 49 \\ 8 \times 8 = 64 \\ 9 \times 9 = 81 \end{array}$$



$$\frac{a}{A} = \frac{b}{\sin B} = \frac{c}{\sin C}$$

$$\frac{a}{c} + \frac{b}{c} = \frac{a+b}{c}$$

$$\sin 90^\circ = 1$$

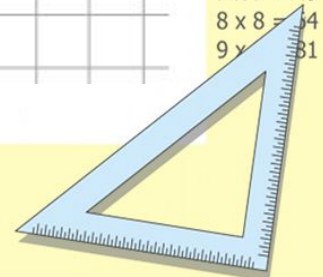


$$\begin{cases} y = \sin 90 \\ x = 25y + 45 \end{cases}$$

$$\begin{cases} y = 1 \\ x = 25 + 45 \end{cases}$$

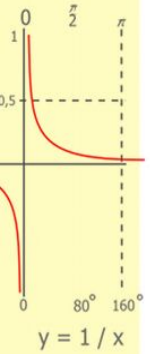
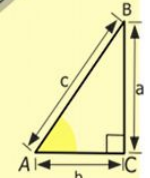
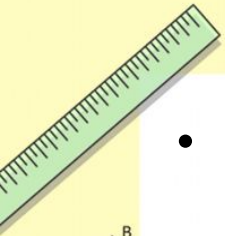
$$x = 70$$

$$(x+y)(x-y) = x^2 - y^2$$




Литература

- Алгебра: дидактические материалы для 7кл. Л. И. Звавич, Л. В. Кузнецова, С. Б. Суворова –12-е изд., доработанное. – М.: Просвещение, 2007
- Дидактические материалы по алгебре 7 класс. Под редакцией Чулкова П.В. Москва «Издат – Школа» «РАЙЛ» 1998
- <http://festival.1september.ru/>



$$\begin{array}{r} 1 \\ 2500 \\ \times 42 \\ \hline 210 \\ + 84 \\ \hline 10500 \end{array}$$



$$\frac{a}{\sin A} = \frac{b}{\sin B} = \frac{c}{\sin C}$$

$$\frac{a}{c} + \frac{b}{c} = \frac{a+b}{c}$$

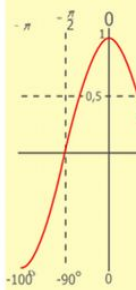
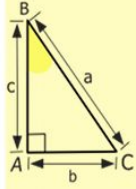
$$\sin 90^\circ = 1$$



$$\begin{cases} y = \sin 90 \\ x = 25y + 45 \end{cases}$$

$$\begin{cases} y = 1 \\ x = 25 + 45 \\ \hline x = 70 \end{cases}$$

$$(x+y)(x-y) = x^2 - y^2$$



$$\begin{array}{l} 2 \times 2 = 4 \\ 3 \times 3 = 9 \\ 4 \times 4 = 16 \\ 5 \times 5 = 25 \\ 6 \times 6 = 36 \\ 7 \times 7 = 49 \\ 8 \times 8 = 64 \\ 9 \times 9 = 81 \end{array}$$

