

Привет!





А ну-ка, отгадай!



otvetin.ru

$18 : 3 =$ в 6 раз б.

$15 : 5 =$ в 3 раза б.



[Увеличить](#)

$15 - 5 =$ на 10 шт. б.

$18 - 3 =$ на 15 шт. м.

$15 : 5 =$ в 3 раза м.

$18 : 3 =$ в 6 раз м.





Вспомним правило:

- Чтобы узнать **на** сколько одно число больше или меньше другого...
- Чтобы узнать **во** сколько **раз** одно число больше или меньше другого...



Тема: Решение задач на
разностное и кратное
сравнение чисел.

Тренировочный маршрут:

- Задача от гнома Забывалки:
- Гном Забывалка для построения скворечника взял два куска доски.

30 см

45 см

- На сколько сантиметров один кусок больше другого? Сколько сантиметров ему нужно отпилить, чтобы куски были равными?

Угадайте, сколько лет каждому гному.


- Гному Загадалке 50 лет.
- Гном Забывалка старше его на 15 лет,
- а гном Путалка в 2 раза старше гнома Загадалки.



[Увеличить](#)



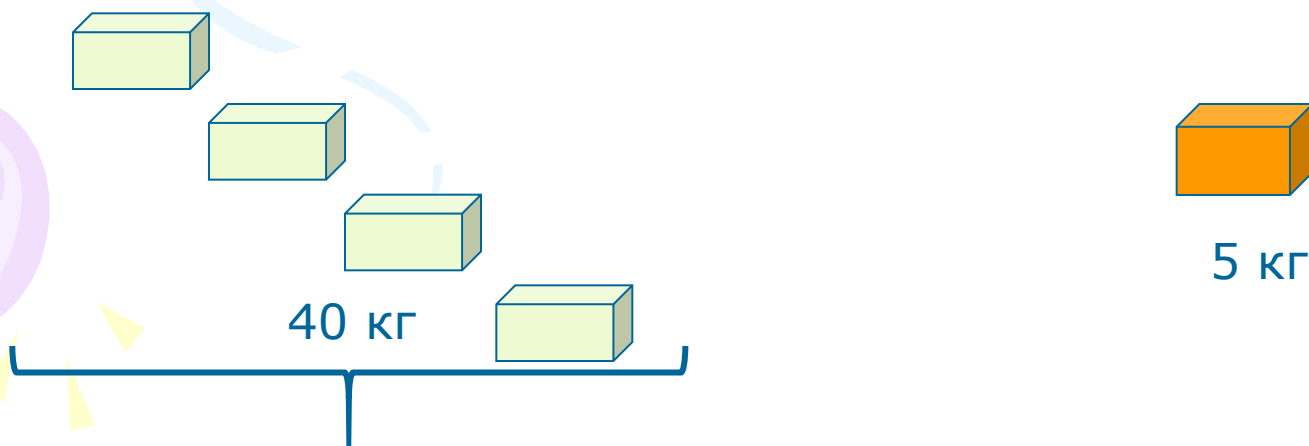
otvetin.ru

A decorative graphic on the left side of the page features three balloons in shades of green, blue, and purple, with yellow streamers and triangular flags trailing behind them.

Составьте самостоятельно
задачи на разностное и
кратное сравнение чисел.

Задачи от гномов:

- На праздник гномы закупили 4 ящика с мандаринами и 1 ящик с апельсинами. Масса 4 ящиков с мандаринами 40 кг. А масса одного ящика с апельсинами 5 кг. Во сколько раз ящик с апельсинами легче ящика с мандаринами?



Отдохнём



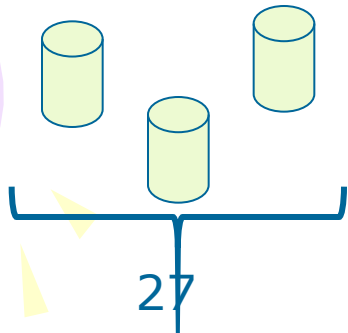
Задача от гнома Загадалки.



Для приготовления волшебного зелья нужен:

- 1 мешок с бобами весом 36 кг,
- 3 одинаковых ведра звёздной воды, в которых было 27 литров.

На сколько больше бобов в 1 мешке, чем звёздной воды в 1 ведре?




Гномы вас благодарят за помощь в решении непростых задач!



otvetin.ru



 Увеличить



А мы с вами еще потренируемся!


Сравните, **на сколько** одно число больше или меньше другого:

- 285, чем 470;
- 95, чем 723;
- 474, чем 610

Во сколько раз одно число больше или меньше другого:

- 4, чем 40;
- 8, чем 64;
- 42, чем 6.

Правильные ответы:



A decorative graphic on the left side of the slide features three balloons: a light green one at the top, a light blue one in the middle, and a light purple one at the bottom. They are connected by a thin, wavy streamer. Small yellow triangles are scattered around the balloons, resembling confetti or streamer tassels.

Правильные ответы:

- 185;
- 628;
- 136;
- 10;
- 8;
- 7.



Сравниваем меры:

- Масс:
- 1 ц, чем 1 т
- 1 кг, чем 1 ц
- Длины:
- 1 см, чем 1 дм
- 1 см, чем 1 м
- Времени:
- 1 сут, чем 1 нед.

Спасибо за активную
работу!

