

РЕШЕНИЕ ЗАДАЧ

© ГУСАКОВА Ю.А.

Учитель

начальной школы

Гимназия № 446

Санкт-Петербург

2007

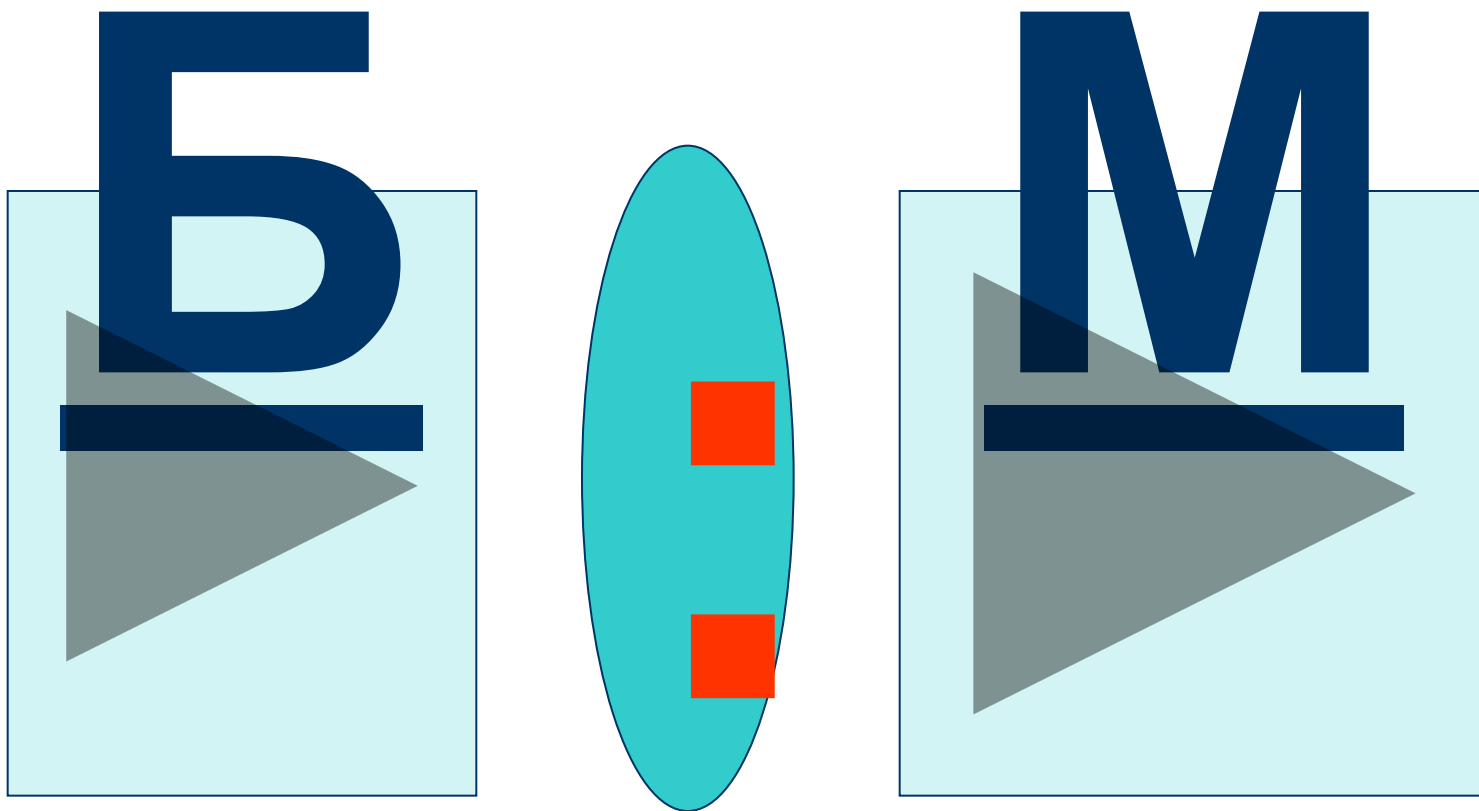
Реши задачу:



Ослята питаются молоком матери 16 недель, а тигрята – 8 недель.

Во сколько раз меньше питаются молоком матери тигрята?

Чтобы узнать во сколько раз одно число больше или меньше другого нужно:




Решение:

$$16 : 8 =$$

в 2 (раза)

Ответ: тигрята питаются молоком матери
в 2 раза меньше, чем ослята.

Реши задачу:



Ослята питаются молоком матери 16 недель, а тигрята – 8 недель.

Во сколько раз дольше
питаются молоком матери ослята?


Решение:

$$16 : 8 =$$

в 2 (раза)

Ответ: ослята питаются молоком матери
в 2 раза дольше, чем тигрята.

СОСТАВЬ ЗАДАЧУ НА КРАТНОЕ СРАВНЕНИЕ



24 шт.



8 шт.



СОСТАВЬ ЗАДАЧУ НА РАЗНОСТНОЕ СРАВНЕНИЕ

?



24 шт.



8 шт.





КРАТНОЕ СРАВНЕНИЕ

ВО СКОЛЬКО РАЗ БОЛЬШЕ...?

ВО СКОЛЬКО РАЗ МЕНЬШЕ...?



РАЗНОСТНОЕ СРАВНЕНИЕ

НА СКОЛЬКО ЕДИНИЦ
БОЛЬШЕ...?

НА СКОЛЬКО ЕДИНИЦ
МЕНЬШЕ...?




Решение задачи:

$24 : 8 =$ в 3 раза меньше машин, чем велосипедов.



$24 : 8 =$ в 3 раза больше велосипедов, чем машин.



Решение задач:

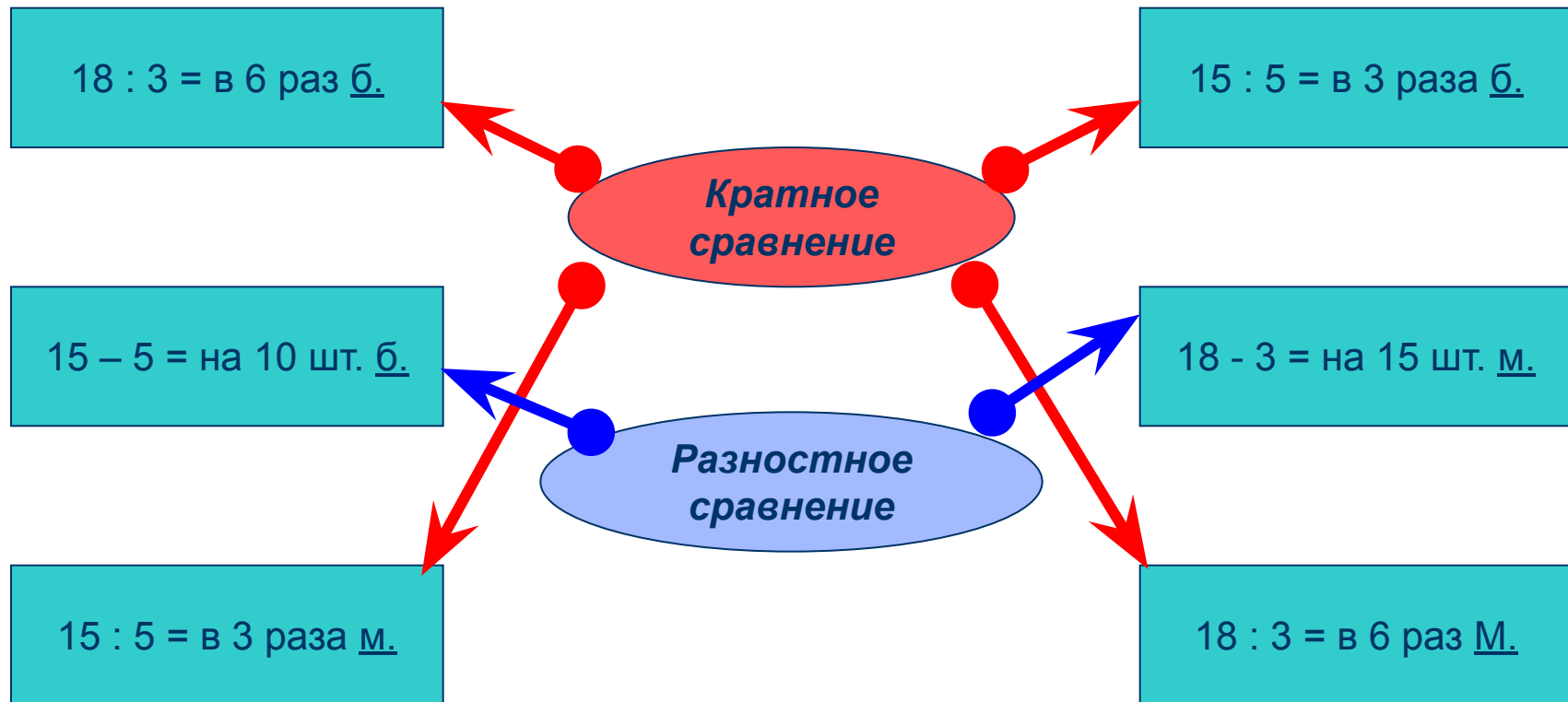
$24 - 8 = 16$ на 16 велосипедов больше, чем машин



$24 - 8 = 16$ машин меньше, чем велосипедов




УЗНАЙ ВИД ЗАДАЧИ ПО ЕГО РЕШЕНИЮ



Составь задачу по краткой записи:



21 шт.



7 шт.



Что означает каждое из выражений:


$$21 \ ? \ 7$$


$$21 - 7$$

Назови вид задачи.

Чтобы узнать, на сколько одно число больше или меньше другого, нужно:

