

РЕШЕНИЕ ЗАДАЧ

© ГУСАКОВА Ю.А.

Учитель

начальной школы

Гимназия № 446

Санкт-Петербург

2007




Реши задачу:



Ослята питаются молоком матери 16 недель, а тигрята – 8 недель.

Во сколько раз меньше питаются молоком матери тигрята?

Чтобы узнать *во сколько раз* одно число больше или меньше другого нужно:




Решение:

$$16 : 8 =$$

в 2 (раза)

Ответ: тигрята питаются молоком матери
в 2 раза меньше, чем ослята.

Реши задачу:



Ослята питаются молоком матери 16 недель, а тигрята – 8 недель.

Во сколько раз дольше
питаются молоком матери ослята?

Решение:

$$16 : 8 =$$

в 2 (раза)

Ответ: ослята питаются молоком матери
в 2 раза дольше, чем тигрята.

СОСТАВЬ ЗАДАЧУ НА КРАТНОЕ СРАВНЕНИЕ



24 ШТ.



8 ШТ.



СОСТАВЬ ЗАДАЧУ НА РАЗНОСТНОЕ СРАВНЕНИЕ

?



24 шт.



8 шт.





КРАТНОЕ СРАВНЕНИЕ

ВО СКОЛЬКО РАЗ БОЛЬШЕ...?

ВО СКОЛЬКО РАЗ МЕНЬШЕ...?



РАЗНОСТНОЕ СРАВНЕНИЕ


НА СКОЛЬКО ЕДИНИЦ
БОЛЬШЕ...?

НА СКОЛЬКО ЕДИНИЦ
МЕНЬШЕ...?




Решение задачи:

$24 : 8 =$ в 3 раза меньше машин, чем велосипедов.




$24 : 8 =$ в 3 раза больше велосипедов, чем машин.



Решение задач:

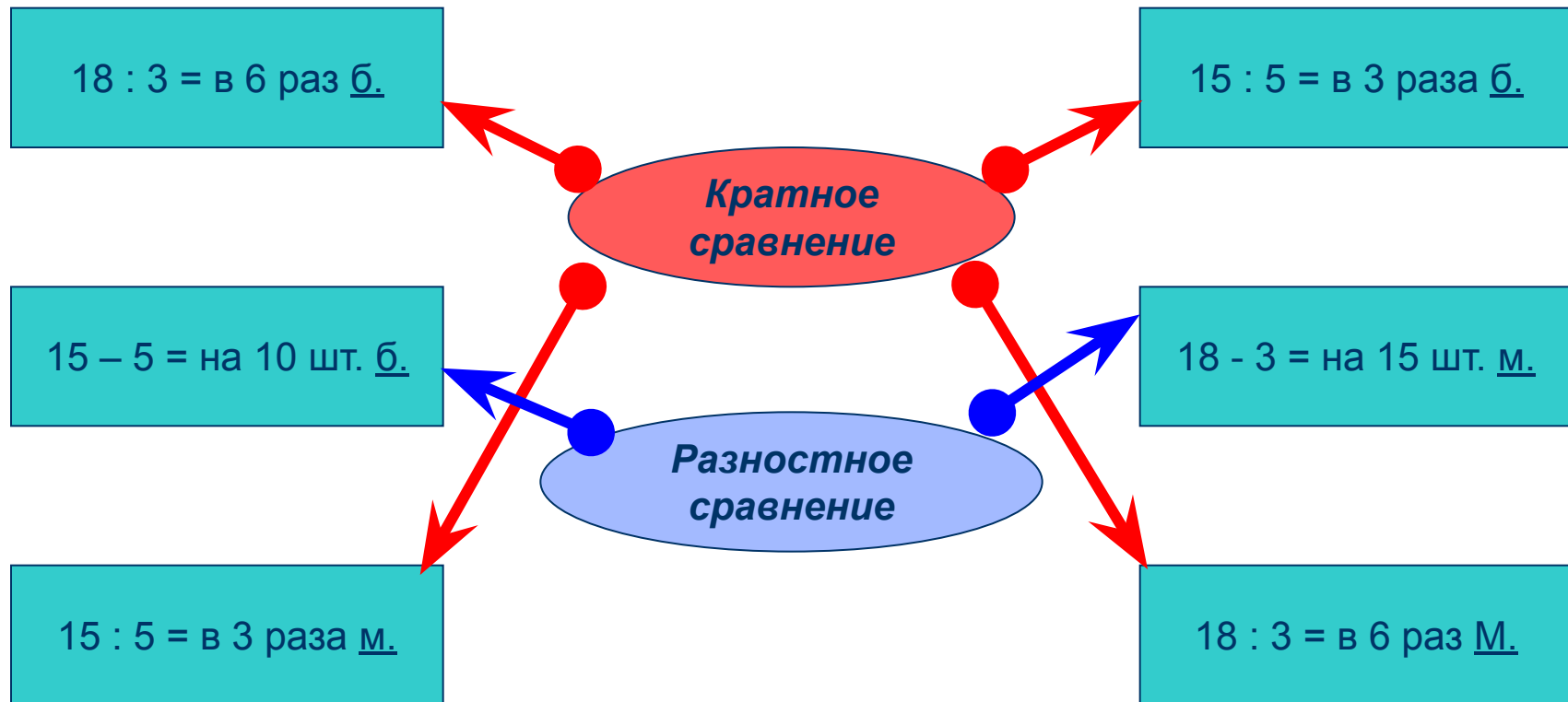
$24 - 8 = 16$ на 16 велосипедов больше, чем машин



$24 - 8 = 16$ машин меньше, чем велосипедов





УЗНАЙ ВИД ЗАДАЧИ ПО ЕГО РЕШЕНИЮ



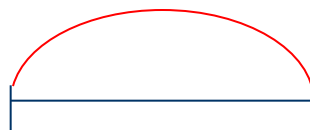
Составь задачу по краткой записи:




21 шт.



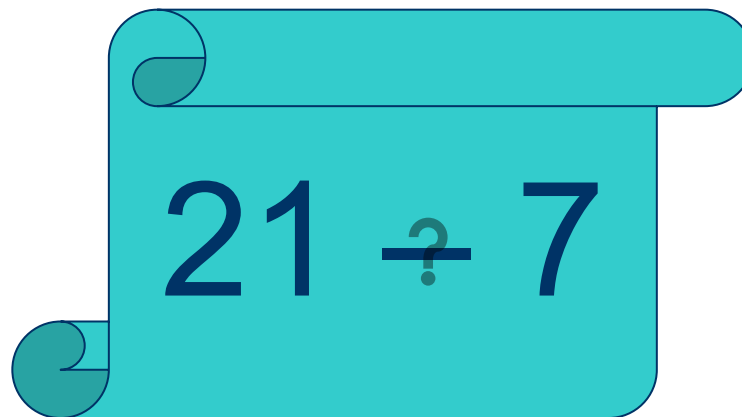
7 шт.



Что означает каждое из выражений:



21 :
7 ?



21 ÷ 7

Назови вид задачи.

Чтобы узнать, на сколько одно
число больше или меньше другого,
нужно:

