

**Решение задач на  
увеличение (уменьшение)  
числа на несколько  
единиц.**

**« Вот звонок нам дал сигнал:**

**Поработать час настал.**

**Так что время не теряем**

**И работать начинаем»**



Назови все числа по порядку,  
начиная с наименьшего

10

1

3

8

4

7

2

5

9

6

Назови все числа по порядку,  
начиная с наименьшего

18

12

14

11

17

20

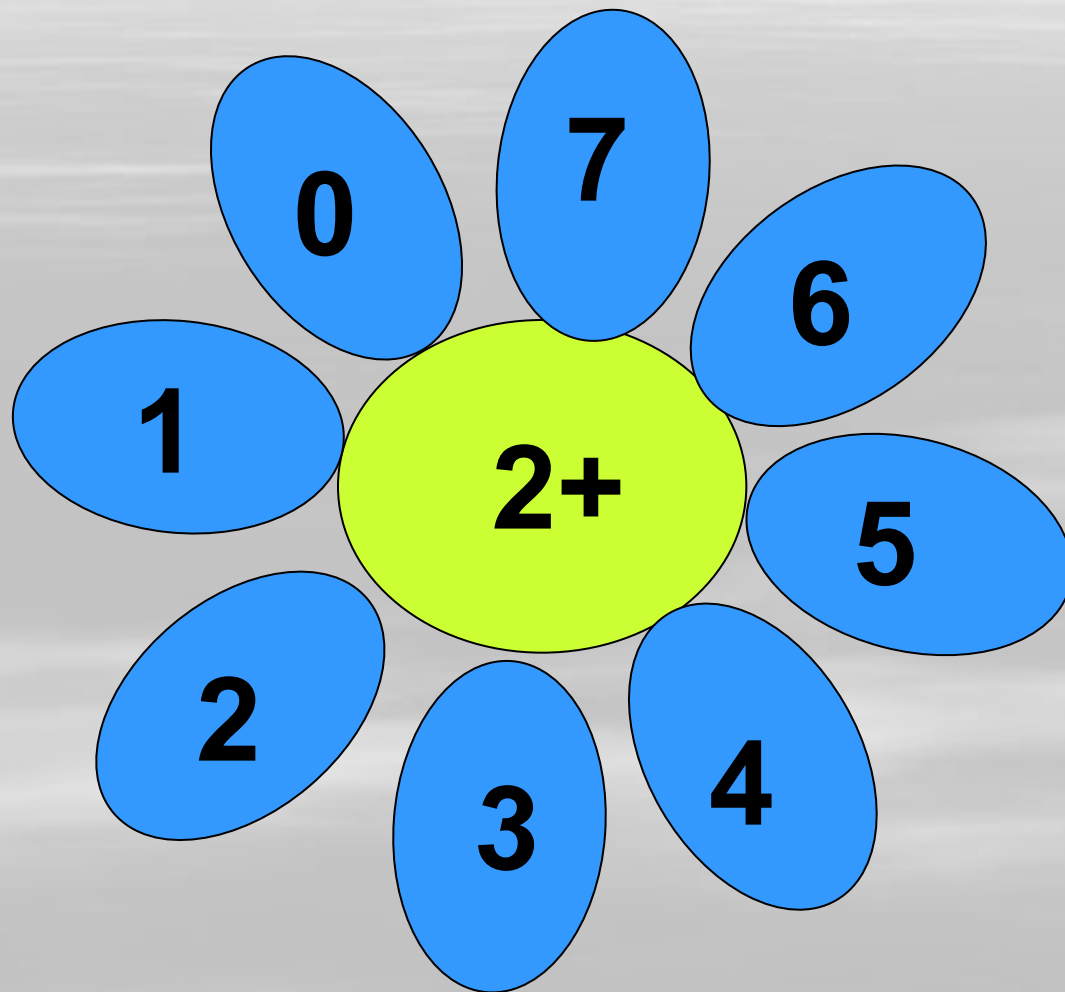
16

15

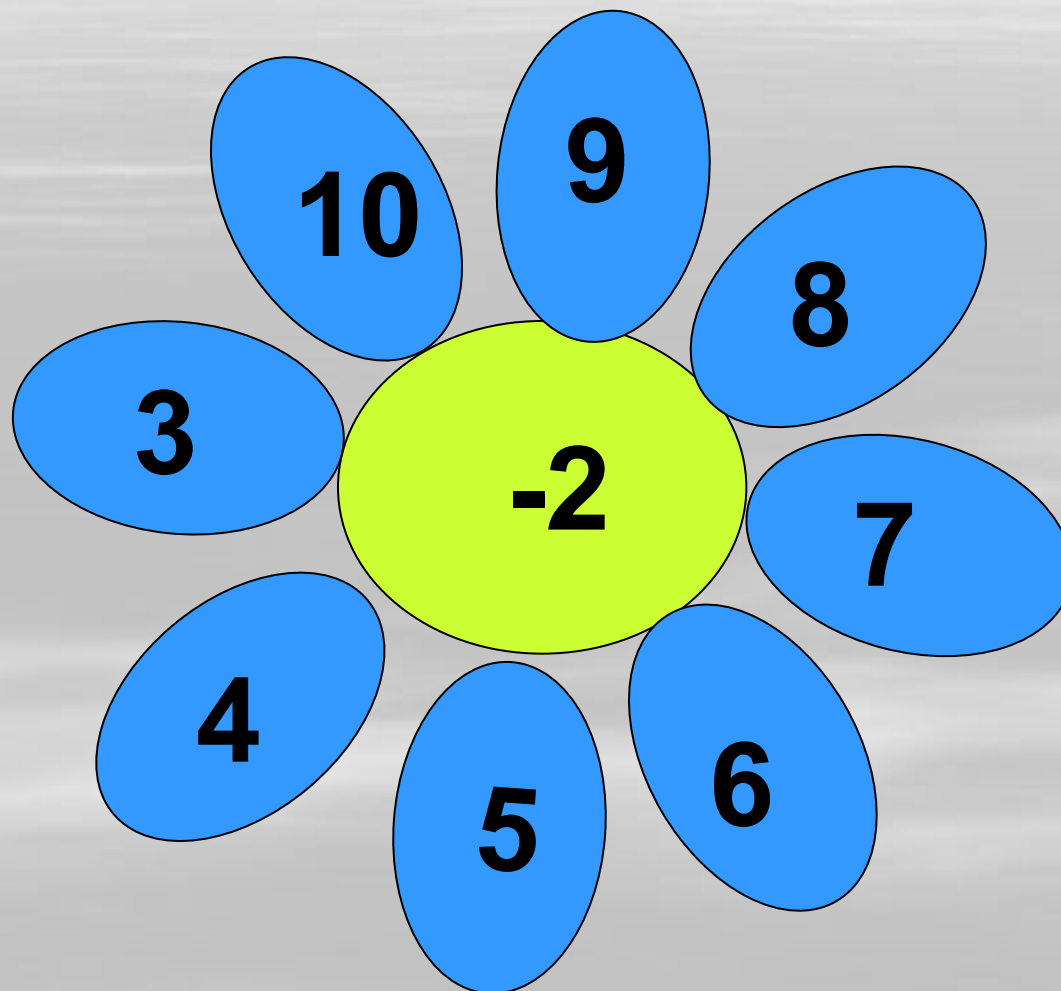
19

13

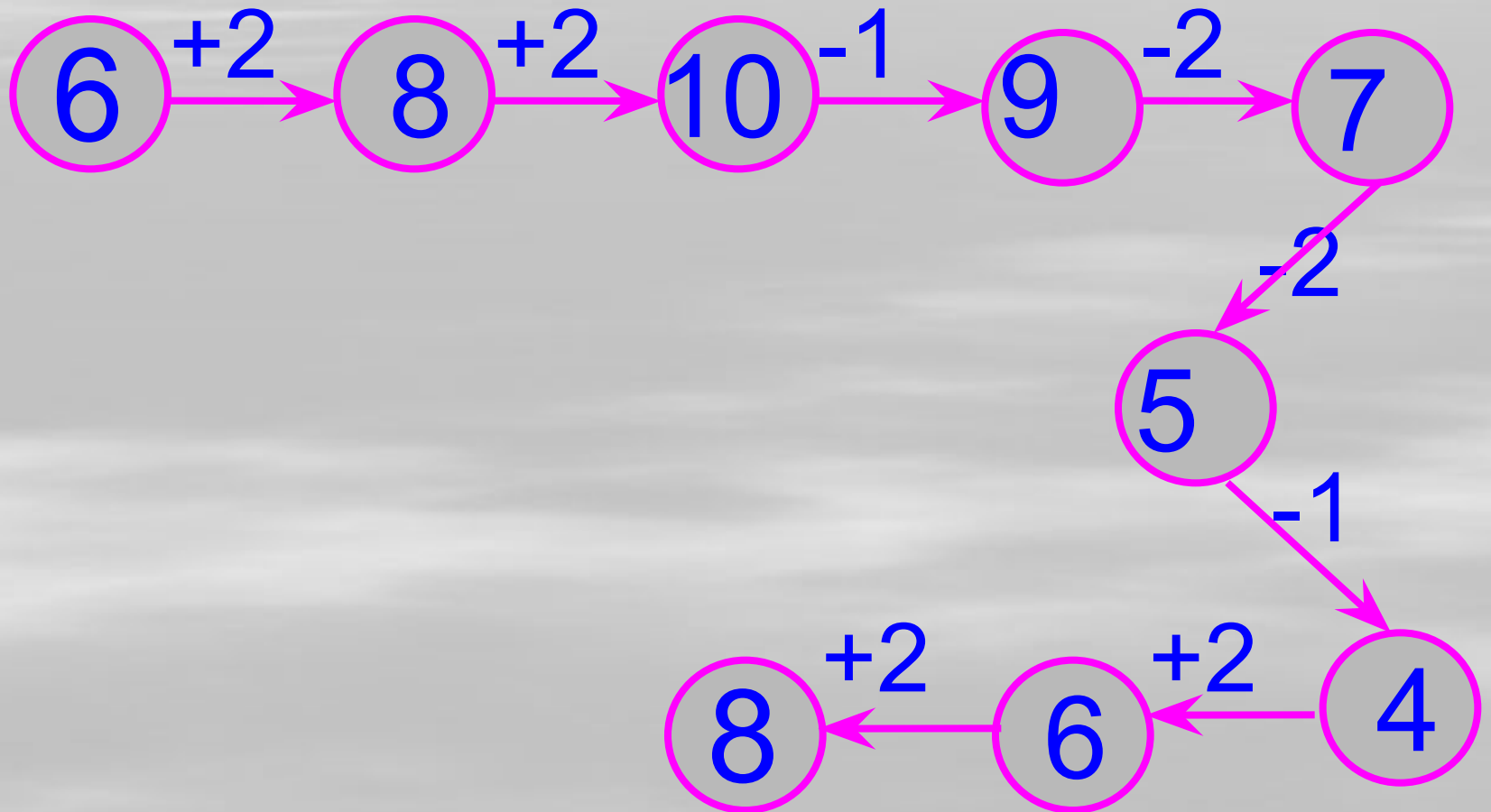
# Игра «Прибавляем к 10»



# Игра « Вычитаем из 10»



А теперь посчитаем!



**УСЛОВИЕ**

**ВОПРОС**

**РЕШЕНИЕ**





**ОТВЕТ**



**Задача.**

**Квадратов 2, а кругов столько же.**

**Сколько всего квадратов и  
кругов?**



**Решение.**

$$2 + 2 = 4 \text{ (к.и к.)}$$

**Ответ: 4к.и к.**


На ветке сидели 4 птицы. К ним прилетели еще 2 птицы. Сколько всего птиц на ветке?



**Решение:  $4 + 2 = 6$ (п.)**

**Ответ: 6 птиц.**

Маша купила 8 конфет. 2  
конфетки она отдала маме.  
Сколько конфет у нее  
осталось?




# Танцуют все!



**Руки согнуты в локтях,  
качаем головой и двигаем телом**



# Возьми соседа за руки



Делай, как мы!





А теперь, как я!







**Всё!**



**У меня получилось...**





**Молодцы !**