

# Урок математики:

## «Решение задач на встречное движение»



Найдите равные величины

**72 ч**

**30 сут**

**720 ч**

**300 сут**

**7200 ч**

**3 сут**

**2400 м**



**24 км**

**240 дм**

**24 м**

**24000 м**

**2 км 400 м**



*Исключи «лишнее»*

**15 км, 15 км/ч, 15 м, 15 дм**

**25 км/ч, 45 км/ч, 25 км/мин,**

**35 км/ч**

## Задача



**180** км/ч, это в **3** р.б.

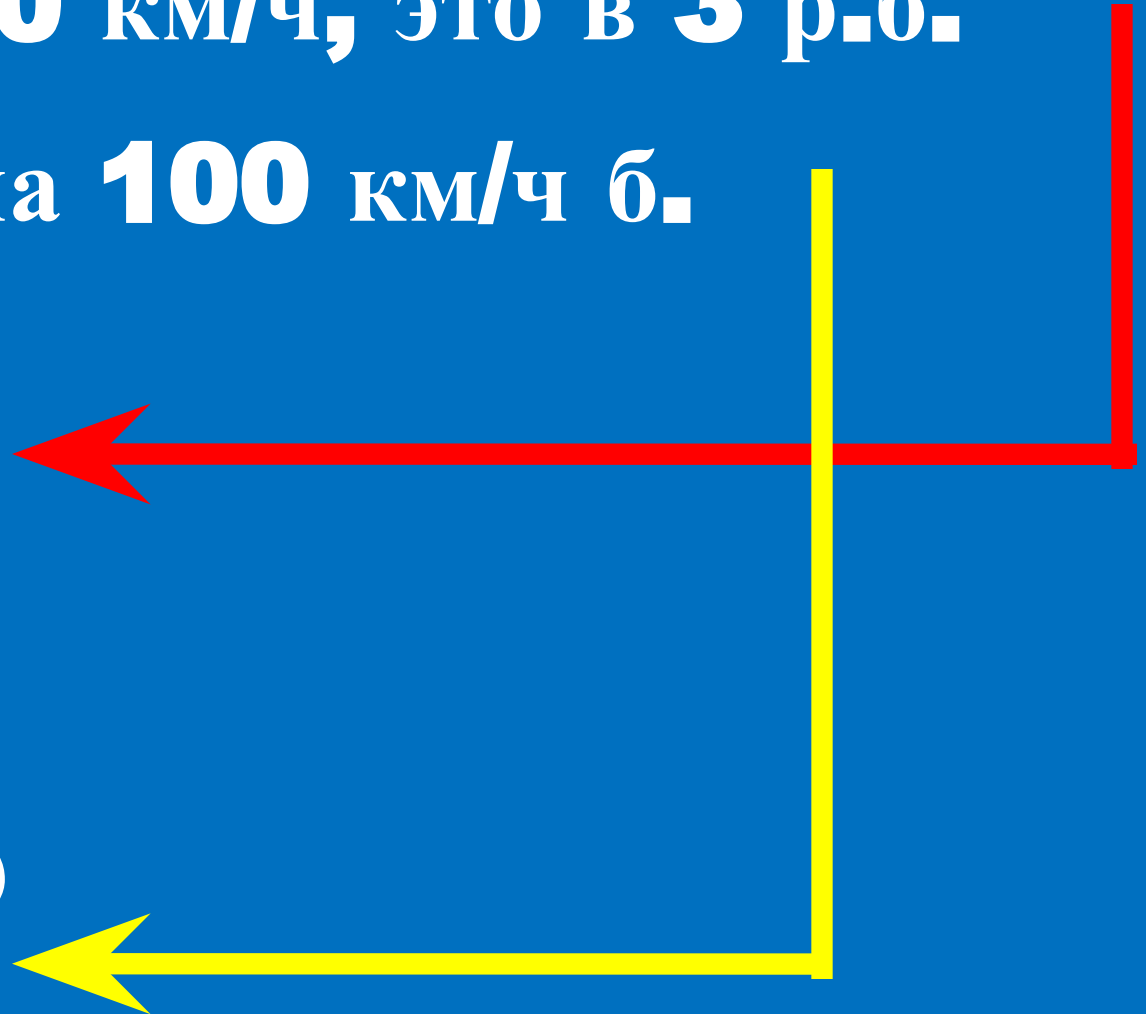
и на **100** км/ч б.



?



?



## Задача



$v$	$t$	$s$
<b>?</b>	<b>7c</b>	<b>300</b> M
<b>?</b>	<b>?</b>	<b>1200</b> M

## Задача



**8 м/с**



**11 м/с**

## № 432

- 1.** Сколько времени поезда были в пути?
- 2.** Сколько времени был