



# Математика


## 3 класс, II четверть

Тема урока  
Решение задач.



Мы пришли сюда учиться,  
не лениться, а трудиться,  
работаем - старательно,  
слушаем - внимательно.

- Будем думать.
- Сравнить.
- Делать выводы.
- Решать задачи.



# Логическая разминка.

1, 2, 4, 7, 11, 16, 22, 29, 37, 46, 56.

2, 4, 8, 14, 22, 32, 44, 58, 74, 92, 112.



# Сравни, не вычисляя

$$9 \cdot 2 = 2 \cdot 9$$


$$3 \cdot 4 < 3 \cdot 5$$

$$12 : 4 < 12 : 3$$

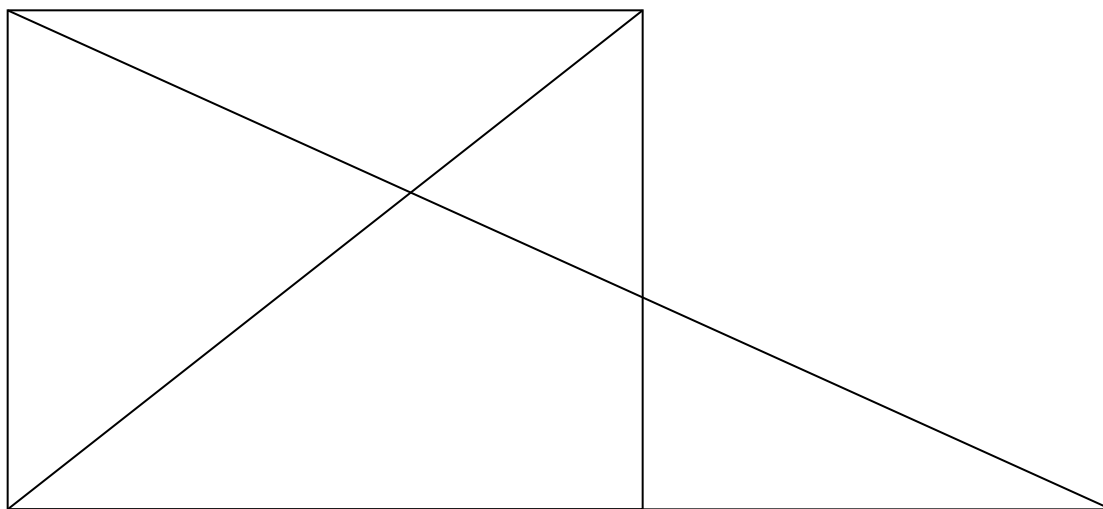

$$12 : 1 > 10 : 1$$

$$44 + 13 > 44 - 13$$


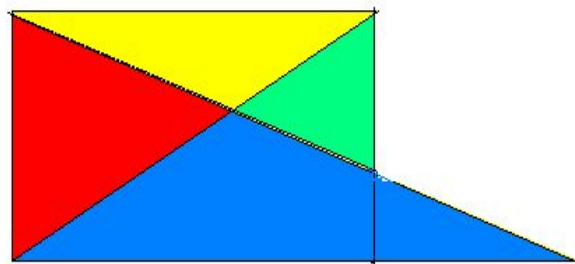

$$60 - 2 > 60 - 20$$



Сосчитай, сколько  
треугольников?


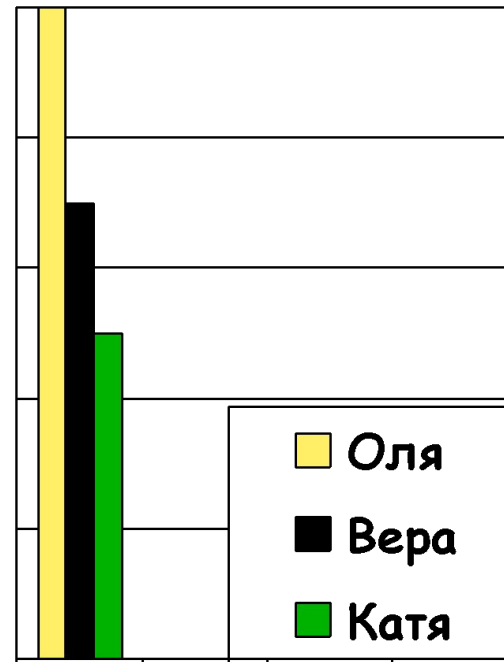


СЧИТАЙ ВНИМАТЕЛЬНО!



# Задача на смекалку!

- Вера выше, чем Катя, но ниже, чем Оля. Кто ниже всех?




# Задача на смекалку!

- Что тяжелее: 6 пакетов крупы по 2 кг или 2 листа железа по 6 кг?





# Сравни задачи!

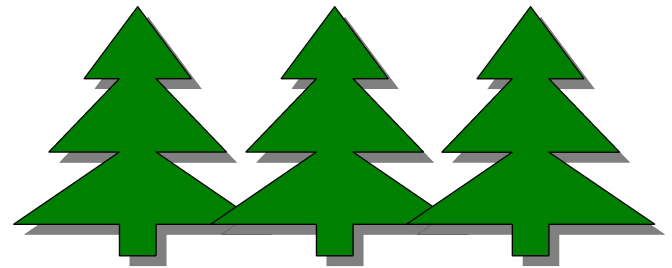




- К празднику привезли 4 большие елки, а маленьких на 3 елочки больше. Сколько маленьких елочек привезли?
- К празднику привезли 4 большие елки, а маленьких в 3 раза больше. Сколько маленьких елочек привезли?




Сколько маленьких елочек?

$$4 + 3$$




Сколько всего елочек?

$$(4 + 3) + 4$$

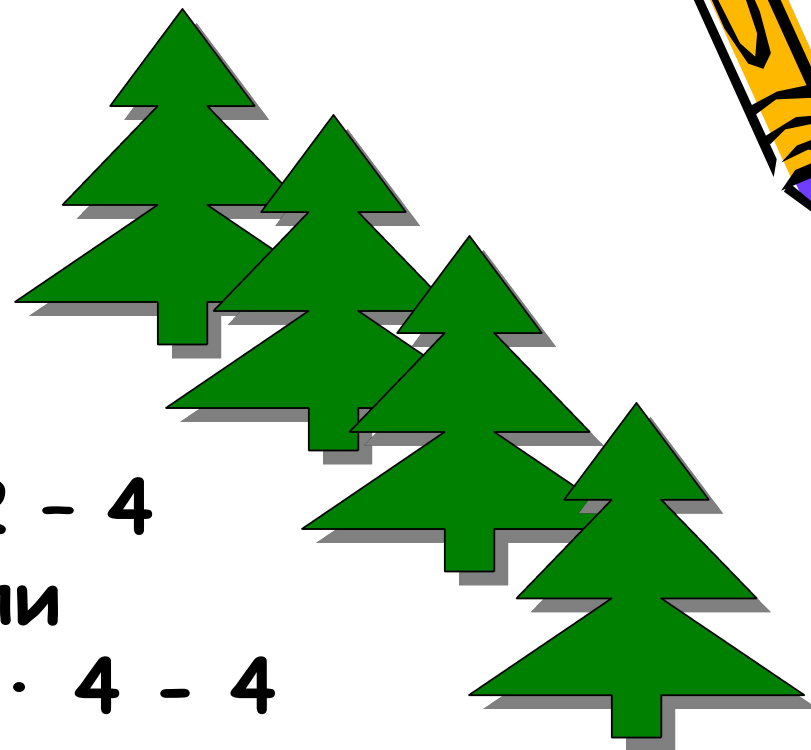


Сколько маленьких елочек?



$$3 \cdot 4$$


На сколько больших елок  
меньше, чем маленьких?



$$12 - 4$$

или

$$3 \cdot 4 - 4$$



Сколько всего елочек?

$$3 \cdot 4 + 4$$



## Какой вопрос лишний?

В концерте участвовало 5 мальчиков,  
а девочек в 2 раза больше.



- 1) Сколько девочек участвовало в концерте?
- 2) Сколько всего ребят участвовало в концерте?
- 3) На сколько больше было девочек, чем мальчиков?
- 4) Во сколько раз больше девочек, чем мальчиков?
- 5) Сколько ребят не участвовали в концерте?

$$2 \cdot 5 - 5$$

$$2 \cdot 5$$

$$2 \cdot 5 + 5$$



В школьную столовую привезли 36 кг  
яблок, по 9 кг в ящике. Сколько  
ящиков яблок привезли в столовую?

Правильно ли заполнена таблица?

Кг в 1 ящике	Кол - во ящИКОВ	Всего кг
36 кг	9 кг	?



. :




Коля купил 4 альбома по 8 рублей, а Ирина купила 5 тетрадей по 3 рубля. Кто заплатил больше и на сколько?

Какое решение задачи является правильным?

$$4 + 8 + 5 + 3 = 20 \text{ (руб.)}$$

$$4 \cdot 8 + 5 \cdot 3 = 47 \text{ (руб.)}$$

$$4 \cdot 8 - 5 \cdot 3 = 17 \text{ (руб.)}$$



# Итог урока:

- Сравнить.
- Рассуждать.
- Делать выводы.
- Ставить к задаче вопросы.
- Решать задачи.